

**КОНТРОЛЬНО-ОЦЕНОЧНЫЕ СРЕДСТВА ПО ПРОГРАММЕ
ПОДГОТОВКИ СПЕЦИАЛИСТОВ СРЕДНЕГО ЗВЕНА ПО
СПЕЦИАЛЬНОСТИ СРЕДНЕГО ПРОФЕССИОНАЛЬНОГО
ОБРАЗОВАНИЯ
46.02.01 ДОКУМЕНТАЦИОННОЕ ОБЕСПЕЧЕНИЕ УПРАВЛЕНИЯ И
АРХИВОВЕДЕНИЕ**

- ОД.01 Русский язык
- ОД.02 Литература
- ОД.03 Математика
- ОД.04 Иностранный язык
- ОД.05 Информатика
- ОД.06 Физика
- ОД.07 Химия
- ОД.08. Биология
- ОД.09 История
- ОД.10. Обществознание
- ОД.11 География
- ОД.12 Физическая культура
- ОД.13 Основы безопасности и защиты Родины

МИНИСТЕРСТВО ПРОФЕССИОНАЛЬНОГО ОБРАЗОВАНИЯ
И ЗАНЯТОСТИ НАСЕЛЕНИЯ ПРИМОРСКОГО КРАЯ

**краевое государственное автономное
профессиональное образовательное учреждение
«Дальнегорский индустриально-технологический колледж»**

**КОМПЛЕКТ КОНТРОЛЬНО-ОЦЕНОЧНЫХ СРЕДСТВ
ОБЩЕОБРАЗОВАТЕЛЬНОЙ ДИСЦИПЛИНЫ**

ОД.01 РУССКИЙ ЯЗЫК

подготовки специалистов среднего звена

код специальности 46.02.01 Документационное обеспечение управления и архивоведение

Дальнегорск 2024 год

Комплект контрольно-оценочных средств разработан на основе Федерального государственного образовательного стандарта среднего общего образования с учетом Федерального государственного образовательного стандарта среднего профессионального образования по специальности 46.02.01 Документационное обеспечение управления и архивоведение базового уровня подготовки программы общеобразовательной дисциплины (далее – дисциплина) русский язык.

Разработчики:

Организация-разработчик: КГА ПОУ «ДИТК»

Разработчик: Довгаль Ольга Ивановна, преподаватель

Комплексный экзамен

1. Форма проведения: письменная.

2. Условия выполнения

1. Инструкция для обучающихся.

2. Время выполнения: 180 минут.

3. Оборудование учебного кабинета: экзаменационный материал; посадочные места по количеству обучающихся.

4. Технические средства обучения: нет.

5. Информационные источники, допустимые к использованию на экзамене нет.

6. Требования охраны труда: соблюдение СанПиН.

3. Пакет материалов

3.1. Перечень изученных разделов, выносимых на экзамен:

Раздел 1. Общие сведения о языке.

Раздел 2 Язык и речь. Культура речи.

Раздел 3. Фонетика. Орфоэпия. Орфоэпические нормы.

Раздел 4. Лексикология и фразеология. Лексические нормы

Раздел 5. Морфемика и словообразование. Словообразовательные нормы.

Раздел 6 Морфология. Морфологические нормы.

Раздел 7 Орфография. Основные правила орфографии.

Раздел 8 Речь. Речевое общение.

Раздел 9 Текст. Информационно-смысловая переработка текста

Раздел 10 Язык и речь. Культура речи. Синтаксис. Синтаксические нормы.

Раздел 11 Пунктуация. Основные правила пунктуации.

Раздел 12. Функциональная стилистика. Культура речи.

3.2. Перечень заданий, выносимых на экзамен:

I. — Всего хорошего мессир, — произн...ела она (в)слух, а сама подумала: «Только (бы) выберат... ся отсюда, а там уж я дойду до реки и утоплюсь».

— Сядьте(ка), — вдруг пов...лительно сказал Воланд. Маргарита изменилась в лице и села.

— Может быть что(нибудь) хотите сказать на прощанье?

— Нет, ничего, мессир, — с гордостью ответила Маргарита, — кроме того, что если я еще нужна вам, то я готова охотно исполнить все что вам будет угодно. Ян...чуть н... устала и очень в...селилась на балу. Так что, если бы он и пр...должался еще я охотно бы пр... доставила мое колено для того, чтобы к нему пр... кладывались тысячи висельников и убийц. — Маргарита глядела на Воланда, как сквозь пелену, глаза ее наполнялись слезами.

— Верно! Вы совершенно правы! — гулко и страшно пр...кричал Воланд. — Так и надо!

— Так и надо! — как эхо, повторила свита Воланда.

— Мы вас испытывали — продолжал Воланд — н...когда и н...чего н... просите!

Н...когда и н...чего, и в особенности у тех кто с...льнее вас. Сами пр...дложат и сами все дадут! Садитесь гордая женщина!

II. 1) Воланд сорвал тяжелый халат с Маргариты, и опять она оказалась сидящей рядом с ним на постели.

— (2) Итак, Марго, — продолжал Воланд, смягчая свой голос, — чего вы хотите за то, что сегодня вы были у меня хозяйкой? (3) Чего желаете за то, что провели этот бал нагой?

(4) Во что цените ваше колено? (5) Каковы убытки от моих гостей, которых вы сейчас наименовали висельниками? (6) Говорите! (7) И теперь уж говорите без стеснения: ибо

предложил я.

(8) Сердце Маргариты застучало, она тяжело вздохнула, стала соображать что-то.

— (9)Ну, что же, смелее! — поощрял Воланд. — Будите свою фантазию, прищипоривайте ее! (11)Уж одно присутствие при сцене убийства этого отпетого негодяя-барона стоит того, чтобы человека наградили, в особенности если этот человек — женщина. (12)Ну-с?

Ш. Дух перехватило у Маргариты, и она уж хотела выговорить заветные и приготовленные в душе слова, как вдруг побледнела, раскрыла рот и вытаращила глаза. «Фрида! — прокричал² ей в уши чей-то назойливый, молящий голос. — Меня зовут Фрида!» —И Маргарита, спотыкаясь на словах, заговорила:

— Так я, стало быть, могу попросить об одной вещи?

— Потребовать, потребовать, моя донна, — отвечал Воланд, понимающе улыбаясь, — потребовать одной вещи!

Ах, как ловко¹ и отчетливо Воланд подчеркнул, повторяя слова самой Маргариты — «одной вещи»!

Маргарита вздохнула еще раз и сказала:

— Я хочу, чтобы Фриде перестали подавать тот платок, которым она удушила своего ребенка.⁴

Кот возвел глаза к небу и шумно вздохнул, но ничего не сказал, очевидно, помня накрученное на балу ухо

.-Ввиду того, — заговорил Воланд, усмехнувшись, — что возможность получения вами взятки от этой дуры Фриды совершенно, конечно, исключена — ведь это было бынесовместимо с вашим королевским достоинством, — я уж не знаю, что и делать. Остается, пожалуй, одно — обзавестись тряпками и заткнуть ими все щели моей спальни!

— Вы о чем говорите, мессир? — изумилась Маргарита, выслушав эти действительно непонятные слова.

— Совершенно с вами согласен, мессир, — вмешался в разговор кот, — именно тряпками, — ив раздражении кот стукнул лапой по столу.

— Я о милосердии говорю, — объяснил свои слова Воланд, не спуская с Маргариты огненного глаза. — Иногда совершенно неожиданно и коварно оно пролезает в самые узенькие щелки. Вот я и говорю о тряпках.

Часть А

1. Перепишите первую часть текста, вставляя пропущенные буквы, раскрывая скобки и расставляя пропущенные знаки препинания.

Часть В

2. Из второй части текста выпишите номера вопросительных предложений.

3. Как объяснить постановку запятой в данном предложении: (Укажите букву с правильным ответом)

Воланд сорвал тяжелый халат с Маргариты, и опять она оказалась сидящей рядом с ним на постели.

а) запятая разделяет два простых предложения в составе сложносочиненного;

б) запятая разделяет два простых предложения в составе сложноподчиненного;

в) запятая разделяет однородные члены в составе простого предложения;

г) запятая выделяет обособленное определение.

4. Из второй части текста выпишите номер предложения с обращением.

5. Подберите антонимы к словам из второй части теста: убытки, тяжелый, говорите, смелее.

6. В выделенном предложении из третьей части укажите грамматическую(ие) основу(ы).
7. Среди предложений 2-7 из второй части текста найдите предложение с деепричастным оборотом. Укажите номер этого предложения.
8. Н...чего, н...чуть, н...когда. Как объяснить правописание приставок в этих словах?

Часть С

Расположите по степени важности пункты инструкции по правилам обеспечения безопасного и эффективного проведения горных и взрывных работ. Сформулируйте и запишите цель инструкции. (главное слово- имя существительное)

Инструкция по правилам обеспечения безопасного и эффективного проведения горных и взрывных работ.

- Завершение работ и контроль: а) проверка безопасности перед завершением; б) документирование.

- Охрана окружающей среды: а) мониторинг воздействия; б) системы предотвращения аварий.

Система аварийного реагирования: а) план действий при аварии; б) коммуникация и оповещение.

1 Подготовка перед началом работ: а) оценка рабочей обстановки; б) планирование работ; обучение и тренировка персонала.

- Безопасность персонала: а) личные защитные средства; б) обучение по эвакуации

- Система аварийного реагирования: а) план действий при аварии; б) коммуникация и оповещение.

- Использование оборудования: а) выбор оборудования; б) обслуживание и техническое обслуживание.

4.Эталоны ответов на практические задания.

Часть А

1.. —Всего хорошего, мессир, — произнесла она вслух, а сама подумала, -Только бы выбраться отсюда, а там уж я дойду до реки и утоплюсь».

—Сядьте-ка, — вдруг повелительно сказал Воланд. Маргарита изменилась в лице и села.

— Может быть, что-нибудь хотите сказать на прощанье?

— Нет, ничего, мессир, — с гордостью ответила Маргарита, — кроме того, что если я еще нужна вам, то я готова охотно исполнить все, что вам будет угодно. Я ничуть не устала и очень веселилась на балу. Так что, если бы он и продолжался еще, я охотно бы пре доставила мое колено для того, чтобы к нему прикладывались тысячи висельников и убийц.

— Маргарита глядела на Воланда, как сквозь пелену, глаза ее наполнялись слезами.

— Верно! «Вы совершенно правы!» — гулко и страшно прокричал Воланд. — Так и надо!

— Так и надо! — как эхо, повторила свита Воланда.

— Мы вас испытывали, — продолжал Воланд, — никогда и ничего не просите!

- Никогда и ничего, и в особенности у тех, кто сильнее вас. Сами предложат и сами все дадут!

Часть В

2. 2345612, 3. А, 4. 2

5. убытки - прибыль

тяжелый- легкий

говорите- молчите

смелее– боязливее

6. Дух перехватило, и она хотела выговорить, побледнела, раскрыла и вытаращила.

7. 2

8. Ничего, ничуть, никогда. В отрицательных местоимениях и местоименных наречиях в приставке пишется и, если на нее не падает ударение.

Часть С

Инструкция по правилам обеспечения безопасного и эффективного проведения горных и взрывных работ.

Цель: обеспечение безопасности и эффективности при проведении горных и взрывных работ для минимизации рисков и обеспечения благоприятных условий труда.

1. Подготовка перед началом работ: а) оценка рабочей обстановки; б) планирование работ; обучение и тренировка персонала.

2. - Использование оборудования: а) выбор оборудования; б) обслуживание и техническое обслуживание.

3. Безопасность персонала: а) личные защитные средства; б) обучение по эвакуации

4. - Охрана окружающей среды: а) мониторинг воздействия; б) системы предотвращения аварий.

5. Система аварийного реагирования: а) план действий при аварии; б) коммуникация и оповещение.

6. Завершение работ и контроль: а) проверка безопасности перед завершением; б) документирование

4.Комплект материалов.

5.Экзаменационная ведомость.

6.Критерии оценки ответов обучающихся

Оценка 5 «отлично» ставится за правильное выполнение 100%-90% заданий части А, В, С

Оценка 4 «хорошо» ставится за правильное выполнение 89%- 66% заданий части А, В, С

Оценка 3 «удовлетворительно» ставится за правильное выполнение 65%- 50% заданий тестовой части А,

Оценка 2 «неудовлетворительно» ставится за правильное выполнение менее 50% заданий тестовой части А.

МИНИСТЕРСТВО ПРОФЕССИОНАЛЬНОГО ОБРАЗОВАНИЯ
И ЗАНЯТОСТИ НАСЕЛЕНИЯ ПРИМОРСКОГО КРАЯ

**краевое государственное автономное
профессиональное образовательное учреждение
«Дальнегорский индустриально-технологический колледж»**

КОМПЛЕКТ КОНТРОЛЬНО-ОЦЕНОЧНЫХ СРЕДСТВ
ДЛЯ ПРОВЕДЕНИЯ СТАРТОВОЙ ДИАГНОСТИКИ ПО
ОБЩЕОБРАЗОВАТЕЛЬНОЙ ДИСЦИПЛИНЕ

ОД.01 РУССКИЙ ЯЗЫК

подготовки специалистов среднего звена

код специальности 46.02.01 Документационное обеспечение управления и архивоведение

Дальнегорск 2024 г.

Комплект контрольно-оценочных средств разработан на основе Федерального государственного образовательного стандарта среднего общего образования с учетом Федерального государственного образовательного стандарта среднего профессионального образования по специальности 46.02.01 Документационное обеспечение управления и архивоведение базового уровня подготовки программы общеобразовательной дисциплины (далее – дисциплина) русский язык.

1. Условия проведения: стартовая диагностика.
2. Метод (форма) контроля: диктант.
3. Количество вариантов для проведения контроля: 1.
4. Время выполнения заданий: 45 минут.
5. Оборудование: ТСО, ручка, тетрадь.
6. Учебно-методическая и справочная литература: нет.
7. Условия приема контрольных заданий преподавателем: письменно по завершении выполнения.
8. Порядок подготовки и проведения стартовой диагностики в рамках учебного занятия по расписанию, входной контроль преподаватель осуществляет самостоятельно.

Текст диктанта

История Дальнегорского района

Родина. Среди тысяч и тысяч ее городов, деревень, сел и аулов есть на Дальнем Востоке в горных отрогах Сихотэ - Алиня город Дальнегорск. Название Дальнегорск идет от того, что город находится за дальними далями, за горными перевалами, у берега Японского моря.

Каждый год в сентябре наш родной город отмечает свой день рождения. Первые жители современного Дальнегорского района на малых лодках добрались из бухты Ольга до Рудной Пристани, которая в то время имела, естественно, другое название, образовав здесь первые поселения.

Выходцы из села Лида, что в Белоруссии, заложили деревню Лидовка. Переселенцы, до предела измучившиеся в долгом пути и облюбовавшие для себя широкую пойму плодородных земель, назвали свое село Отрадным. Позже оно было переименовано в Мономахово в честь князя Владимира Мономаха, крестившего Русь.

Была на карте и деревня под названием Эстонка, основанная выходцами из Эстонии. Была Монастырка. Много было здесь ссыльных поляков, высланных на край России после знаменитого польского восстания.

В конце девятнадцатого века приглашенный купцом Юлием Бринером геолог Сергей Масленников, получивший образование в Германии, разведкал первые горнорудные месторождения. С тысячи девятьсот второго года начался вывоз руды из Тетюхе в Германию и Голландию. Руду до пристани рудокопы сначала выносили на себе или нанимали для этого китайцев, потом построили узкоколейку, по которой тянули вагонетки конной тягой, потому что не было еще паровоза приобретено. Это были первые шаги будущего «Дальполиметалла».

В 1946 году в небольшой таежный поселок Тетюхе высадился первый геологический десант, задачей которого стала разведка уникального месторождения боросодержащих руд. Через тринадцать лет после этого события горно -химический комбинат «Бор» выдал свою первую продукцию.

(249 слов)

9. Текст диктанта «История Дальнегорского района» является эталоном ответа.

10. Критерии оценки

Оценка 5 «отлично» выставляется за безошибочную работу, а также при наличии в ней одной негрубой орфографической или одной негрубой пунктуационной ошибки.

Оценка 4 «хорошо» выставляется при наличии в диктанте двух орфографических и двух пунктуационных ошибок, или 1 орфографической и 3-х пунктуационных ошибок или 4-х пунктуационных ошибок при отсутствии орфографических ошибок.

Оценка 4 «хорошо» может выставляться при 3-х орфографических ошибках, если среди них есть однотипные.

Оценка 3 «удовлетворительно» выставляется за диктант, в котором допущены 4 орфографические и 4 пунктуационные ошибки или 3 орфографические и 5 пунктуационных ошибок или 7 пунктуационных ошибок при отсутствии орфографических ошибок.

Оценка 3 «удовлетворительно» может быть поставлена также при наличии 6 орфографических и 6 пунктуационных ошибок, если среди тех и других имеются однотипные и негрубые ошибки.

Оценка 2 «неудовлетворительно» выставляется за диктант, в котором допущено до 7 орфографических и 7 пунктуационных ошибок, или 6 орфографических и 8 пунктуационных ошибок, или 5 орфографических и 9 пунктуационных ошибок, или 8 орфографических и 6 пунктуационных ошибок.

МИНИСТЕРСТВО ПРОФЕССИОНАЛЬНОГО ОБРАЗОВАНИЯ
И ЗАНЯТОСТИ НАСЕЛЕНИЯ ПРИМОРСКОГО КРАЯ

**краевое государственное автономное
профессиональное образовательное учреждение
«Дальнегорский индустриально-технологический колледж»**

**КОМПЛЕКТ КОНТРОЛЬНО-ОЦЕНОЧНЫХ СРЕДСТВ
ОБЩЕОБРАЗОВАТЕЛЬНОЙ ДИСЦИПЛИНЫ
ОД. 02 ЛИТЕРАТУРА**

подготовки специалистов среднего звена

код специальности 46.02.01 Документационное обеспечение управления и архивоведение

Дальнегорск 2024

Комплект контрольно-оценочных средств разработан на основе Федерального государственного образовательного стандарта среднего общего образования с учетом Федерального государственного образовательного стандарта среднего профессионального образования по специальности 46.02.01 Документационное обеспечение управления и архивоведение базового уровня подготовки программы общеобразовательной дисциплины (далее – дисциплина) литература.

Разработчики:

Организация-разработчик: КГА ПОУ «ДИТК»

Разработчик: Довгаль Ольга Ивановна, преподаватель русского языка и литературы.

Комплексный экзамен

1. Форма проведения: письменная

2. Условия выполнения

Время выполнения задания: 180 минут

Оборудование учебного кабинета: материалы работы; посадочные места по количеству обучающихся

Технические средства обучения: нет.

Требования охраны труда: соблюдение СанПиН.

3. Пакет материалов:

3.1. Перечень разделов, выносимых на комплексный экзамен:

Раздел 3. Литература конца XIX – начала XX века.

Раздел 4. Литература XX века.

Раздел 5. Проза второй половины XX – начала XXI века

3.2. Темы практико-ориентированных заданий

Часть А

№ 1. Прочитайте отрывок и выполните задания после текста.

I. —Всего хорошего мессир, — произн...ела она (в)слух, а сама подумала: «Только (бы) выбрат... ся отсюда, а там уж я дойду до реки и утоплюсь».

—Сядьте(ка), — вдруг пов...лительно сказал Воланд. Маргарита изменилась в лице и села.

— Может быть что(нибудь) хотите сказать на прощанье?

— Нет, ничего, мессир, — с гордостью ответила Маргарита, — кроме того, что если я еще нужна вам, то я готова охотно исполнить все что вам будет угодно. Ян...чуть н... устала и очень в...селилась на балу. Так что, если бы он и пр...должался еще я охотно бы пр... доставила мое колено для того, чтобы к нему пр... кладывались тысячи висельников и убийц. — Маргарита глядела на Воланда, как сквозь пелену, глаза ее наполнялись слезами.

— Верно! Вы совершенно правы! — гулко и страшно пр...кричал Воланд. — Так и надо!

— Так и надо! — как эхо, повторила свита Воланда.

— Мы вас испытывали— продолжал Воланд — н...когда и н...чего н... просите!

Н...когда и н...чего, и в особенности у тех кто с...льнее вас. Сами пр...дложат и сами все дадут! Садитесь гордая женщина!

II. 1) Воланд сорвал тяжелый халат с Маргариты, и опять она оказалась сидящей рядом с ним на постели.

— (2) Итак, Марго, — продолжал Воланд, смягчая свой голос, — чего вы хотите за то, что сегодня вы были у меня хозяйкой? (3)Чего желаете за то, что провели этот бал нагой?

(4) Во что цените ваше колено?(5) Каковы убытки от моих гостей, которых вы сейчас наименовали висельниками? (6)Говорите! (7) И теперь уж говорите без стеснения: ибо предложил я.

(8) Сердце Маргариты застучало, она тяжело вздохнула, стала соображать что-то.

— (9)Ну, что же, смелее! — поощрял Воланд. — Будите свою фантазию, прищпоривайте ее! (11)Уж одно присутствие при сцене убийства этого отпетого негодяя-барона стоит того, чтобы человека наградили, в особенности если этот человек — женщина. (12)Ну-с?

III. Дух перехватило у Маргариты, и она уж хотела выговорить заветные и приготовленные в душе слова, как вдруг побледнела, раскрыла рот и вытаращила глаза.

«Фрида! — прокричал ей в уши чей-то назойливый, молящий голос. — Меня зовут Фрида!» — И Маргарита, спотыкаясь на словах, заговорила:

— Так я, стало быть, могу попросить об одной вещи?

— Потребовать, потребовать, моя донна, — отвечал Воланд, понимающе улыбаясь, — потребовать одной вещи!

Ах, как ловко и отчетливо Воланд подчеркнул, повторяя слова самой Маргариты — «одной вещи»!

Маргарита вздохнула еще раз и сказала:

— Я хочу, чтобы Фриде перестали подавать тот платок, которым она удушила своего ребенка.⁴

Кот возвел глаза к небу и шумно вздохнул, но ничего не сказал, очевидно, помня накрученное на балу ухо

.-Ввиду того, — заговорил Воланд, усмехнувшись, — что возможность получения вами взятки от этой дуры Фриды совершенно, конечно, исключена — ведь это было бы несовместимо с вашим королевским достоинством, — я уж не знаю, что и делать. Остается, пожалуй, одно — обзавестись тряпками и заткнуть ими все щели моей спальни!

— Вы о чем говорите, мессир? — изумилась Маргарита, выслушав эти действительно непонятные слова.

— Совершенно с вами согласен, мессир, — вмешался в разговор кот, — именно тряпками, — и в раздражении кот стукнул лапой по столу.

— Я о милосердии говорю, — объяснил свои слова Воланд, не спуская с Маргариты огненного глаза. — Иногда совершенно неожиданно и коварно оно пролезает в самые узенькие щелки. Вот я и говорю о тряпках.

1. Укажите автора и название произведения, из которого взят данный отрывок.

2. К какому жанру относится данное произведение? Укажите букву с правильным ответом.

а) комедия б) роман в) очерк г) автобиография

3. Известно, что в романе литературоведы находят три основных мира. Найдите четвёртое лишнее.

а) древний иршелаимский б) вечный потусторонний в) фантастический

г) современный московский

4 Кто из героев знает, что победитель всегда одинок, что у него есть только враги и завистники, ему нет равных, нет человека, с которым ему захотелось бы поговорить, его называют свирепым чудовищем, и он этим даже похваляется, ведь миром правит закон силы?

а) Понтий Пилат б) Воланд в) Берлиоз г) Коровьев

5. Во время допроса Иешуа Понтий Пилат обнаруживает, что его ум не слушается его больше. Он задаёт обвиняемому вопрос, который не нужно задавать на суде. Что это за вопрос?

а) Что есть власть? б) Что есть жизнь? в) Что есть истина? г) Что есть талант?

6. Какой порок Воланд считает самым тяжким?

а) ложь б) трусость в) предательство г) прелюбодеяние

7. Кому принадлежат слова «Рукописи не горят»?

а) Маргарите б) Мастеру в) Иешуа г) Воланду

8. В романе есть несколько ключевых слов, связанных с основными идеями художественного мира писателя, в частности: истина, вера, свобода. Найдите в

приведённом фрагменте ещё одно, означающее готовность помочь или простить кого-то из сострадания или соображений гуманности, и запишите его в начальной форме.

Часть В

- 1.. Почему Марго оказалась хозяйкой бала у Сатаны? Дайте связный ответ на вопрос.
2. Объясните, как вы понимаете лексическое значение слова милосердие.

Часть С

Расположите по степени важности пункты инструкции по правилам обеспечения безопасного и эффективного проведения горных и взрывных работ. Сформулируйте и запишите цель инструкции. (главное слово- имя существительное)

Инструкция по правилам обеспечения безопасного и эффективного проведения горных и взрывных работ.

- Завершение работ и контроль: а) проверка безопасности перед завершением; б) документирование.

- Охрана окружающей среды: а) мониторинг воздействия; б) системы предотвращения аварий.

Система аварийного реагирования: а) план действий при аварии; б) коммуникация и оповещение.

- Подготовка перед началом работ: а) оценка рабочей обстановки; б) планирование работ; обучение и тренировка персонала.

- Безопасность персонала: а) личные защитные средства; б) обучение по эвакуации

- Система аварийного реагирования: а) план действий при аварии; б) коммуникация и оповещение.

- Использование оборудования: а) выбор оборудования; б) обслуживание и техническое обслуживание.

3.3 Эталоны ответов на практические задания

Часть А

№ 1.М. Булгаков «Мастер и Маргарита»

2.б, 3. в, 4.а, 5 в, 6. б,7. г

8. милосердие

Часть В

Какие-то качества Маргариты делают ее совершенно необходимой для бальной церемонии. На поверхности лежит один мотив – нужна «королева».

Конечно, Маргарита – не невинная девушка, но по меркам сего века она почти безгрешна, и многое должно быть ей прощено, потому что она много любила. Совершенно недвусмысленно Маргарита готова отдать за любимого свою душу. Кроме того, что не менее важно, в ней течет особая королевская кровь, мистически связанная с богоустановленной и церковноосвященной властью. Именно по этим причинам Маргарита – вполне подходящий объект для ритуального осквернения со стороны нечистой силы, стремящейся установить в мире свою власть.

Толстяк, повстречавшийся Маргарите по дороге на бал, назвал ее «светлой королевой Марго» и «залопотал, мешая русские фразы с французскими, какой-то вздор про кровавую свадьбу своего друга в Париже Гессара, и про коньяк... »

Маргарита Валуа (1553-1615) в 1572 г. вышла замуж за короля Наваррского — будущего короля Франции Генриха IV (1553-1610), причем «ее свадьба, отпразднованная с большой пышностью, закончилась Варфоломеевской ночью, или парижской кровавой свадьбой» , когда погибли тысячи протестантов-гугенотов. Историческая Маргарита Валуа осталась

бездетной, и Маргарита, следовательно, не могла быть ее потомком. Поэтому Булгаков связал королеву бала с другой французской королевой — Маргаритой Наваррской (1492-1549), имевшей потомство. Она была «светлой королевой» — известной писательницей, автором сборника «Гептамерон» (1559), написанного в духе «Декамерона». Обе исторические Маргариты покровительствовали писателям и поэтам, и булгаковская Маргарита оказывается связана с гениальным Мастером, извлечения которого из лечебницы она добивается после бала у сатаны.

№ 4. МИЛОСЕРДИЕ - Готовность оказать помощь, проявить снисхождение из сострадания, человеколюбия, а также сама помощь, снисхождение, вызванные такими чувствами.

Часть С

Инструкция по правилам обеспечения безопасного и эффективного проведения горных и взрывных работ.

Цель: обеспечение безопасности и эффективности при проведении горных и взрывных работ для минимизации рисков и обеспечения благоприятных условий труда.

1. Подготовка перед началом работ: а) оценка рабочей обстановки; б) планирование работ; обучение и тренировка персонала.
2. - Использование оборудования: а) выбор оборудования; б) обслуживание и техническое обслуживание.
3. Безопасность персонала: а) личные защитные средства; б) обучение по эвакуации
4. - Охрана окружающей среды: а) мониторинг воздействия; б) системы предотвращения аварий.
5. Система аварийного реагирования: а) план действий при аварии; б) коммуникация и оповещение.
6. Завершение работ и контроль: а) проверка безопасности перед завершением; б) документирование
4. Критерии оценки ответов обучающихся

Оценка «5» ставится за правильное выполнение 100%-90% заданий тестовой части и ответ на один из проблемных вопросов, обнаруживающий прочные знания и глубокое понимание текста изучаемого произведения, стройный по композиции, логичный и последовательный в изложении мыслей; написанный правильным литературным языком и стилистически соответствующий содержанию.

Оценка «4» ставится за правильное выполнение 89%- 66% заданий тестовой части и ответ на один из проблемных вопросов, достаточно полно и убедительно раскрывающий тему, обнаруживающий хорошее знание литературного материала, а также делать выводы и обобщения; логичное и последовательное изложение содержания; написанный правильным литературным языком, стилистически соответствующий содержанию. Допускаются две-три неточности в содержании, незначительные отклонения от темы, а также не более трех - четырех речевых недочетов.

Оценка «3» ставится за правильное выполнение 65%- 40% заданий тестовой части.

Оценка «2» ставится за правильное выполнение менее 40% заданий тестовой части.

5. Экзаменационная ведомость

Приложение № 1

МИНИСТЕРСТВО ПРОФЕССИОНАЛЬНОГО ОБРАЗОВАНИЯ
И ЗАНЯТОСТИ НАСЕЛЕНИЯ ПРИМОРСКОГО КРАЯ

**краевое государственное автономное
профессиональное образовательное учреждение
«Дальнегорский индустриально-технологический колледж»**

КОМПЛЕКТ КОНТРОЛЬНО-ОЦЕНОЧНЫХ СРЕДСТВ
ДЛЯ ПРОВЕДЕНИЯ СТАРТОВОЙ ДИАГНОСТИКИ ПО
ОБЩЕОБРАЗОВАТЕЛЬНОЙ ДИСЦИПЛИНЕ

ОД.02 ЛИТЕРАТУРА

подготовки специалистов среднего звена

код специальности 46.02.01 Документационное обеспечение управления и архивоведение

Дальнегорск 2024

Комплект контрольно-оценочных средств разработан на основе Федерального государственного образовательного стандарта среднего общего образования с учетом Федерального государственного образовательного стандарта среднего профессионального образования по специальности 46.02.01 Документационное обеспечение управления и архивоведение базового уровня подготовки программы общеобразовательной дисциплины (далее – дисциплина) литература

1. Условия проведения: стартовая диагностика.
2. Метод (форма) контроля: диктант.
3. Количество вариантов для проведения контроля: 1.
4. Время выполнения заданий: 45 минут.
5. Оборудование: ТСО, ручка, тетрадь.
6. Учебно-методическая и справочная литература: нет.
7. Условия приема контрольных заданий преподавателем: письменно по завершении выполнения.
8. Порядок подготовки и проведения стартовой диагностики в рамках учебного занятия по расписанию, входной контроль преподаватель осуществляет самостоятельно.

Часть А.

1. Какой принцип является лишним для классицизма:
 - а) единство языка
 - б) единство действия
 - в) единство места
2. Где происходит действие пьесы «Горе от ума»:
 - а) в городе Н
 - б) в доме Фамусова
 - в) в доме Чацкого
3. Определите жанровую принадлежность произведения «Горе от ума»
 - а) роман в стихах
 - б) трагедия
 - в) комедия
4. Кто из героинь романа «Евгений Онегин»
Дика печальна молчалива, ...
Она в семье своей родной
Казалась девочкой чужой ...
 - а) Татьяна,
 - б) няня Татьяны,
 - в) Ольга
5. Как Онегин узнает о любви Татьяны:
 - а) из письма Ольги
 - б) ему рассказал Ленский
 - в) из письма Татьяны
6. Какое произведение сделало имя Лермонтова знаменитым:
 - а) «Смерть поэта»
 - б) «Парус»
 - в) «Герой нашего времени»
7. Какого помещика Чичиков посетил первым:
 - а) Манилова

- б) Ноздрева
- в) Коробочку

8. Какой наказ дал отец Чичикову (Н. В. Гоголь «Мертвые души»)?

- а) «береги копейку»
- б) «верно служи Отчизне»
- в) «береги честь смолоду»

Часть В

1. Соотнесите определение образно-выразительного средства и понятие:

1) аллегория	а) вид комического
2) мораль	б) перенесение свойств человека (лица) на неодушевленные предметы, явления природы или животных.
3) рассказ	в) сочетание противоположных по значению слов с целью необычного выражения какого-либо нового понятия, представления (сочетание несочетаемого)
4) олицетворение	г) литературное произведение нравоучительного характера
5) оксюморон	д) троп, выражение отвлеченных понятий в конкретных художественных образах. Используется в баснях былинах сказках.
6) басня	е) небольшое по объёму произведение, содержащее малое количество действующих лиц, а также, чаще всего, имеющее одну сюжетную линию.
7) юмор	ж) система нравственных норм, регулирующая поведение человека.
8) эпитет	з) слово или словосочетание, служащее образной характеристикой какого-либо лица, явления или предмета.
<i>Максимальное количество баллов 8 баллов</i>	

2. Распределите стихотворения по тематике

а) пейзажная	1. «Во глубине сибирских руд»
б) философская	2. «Памятник»
в) свободолюбивая	3. «К Чаадаеву»
г) назначение поэта и поэзии	4. «Пророк»
д) дружба	5. «Я помню чудное мгновенье»
е) любовь	6. «Зимнее утро»
<i>Максимальное количество баллов</i>	6 баллов

Часть С

Что означает фраза «Глаголом жги сердца людей»?

1. Зачем А. С. Пушкин использует в данном стихотворении многочисленные церковнославянизмы и устаревшие слова?

Прочитайте приведённое ниже произведение и выполните задание С.1 или С.2,

ПРОРОК

Духовной жаждою томим,
В пустыне мрачной я влачился, —
И шестикрылый серафим
На перепутье мне явился.
Перстами лёгкими, как сон,
Моих зениц коснулся он.
Отверзлись вещие зеницы,
Как у испуганной орлицы.
Моих ушей коснулся он, —
И их наполнил шум и звон:
И внял я неба содроганье,
И горний ангелов полёт,
И гад морских подводный ход,
И дольней лозы прозябанье.
И он к устам моим приник
И вырвал грешный мой язык,
И празднословный и лукавый,
И жало мудрыя змеи
В уста замершие мои
Вложил десницею кровавой.
И он мне грудь рассек мечом,
И сердце трепетное вынул,
И угль, пылающий огнём,
Во грудь отверстую во двинул.
Как труп в пустыне я лежал,
И Бога глас ко мне воззвал:
«Восстань, пророк, и виждь, и внемли
Исполнись волею моей,
И, обходя моря и земли,
Глаголом жги сердца людей».

3. Эталоны ответов

Часть А

1- а, 2 -б, 3 -а, 4 -а, 5 -в, 6 -а, 7 -а, 8 -а, 9 -а

Часть В

1) аллегория	д) троп, выражение отвлеченных понятий в конкретных художественных образах. Используется в баснях былинах сказках.
2) мораль	ж) система нравственных норм, регулирующая поведение человека.

3) рассказ	е) небольшое по объёму произведение, содержащее малое количество действующих лиц, а также, чаще всего, имеющее одну сюжетную линию.
4) олицетворение	б) перенесение свойств человека (лица) на неодушевленные предметы, явления природы или животных
5) оксюморон	в) сочетание противоположных по значению слов с целью необычного выражения какого-либо нового понятия, представления (сочетание несочетаемого)
6) басня	г) литературное произведение нравоучительного характера.
7) юмор	а) вид комического
8) эпитет	з) слово или словосочетание, служащее образной характеристикой какого-либо лица, явления или предмета.

Максимальный балл 14 баллов

а) пейзажная	6. «Зимнее утро»
б) философская	4. «Пророк»
в) свободолюбивая	3. «К Чаадаеву»
г) назначение поэта и поэзии	2. «Памятник»
д) дружба	1. «Во глубине сибирских руд»
е) любовь	5. «Я помню чудное мгновенье»

За каждый правильный ответ части В -1 балл

Часть С

С.1 В стихотворении «Пророк» Пушкин раскрывает тему «поэта и поэзии». Поэт для Пушкина — обыкновенный смертный человек, но отличается от всех тем, что ему дано видеть, слышать, понимать то, что неподвластно любому человеку. Именно поэтому поэт должен словом — «глаголом», достучаться до каждого сердца, неся людям правду, свет, добро. В этом и заключается смысл фразы «Глаголом жги сердца людей».

С.2 Важная для Пушкина тема пророческого служения поэта людям раскрывается в стихотворении высоким, торжественным слогом, изобилующим церковнославянизмами и устаревшими словами. Это связано, прежде всего, с тем, что в основу сюжета стихотворения легла библейская легенда о пророке Исае, своеобразно переосмысленная поэтом. Передать замысел Пушкина — показать поэта как пророка, проповедника Всевышней воли на земле — и помогает особый язык стихотворения, обращающий нас к упомянутой части Библии — книге пророка Исаяи.

Максимальный балл за части А, В, С - 29 баллов (100%)

4. Критерии оценки ответов обучающихся.

Оценка 5 («отлично») ставится за правильное выполнение 100%-90% заданий тестовой части и ответ на один из проблемных вопросов, обнаруживающий прочные знания и глубокое понимание текста изучаемого произведения, стройный по композиции,

логичный и последовательный в изложении мыслей; написанный правильным литературным языком и стилистически соответствующий содержанию.

Оценка 4 («хорошо») ставится за правильное выполнение 89%- 66% заданий тестовой части и ответ на один из проблемных вопросов, достаточно полно и убедительно раскрывающий тему, обнаруживающий хорошее знание литературного материала, а также делать выводы и обобщения; логичное и последовательное изложение содержания; написанный правильным литературным языком, стилистически соответствующий содержанию. Допускаются две-три неточности в содержании, незначительные отклонения от темы, а также не более трех -четырёх речевых недочетов.

Оценка 3 («удовлетворительно») ставится за правильное выполнение 65%- 40% заданий тестовой части.

Оценка 2 («неудовлетворительно») ставится за правильное выполнение менее 40% заданий тестовой части.

**МИНИСТЕРСТВО ПРОФЕССИОНАЛЬНОГО ОБРАЗОВАНИЯ
И ЗАНЯТОСТИ НАСЕЛЕНИЯ ПРИМОРСКОГО КРАЯ**

**краевое государственное автономное
профессиональное образовательное учреждение
«Дальнегорский индустриально-технологический колледж»**

**КОМПЛЕКТ КОНТРОЛЬНО-ОЦЕНОЧНЫХ СРЕДСТВ
ОБЩЕОБРАЗОВАТЕЛЬНОЙ ДИСЦИПЛИНЫ
ОД.03 Математика**

подготовки специалистов среднего звена
код специальности 46.02.01 Документационное обеспечение управления и архивоведение

Дальнегорск, 2024 год

Комплект контрольно-оценочных средств разработан на основе Федерального государственного образовательного стандарта среднего общего образования с учетом Федерального государственного образовательного стандарта среднего профессионального образования по специальности 46.02.01 Документационное обеспечение управления и архивоведение базового уровня подготовки программы общеобразовательной дисциплины (далее – дисциплина) математика.

Разработчики:

Организация-разработчик: КГА ПОУ «ДИТК»

Разработчик: Потапочкина Лариса Ивановна, преподаватель математики.

Экзамен

1. Форма проведения: письменная, задания на расчёты

2. Условия выполнения:

Инструкция для обучающихся.

Время выполнения: 180 минут

Оборудование учебного кабинета: материалы экзамена, посадочные места по количеству обучающихся;

Технические средства обучения: не используются.

Информационные источники, допустимые к использованию на экзамене: нет.

Требования охраны труда: соблюдение СанПиН.

3. Пакет экзаменатора:

3.1 Перечень тем. Основы тригонометрии.

Тема 3. Многогранники

Тема 4. Тела вращения

Тема 2. Действительные числа

Тема 3. Степенная функция

Тема 4. Показательная функция

Тема 5. Логарифмическая функция

Тема 6. Тригонометрические формулы

Тема 7. Тригонометрические уравнения

Тема 8. Тригонометрические функции

Тема 10. Производная и ее геометрический смысл

Тема 11. Применение производной к исследованию функции

Тема 13. Уравнения и неравенства. Системы уравнений и неравенств

3.2 Практические задания к экзамену.

1. Найдите значение выражения $0,42: 0,3$

2. Найдите значение выражения $4^{2\sqrt{5}+4} \cdot 2^{-3-4\sqrt{5}}$.

3. В городе N живет 500000 жителей. Среди них 20% детей и подростков. Среди взрослых 25% не работает (пенсионеры, студенты, домохозяйки и т.п.). Сколько взрослых жителей работает?

4. Радиус окружности, описанной около треугольника, можно вычислить по формуле

$$R = \frac{a}{2 \sin \alpha},$$

где a — сторона, а α — противолежащий ей угол треугольника. Пользуясь этой

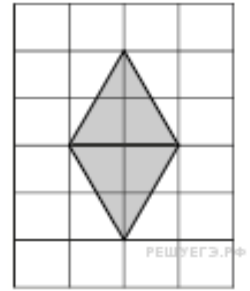
формулой, найдите R , если $a = 8$ и $\sin \alpha = \frac{1}{5}$.

5. Найдите значение выражения $\sqrt{63} \cdot \sqrt{7}$.

6. В летнем лагере 152 ребенка и 21 воспитатель. В автобус помещается не более 30 пассажиров. Сколько автобусов требуется, чтобы перевезти всех из лагеря в город?

7. Найдите корень уравнения $2^{1-4x} = 32$.

8. План местности разбит на клетки. Каждая клетка обозначает квадрат $1\text{ м} \times 1\text{ м}$. Найдите площадь участка, выделенного на плане. Ответ дайте в квадратных метрах.



9. Установите соответствие между величинами и их возможными значениями: к каждому элементу первого столбца подберите соответствующий элемент из второго столбца.

ВЕЛИЧИНЫ

ВОЗМОЖНЫЕ ЗНАЧЕНИЯ

- А) объём воды в озере Байкал
- Б) объём пакета кефира
- В) объём бассейна
- Г) объём ящика для фруктов

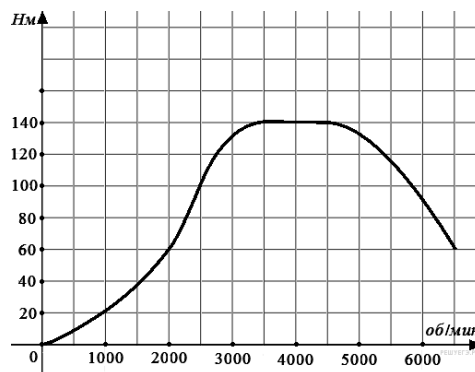
- 1) 1 л
- 2) 23 615,39 км³
- 3) 72 л
- 4) 600 м³

Запишите в ответ цифры, расположив их в порядке, соответствующем буквам:

А	Б	В	Г

10. Вычислить $\log_2 12 + \log_2 6 - \log_2 18$

11. На графике изображена зависимость крутящего момента автомобильного двигателя от числа его оборотов в минуту. На оси абсцисс откладывается число оборотов в минуту. На оси ординат — крутящий момент в Н·м. Чтобы автомобиль начал движение, крутящий момент должен быть не менее 60 Н·м. Какое наименьшее число оборотов двигателя в минуту достаточно, чтобы автомобиль начал движение?



12. Для обслуживания международного семинара необходимо собрать группу переводчиков. Сведения о кандидатах представлены в таблице.

Переводчики	Языки	Стоимость услуг (рублей в день)
-------------	-------	---------------------------------

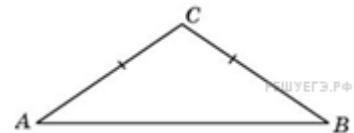
1	Немецкий, испанский	7000
2	Английский, немецкий	6000
3	Английский	3000
4	Английский, французский	6000
5	Французский	2000
6	Испанский	4000

Пользуясь таблицей, соберите хотя бы одну группу, в которой переводчики вместе владеют четырьмя иностранными языками: английским, немецким, французским и испанским, а суммарная стоимость их услуг не превышает 12 000 рублей в день. В ответе укажите ровно один набор номеров переводчиков без пробелов, запятых и других дополнительных символов.

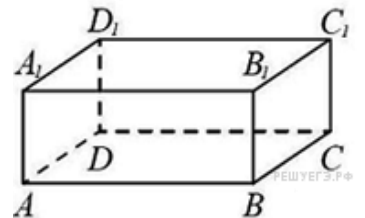
13. Найдите производную функции $f(x) = 5x^6 - 3x + 2$.

14. Даны два цилиндра. Радиус основания и высота первого равны соответственно 6 и 14, а второго — 2 и 3. Во сколько раз объём первого цилиндра больше объёма второго?

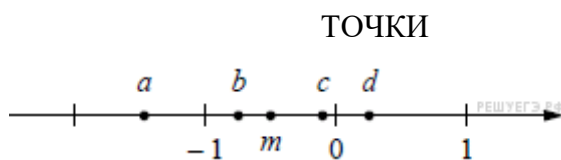
15. Один угол равнобедренного треугольника на 90° больше другого. Найдите меньший угол. Ответ дайте в градусах.



16. В прямоугольном параллелепипеде $ABCD A_1 B_1 C_1 D_1$ рёбра DA , DC и диагональ DA_1 равны соответственно 3, 5 и $\sqrt{34}$. Найдите объём параллелепипеда $ABCD A_1 B_1 C_1 D_1$.



17. На координатной прямой точками отмечены числа a , b , c , d и m . Установите соответствие между указанными точками и числами из правого столбца.



- ЧИСЛА
- 1) $m - \frac{1}{4}$
 - 2) $-\frac{m}{2}$
 - 3) $3m$
 - 4) m^3

Запишите в ответ цифры, расположив их в порядке, соответствующем буквам:

a	b	c	d
---	---	---	---

--	--	--	--

18. При взвешивании животных в зоопарке выяснилось, что буйвол тяжелее льва, медведь легче буйвола, а рысь легче льва. Выберите утверждения, которые следуют из приведённых данных.

- 1) Рысь легче медведя.
- 2) Буйвол самый тяжёлый из всех этих животных.
- 3) Медведь тяжелее льва.
- 4) Рысь легче буйвола.

В ответе запишите номера выбранных утверждений без пробелов, запятых и других дополнительных символов.

19. Найдите наибольшее значение функции $y = 2x^3 - 9x^2 - 3$ на отрезке $[-1; 2]$.

20. Решить уравнение $\sqrt{x+1} = x - 1$.

4.Эталон Ответов

1. 29; 2.32; 3. 300; 4. 20; 5. 21; 6. 6; 7. -1; 8. 4; 9. 2143; 10.2; 11.2000; 12. 256; 13. $30x^5 - 3$; 14. 42; 15. 30; 16. 75; 17. 3142; 18. 24; 19.-3; 20.3.

4.Экзаменационная ведомость

МИНИСТЕРСТВО ПРОФЕССИОНАЛЬНОГО ОБРАЗОВАНИЯ
И ЗАНЯТОСТИ НАСЕЛЕНИЯ ПРИМОРСКОГО КРАЯ

**краевое государственное автономное
профессиональное образовательное учреждение
«Дальнегорский индустриально-технологический колледж»**

КОМПЛЕКТ КОНТРОЛЬНО-ОЦЕНОЧНЫХ СРЕДСТВ ДЛЯ ПРОВЕДЕНИЯ
СТАРТОВОЙ ДИАГНОСТИ ПО ОБЩЕОБРАЗОВАТЕЛЬНОЙ ДИСЦИПЛИНЕ
ОД.03 МАТЕМАТИКА

подготовки специалистов среднего звена

код специальности 46.02.01 Документационное обеспечение управления и архивоведение

Разработчики:

Организация-разработчик: КГА ПОУ «ДИТК»

Разработчик: Потапочкина Лариса Ивановна, преподаватель математики

Дальнегорск, 2024 год

Комплект контрольно-оценочных средств разработан на основе Федерального государственного образовательного стандарта среднего общего образования с учетом Федерального государственного образовательного стандарта среднего профессионального образования по специальности 46.02.01 Документационное обеспечение управления и архивоведение базового уровня подготовки программы общеобразовательной дисциплины (далее – дисциплина) математика.

1. Условия проведения: стартовая диагностика.
2. Метод (форма) контроля - контрольная работа.
3. Количество вариантов для проведения контроля: 2.
4. Время выполнения заданий - 45 минут.
5. Оборудование, ТСО: ручка, линейка, ластик, карандаш.
6. Учебно-методическая и справочная литература: справочный материал.
7. Условия приема контрольных заданий преподавателем: письменно по завершению выполнения.
8. Порядок подготовки и проведения стартовой диагностики: в рамках учебного занятия по расписанию, контроль преподаватель осуществляет самостоятельно.

Задания для обучающихся по вариантам

Вариант 1

1. Решить уравнение: $3x^2 + 2x - 5 = 0$
2. Решить неравенство: $3(3x - 1) > 2(5x - 7)$
3. Решить систему уравнений:
$$\begin{cases} x + 5y = 7 \\ 3x + 2y = -5 \end{cases}$$
4. Вычислить: $\left(\frac{1}{5} - \frac{1}{6}\right) : (1 - 0,2) - 3\frac{23}{24}$
5. Представить в виде степеней и найти значение:
 $\frac{a^5 * a^{-8}}{a^{-2}}$, при $a = 6$
6. Построить график: $y = 2x + 1$
7. Товар на распродаже уценили на 30%. При этом он стал стоить 700 рублей. Сколько рублей стоил товар до распродажи?
8. Мощность постоянного тока (в ваттах) вычисляется по формуле $P = I^2R$, I – сила тока (в амперах), R – сопротивление (в омах). Пользуясь этой формулой, найдите сопротивление R , если мощность составляет 283,5 Вт, а сила тока равна 4,5 А. Ответ дайте в омах.

Вариант 2

1. Решить уравнение: $5x^2 - 3x - 2 = 0$
2. Решить неравенство: $5(x+4) < 2(4x - 5)$
3. Решить систему уравнений:
$$\begin{cases} 2x - 3y = 1 \\ 3x + y = 7 \end{cases}$$
4. Вычислить: $\left(\frac{5}{7} : \frac{2}{3} - \frac{1}{\frac{4}{3} \cdot \frac{2}{5}}\right) : \frac{8}{11} + 1$
5. Представить в виде степеней и найти значение:
 $\frac{c^7 * c^{-3}}{c^6}$, при $c = 4$
6. Построить график: $y = -2x + 1$

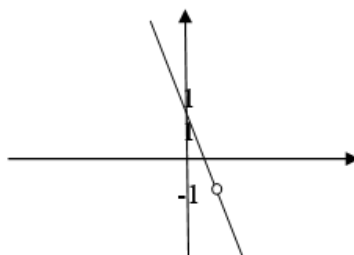
7. Банк начисляет на счет 15% годовых. Вкладчик положил на счет 700 рублей. Сколько рублей будет на этом счете через год, если никаких операций, кроме начисления процентов, со счетом проводиться не будет?

8. Мощность постоянного тока (в ваттах) вычисляется по формуле $P = I^2 R$, где I – сила тока (в амперах), R – сопротивление (в омах). Пользуясь этой формулой, найдите сопротивление R (в омах), если мощность составляет 6,75 Вт, а сила тока равна 1,5 А.

Эталоны ответов.

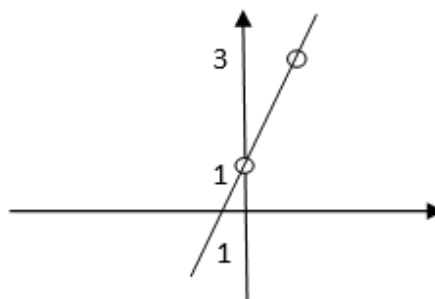
Вариант 1

1. 1; -12/3; 2. $(-\infty; 11)$; 3. $(-3; 2)$; 4. $-311/12$; 5. $1/6$; 7. 1000; 8. 14.
6.



Вариант 2

1. 1; -0,4; 2. $(10; +\infty)$; 3. $(2; 1)$; 4. 1; 5. $1/16$; 7. 805; 8. 3.
6.



Примечание: положительная оценка может быть выставлена при наличии хода решения расчётной задачи.

Критерии оценки

Оценка 5 «отлично» - 8 баллов.

Оценка 4 «хорошо» - 6-7 баллов.

Оценка 3 «удовлетворительно» - 4-5 баллов.

Оценка 2 «неудовлетворительно» - 0-3 балла.

**МИНИСТЕРСТВО ПРОФЕССИОНАЛЬНОГО ОБРАЗОВАНИЯ
И ЗАНЯТОСТИ НАСЕЛЕНИЯ ПРИМОРСКОГО КРАЯ**

**краевое государственное автономное
профессиональное образовательное учреждение
«Дальнегорский индустриально-технологический колледж»**

**КОМПЛЕКТ КОНТРОЛЬНО-ОЦЕНОЧНЫХ СРЕДСТВ
ОБЩЕОБРАЗОВАТЕЛЬНОЙ ДИСЦИПЛИНЫ**

ОД.03 ИНОСТРАННЫЙ ЯЗЫК

подготовки специалистов среднего звена

код специальности 46.02.01 Документационное обеспечение управления и архивоведение

Дальнегорск, 2024 год

Комплект контрольно-оценочных средств разработан на основе Федерального государственного образовательного стандарта среднего общего образования с учетом Федерального государственного образовательного стандарта среднего профессионального образования по специальности 46.02.01 Документационное обеспечение управления и архивоведение базового уровня подготовки программы общеобразовательной дисциплины (далее – дисциплина) Иностранный язык.

Разработчики:

Организация-разработчик: КГА ПОУ «ДИТК»

Разработчик: Энгельгардт Роман Олегович, преподаватель

Дифференцированный зачёт

1. Форма проведения: письменная: контрольная работа

2. Условия выполнения: на учебном занятии.

Время выполнения задания: 90 минут

Оборудование учебного кабинета: КИМ для проведения дифференцированного зачета, письменные принадлежности (ручки, карандаши, линейки).

Технические средства обучения: не используются.

Информационные источники: англо-русский и русско-английский словари

Требования охраны труда: выполнение норм санитарного законодательства.

3. Пакет материалов

3.1. Перечень тем, которые включает контрольная работа:

Тема №1.1 Повседневная жизнь семьи. Внешность и характер членов семьи

Тема № 1.2 Молодёжь в современном обществе. Досуг молодёжи: увлечения и интересы

Тема № 1.3 Условия проживания в городской и сельской местности

Тема № 1.4 Покупки: одежда, обувь и продукты питания.

Тема № 1.5 Здоровый образ жизни и забота о здоровье: сбалансированное питание.

Тема № 1.6 Туризм. Виды отдыха.

Тема № 1.7 Страна/страны изучаемого языка.

Тема № 1.8 Россия.

Тема №2.1 Современный мир профессий

Тема №2.2 Проблема современной цивилизации

3.. Практические задания к дифференцированному зачёту:

3.1. Что такое инфинитив. Как он образуется в английском языке.

3.2. Назовите наречия и словосочетания, характерные для PRESENT SIMPLE

3.3 Перечислите все личные местоимения.

4. Переведите текст на русский язык WHAT IS MINING

Mining is a branch of industry occupied with the search for exploitation, and dressing of economic minerals and rocks.

A lot of minerals and rocks are today basic raw materials for various branches of industry: coal and oil are the most important sources of heat and energy; metals produced from ores, form the building material for machines, bridges and other constructions; some minerals give the raw materials for the chemical industry; others are used in building.

The miner has two main tasks: to break out and to transport to the surface the economic mineral.

Put the necessary form of verb to be (Present, Past, Future)

1. Engineering (be) the profession in which knowledge of the mathematical or physical sciences gained by study, experience and practice. 2. Many of early branches of engineering (be) based not on science but on empirical information that depended on observation and experience. 3. The principal work of the engineer (be) drawing. 4. Engineering (be) one of the most ancient occupations in history. 5. Next year I (be) a student on Technical University.

5. Напиши письмо другу. Расскажи, какие предметы тебе нравятся.

_____, _____!

My favourite subject is _____ because _____.

I like _____ very much because _____.

I think _____ is very useful because _____.

I find _____ very interesting because _____.

I don't like _____ because _____.

_____ is boring and _____.

Эталоны ответов на практические задания

1. Что такое инфинитив. Как он образуется в английском языке:
это неличная форма глагола. Как и глагол, инфинитив называет действие, но в отличие от глагола, не указывает на лицо и число. В своей основной форме (Simple Infinitive) инфинитив отвечает на вопросы: что делать? что сделать? To read, to write
2. Назовите наречия и словосочетания, характерные для PRESENT SIMPLE
наречия - often, always, usually, и указатели времени (everyday, in the morning, on Fridays)
3. Перечислите все личные местоимения. – I, you, he/she/it, we, they/ me, you, him, her, it, us, them

Перевод

Что такое горнодобывающая промышленность

Горнодобывающая промышленность - это отрасль промышленности, занимающаяся поиском, разработкой и обогащением полезных ископаемых и горных пород.

Многие минералы и горные породы сегодня являются основным сырьем для различных отраслей промышленности: уголь и нефть являются важнейшими источниками тепла и энергии; металлы, добываемые из руд, служат строительным материалом для машин, мостов и других сооружений; некоторые минералы дают сырье для химической промышленности; другие используются в строительстве.

Перед шахтером стоят две основные задачи: добыть и транспортировать на поверхность полезный минерал.

Поставьте необходимую форму глагола to be (настоящее, прошедшее, будущее)

1. Инженерия (is) - профессия, в которой знания в области математических или физических наук приобретаются в результате учебы, опыта и практики.
2. Многие из ранних отраслей инженерного дела (were) основывались не на науке, а на эмпирической информации, которая зависела от наблюдений и опыта.
3. Основная работа инженера (was) - рисование.
4. Инженерное дело (is) - одна из древнейших профессий в истории.
5. В следующем году я (will) студентом Технического университета.

4. Критерии оценки ответов обучающихся

Оценка 5 «отлично» - правильно выполнено 85 – 100 % заданий.

Оценка 4 «хорошо» - правильно выполнено 66% - 84% заданий.

Оценка 3 «удовлетворительно» правильно выполнено 50 % - 65% заданий.

Оценка 2 «неудовлетворительно» - правильно выполнено 1 – 49 % заданий.

5. Зачетная ведомость.

МИНИСТЕРСТВО ПРОФЕССИОНАЛЬНОГО ОБРАЗОВАНИЯ
И ЗАНЯТОСТИ НАСЕЛЕНИЯ ПРИМОРСКОГО КРАЯ

**краевое государственное автономное
профессиональное образовательное учреждение
«Дальнегорский индустриально-технологический колледж»**

КОМПЛЕКТ КОНТРОЛЬНО-ОЦЕНОЧНЫХ СРЕДСТВ ДЛЯ ПРОВЕДЕНИЯ
СТАРТОВОЙ ДИАГНОСТИКИ ПО ОБЩЕОБРАЗОВАТЕЛЬНОЙ ДИСЦИПЛИНЕ

ОД.03 ИНОСТРАННЫЙ ЯЗЫК

подготовки специалистов среднего звена

код специальности 46.02.01 Документационное обеспечение управления и архивоведение

Разработчики:

Организация-разработчик: КГА ПОУ «ДИТК»

Разработчик: Энгельгардт Роман Олегович, преподаватель КГА ПОУ «ДИТК»

Дальнегорск, 2024 год

Комплект контрольно-оценочных средств разработан на основе Федерального государственного образовательного стандарта среднего общего образования с учетом Федерального государственного образовательного стандарта среднего профессионального образования по специальности 46.02.01 Документационное обеспечение управления и архивоведение базового уровня подготовки программы общеобразовательной дисциплины (далее – дисциплина) Иностранный язык.

1. Условия проведения: стартовая диагностика.
2. Форма контроля: контрольная работа.
3. Количество вариантов для проведения стартовой диагностики - 2.
4. Время выполнения заданий 90 мин.
5. Оборудование – письменные принадлежности (ручки, карандаши, линейки), комплект мебели.
6. Учебно-методическая и справочная литература:
Логинова, В. О. Английский язык для педагогических специальностей. (СПО). Учебник. / В.О. Логинова. – Москва: КноРус, 2020. – 200 с. – ISBN: 978-5-406- 07964-5. – Текст: непосредственный.
Безкоровайная Г.Т., Койранская Е.А., Соколова Н.И., Лаврик Г.В. PlanetofEnglish: электронный учебно-методический комплекс английского языка для учреждений СПО. – М., 2021. – 256с. – ISBN: 978-5-4468-9407-9. - Текст: непосредственный.
Информационная система «Единое окно доступа к образовательным ресурсам». - URL: <http://window.edu.ru/> (дата обращения: 02.02.2022). – Текст: электронный.
7. Условия приема контрольных заданий преподавателем: на уроке.
8. Порядок подготовки и проведения стартовой диагностики на занятии: преподавателем, на уроке.

Задания для обучающихся по вариантам

Вариант № 1

Переведите упражнение на русский язык и ответьте на вопросы ниже

«What Profession to Choose»

1. Words to the text:

1. special – особый
2. dealwith – иметь дело с
3. precious – драгоценный
4. noble – благородный
5. educated – образованный
6. areavailable – доступный
7. enteraninstitute – поступить в институт
8. strongwill – сильная воля
9. strengthofwill – сила воли
10. cometrue – сбыться

Choosing a profession is very difficult. Your choice should depend on your character, intellect, abilities and talent. Do you think someone can be a good teacher if he/she doesn't love children? Do you think someone can be a good vet if he/ she doesn't like animals? Can a musician or singer make a success if they don't have a good ear for music? Can an actor or dancer become famous if they have no special talent? You can never be a respectable judge if you are not just and honest. Only those who are brave, can become sailors. Only people who

have creative minds can be successful businessmen. The profession of a doctor requires special education and long training. A doctor must be very responsible because they deal with the most precious thing that people have — their health. There are a lot of interesting and noble professions, and many roads are opened before you. But remember most professions are available only to educated people. So if you want to be a professional you have to enter an institute or university. It is difficult and you have to study hard. It is not easy, because only those who have a strong will, can study hard. Try to build your character, develop the strength of will and your dreams will come true.

Questions to the text:

- 1) Have you already decided what you want to be?
- 2) What did you want to be in your childhood?
- 3) What is your father?
- 4) What is your mother?
- 5) Do you want to choose the profession of your parents?
- 6) Do you have the strength of will?

Вариант № 2

Переведите упражнение на русский язык и ответьте на вопросы ниже

«Choosing an Occupation»

One of the most difficult problems a young person faces is deciding what to do about a career. There are individuals, of course, who from the time they are six years old "know" that they want to be doctors or pilots or fire fighters, but the majority of us do not get around to making a decision about an occupation or career until somebody or something forces us to face the problem.

Choosing an occupation takes time, and there are a lot of things you have to think about as you try to decide what you would like to do. You may find that you will have to take special education in Czechia to qualify for a particular kind of work, or may find out that you will need to get some actual work experience to gain enough knowledge to qualify for a particular job.

Fortunately, there are a lot of people you can turn to for advice and help in making your decision. At most schools, there are teachers who are professionally qualified to counsel you and to give detailed information about job qualifications. And you can talk over your ideas with family members and friends who are always ready to listen and to offer suggestions. But even if you get other people involved in helping you make a decision, self-evaluation is an important part of the decision-making process.

Vocabulary

to make a decision — принять решение

to force — заставлять, принуждать, вынуждать

qualify ['kwɒlɪfaɪ] for — готовиться к какой-л. деятельности; приобретать какую-л. квалификацию; получать право (на что-либо)

to counsel ['kaʊnsəl] — давать совет; советовать, рекомендовать

self-evaluation [i,vælju'eɪʃn] — самооценка

Questions

1. What is the most difficult problem for a young person?
2. Why don't the majority of young people know what they want to be?
3. When do they make a decision about an occupation?
4. What things do you have to think about when choosing an occupation?

5. What should one do to qualify for a particular job?
6. Whom can you turn to for advice when making your decision?
7. What is the most important part of the decision-making process?
9. Эталоны ответов по вариантам.

Вариант № 1

1. Выбрать профессию очень сложно. Ваш выбор должен зависеть от вашего характера, интеллекта, способностей и таланта. Как вы думаете, может ли кто-то быть хорошим учителем, если он / она не любит детей? Как вы думаете, может ли кто-то быть хорошим ветеринаром, если он / она не любит животных? Может ли музыкант или певец добиться успеха, если у них нет хорошего музыкального слуха? Может ли актер или танцор стать знаменитым, если у них нет особого таланта? Вы никогда не сможете быть уважаемым судьей, если вы не справедливы и честны. Только те, кто храбр, могут стать моряками. Только люди, обладающие творческим складом ума, могут быть успешными бизнесменами. Профессия врача требует специального образования и длительной подготовки. Врач должен быть очень ответственным, потому что он имеет дело с самым ценным, что есть у людей, — с их здоровьем. Есть много интересных и благородных профессий, и перед вами открыто много дорог. Но помните, что большинство профессий доступно только образованным людям. Поэтому, если вы хотите стать профессионалом, вам нужно поступить в институт или университет. Это трудно, и вы должны усердно учиться. Это нелегко, потому что только те, у кого сильная воля, могут усердно учиться. Постарайтесь сформировать свой характер, развивайте силу воли, и ваши мечты сбудутся. За данное задание выставляется от 0 до 5 баллов.

Вопросы к тексту:

- 1) Вы уже решили, кем вы хотите быть? / I want to become a teacher
 - 2) Кем вы хотели быть в детстве? / As a child, I wanted to be a doctor
 - 3) Кто твой отец? / My father is an engineer
 - 4) Кто твоя мать? / My mother is a doctor
 - 5) Хотели вы выбрать профессию своих родителей? / Yes, I wanted to choose a profession... / No, I didn't want to...
 - 6) Есть ли у вас сила воли? / I have willpower / No, I don't have willpower
- За данное задание выставляется по 2 балла за каждый вопрос, всего – 12 баллов.

Вариант № 2

Одна из самых сложных проблем, с которой сталкивается молодой человек, - это решение, что делать с карьерой. Конечно, есть люди, которые с шестилетнего возраста "знают", что хотят быть врачами, пилотами или пожарными, но большинство из нас не решаются принять решение о профессии или карьере до тех пор, пока кто-то или что-то не заставит нас столкнуться с проблемой.

Выбор профессии требует времени, и есть много вещей, о которых вам нужно подумать, когда вы пытаетесь решить, чем бы вы хотели заниматься. Вы можете обнаружить, что вам придется получить специальное образование в Чехии, чтобы претендовать на определенный вид работы, или может оказаться, что вам нужно будет получить некоторый реальный опыт работы, чтобы получить достаточно знаний, чтобы претендовать на определенную работу.

К счастью, есть много людей, к которым вы можете обратиться за советом и помощью в принятии вашего решения. В большинстве школ есть учителя, обладающие

профессиональной квалификацией, которые могут проконсультировать вас и предоставить подробную информацию о квалификации. И вы можете обсудить свои идеи с членами семьи и друзьями, которые всегда готовы выслушать и внести предложения. Но даже если вы привлекаете других людей к оказанию вам помощи в принятии решения, самооценка является важной частью процесса принятия решения. За данное задание выставляется от 0 до 5 баллов.

Вопросы к тексту

1. Какая проблема является самой сложной для молодого человека? /I think it's making the right decision...
2. Почему большинство молодых людей не знают, кем они хотят быть? /A person has no purpose in life....
3. Когда они принимают решение о профессии? /We make a decision about a profession in high school
4. О чем вы должны думать при выборе профессии? /Will I be interested in this profession..
5. Что нужно сделать, чтобы претендовать на определенную работу? /we need know ledge and the necessary qualifications
6. К кому вы можете обратиться за советом при принятии своего решения? /We can ask for advice from parents, older relatives and friends
7. Что является наиболее важной частью процесса принятия решений? /Personal desire to develop

За данное задание выставляется по 2 балла за каждый вопрос, всего – 12 баллов.

10. Критерии оценки.

Оценка 5 «отлично» - 15 - 17 баллов

Оценка 4 «хорошо» - 12 - 14 баллов.

Оценка 3 «удовлетворительно» - 9 - 11 баллов.

Оценка 2 «неудовлетворительно» - 0-8 баллов.

МИНИСТЕРСТВО ПРОФЕССИОНАЛЬНОГО ОБРАЗОВАНИЯ
И ЗАНЯТОСТИ НАСЕЛЕНИЯ ПРИМОРСКОГО КРАЯ

**краевое государственное автономное
профессиональное образовательное учреждение
«Дальнегорский индустриально-технологический колледж»**

**КОМПЛЕКТ КОНТРОЛЬНО-ОЦЕНОЧНЫХ СРЕДСТВ
ОБЩЕОБРАЗОВАТЕЛЬНОЙ ДИСЦИПЛИНЫ**

ОД.05 ИНФОРМАТИКА

подготовки специалистов среднего звена

код специальности 46.02.01 Документационное обеспечение управления и архивоведение

Дальнегорск, 2024 год

Комплект контрольно-оценочных средств разработан на основе Федерального государственного образовательного стандарта среднего общего образования с учетом Федерального государственного образовательного стандарта среднего профессионального образования по специальности 46.02.01 Документационное обеспечение управления и архивоведение базового уровня подготовки программы общеобразовательной дисциплины (далее – дисциплина) Информатика.

Разработчики:

Организация-разработчик: КГА ПОУ «ДИТК»

Разработчик: Архипова Елена Георгиевна, преподаватель

Экзамен

1. Форма проведения: компьютерное тестирование
2. Условия выполнения:
 1. Инструкция для обучающихся.
 2. Время выполнения: 45 минут
 3. Оборудование учебного кабинета: материалы экзамена, тестовая оболочка Айрен; посадочные места по количеству обучающихся.
 4. Технические средства обучения: персональные компьютеры
 5. Информационные источники, допустимые к использованию на экзамене:
 - Учебно-наглядные пособия по теме «Логические основы ЗВМ», «Системы счисления»
6. Требования охраны труда: соблюдение СанПиН.
3. Пакет материалов для проведения экзамена:
 - 3.1. Перечень разделов, выносимых на экзамен:
 - Раздел 1. Цифровая грамотность
 - Раздел 2. Теоретические основы информатики
 - Раздел 3. Информационные технологии
 - Раздел 4. Алгоритмы и программирование
 - 3.2. Образец КИМ

Часть А

1. Совокупность компьютеров, соединенных каналами обмена информации и находящихся в пределах одного (или нескольких) помещений, здания, называется:
 - a. глобальной компьютерной сетью
 - b. локальной компьютерной сетью
 - c. информационной системой с гиперсвязями
 - d. электронной почтой
2. К правовым методам, обеспечивающим информационную безопасность, относятся:
 - a. - Разработка аппаратных средств обеспечения правовых данных
 - b. - Разработка и установка во всех компьютерных правовых сетях журналов учета действий
 - c. Разработка и конкретизация правовых нормативных актов обеспечения безопасности
3. Файловая система персонального компьютера наиболее адекватно может быть описана в виде:
 - a. Табличной модели
 - b. Графической модели
 - c. Иерархической модели
 - d. Математической модели
4. В велокроссе участвуют 28 спортсменов. Специальное устройство регистрирует прохождение каждым из участников промежуточного финиша, записывая его номер с использованием минимально возможного количества бит, одинакового для каждого спортсмена. Какой объём памяти будет использован устройством, когда все спортсмены прошли промежуточный финиш? (Ответ дайте в битах.)

5. Символом F обозначено одно из указанных ниже логических выражений от трех аргументов: X, Y, Z. Дан фрагмент таблицы истинности выражения F.

X	Y	Z	F
1	1	1	1
1	1	0	1
1	0	1	1

Какое выражение соответствует F?

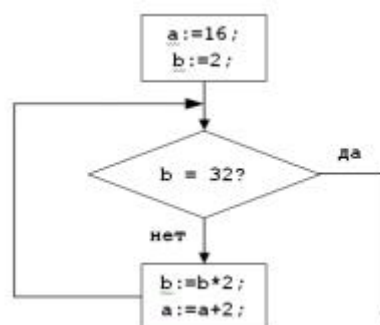
- a) $X \vee \neg Y \vee Z$
- b) $X \wedge Y \wedge Z$
- c) $X \wedge Y \wedge \neg Z$
- d) $\neg X \vee Y \vee \neg Z$

6. Из правил соревнования по тяжелой атлетике: Тяжелая атлетика – это прямое соревнование, когда каждый атлет имеет три попытки в рывке и три попытки в толчке. Самый тяжелый вес поднятой штанги в каждом упражнении суммируется в общем зачете. Если спортсмен потерпел неудачу во всех трех попытках в рывке, он может продолжить соревнование в толчке, но уже не сможет занять какое-либо место по сумме 2-х упражнений. Если два спортсмена заканчивают состязание с одинаковым итоговым результатом, высшее место присуждается спортсмену с меньшим весом. Если же вес спортсменов одинаков, преимущество отдается тому, кто первым поднял победный вес. Таблица результатов соревнований по тяжелой атлетике:

Фамилия И.О.	Вес спортсмена	Взято в рывке	Рывок с попытки	Взято в толчке	Толчок с попытки
Айвазян Г.С.	77,1	150,0	3	200,0	2
Викторов М.П.	79,1	147,5	1	202,5	1
Гордезиани Б.Ш.	78,2	147,5	2	200,0	1
Михальчук М.С.	78,2	147,5	2	202,5	3
Пай С.В.	79,5	150,0	1	200,0	1
Шапсугов М.Х.	77,1	147,5	1	200,0	1

Кто победил в общем зачете (по сумме двух упражнений)? Айвазян

7. Запишите значение переменной a после выполнения фрагмента алгоритма:



8. Сколько единиц в двоичной записи десятичного числа 173?

9. Как представлено десятичное число 263 в восьмеричной системе счисления?

10. Проведите классификацию

1. относительные ссылки
2. абсолютные ссылки
3. смешанные ссылки

- a. D1
- a. \$A2
- b. H567
- c. \$D\$5
- d. \$A\$2:\$B\$3
- e. \$N\$65576
- f. A5:H8
- g. A\$2

11. Определите значение переменной A после выполнения фрагмента программы:

a = 11

if a < 16:

 a += 13

else:

 a -= 8

12. Выберите элементы форматирования символов в программе MS Word

- a) выравнивание
- b) изменение междустрочного интервала
- c) изменение интервала между символами
- d) изменение шрифта
- e) изменение интервалов между абзацами
- f) изменение начертания
- g) выбор размера букв
- h) первая строка
- i) отступы слева, справа

Часть В

13. Установите соответствие

Вам необходимо подготовить несколько документов. Проанализируйте и соотнесите, какая программа больше всего подойдет для подготовки каждого документа.

1. Сделать презентацию по теме «Характеристика способов разработки месторождений»	a. Текстовый редактор
2. Подготовить проектную документацию «Проектная документация на проведение работ по разведке месторождения»	b. Редактор презентаций
3. Провести подсчет глубин скважин	c. Системы автоматизированного проектирования
4. Составить план месторождения	d. Табличный редактор

14. Определите топологии

1 Все рабочие станции подключены в сеть через центральное устройство (коммутатор).	a. Кольцо
2 Все рабочие станции подключены к одному кабелю с помощью специальных разъёмов	b. Звезда
3 Каждый компьютер соединён с двумя соседними, причём	c. Шина

от одного он только получает данные, а другому только передаёт. Таким образом, пакеты движутся в одном направлении.

Часть С

15. Проведите анализ и сопоставьте адресам Интернет соответствующие им названия

1. 124.46.8.12	а. Универсальный указатель ресурса (URL)
2. http://www.intline.ru	б. Имя домена
3. www.intline.ru	с. IP-адрес

16. Дан фрагмент электронной таблицы. Из ячейки А2 в ячейку В1 была скопирована формула. При копировании адреса ячеек в формуле автоматически изменились. Каким стало числовое значение формулы в ячейке В1?

	A	B	C	D	E
1	40		400	70	7
2	=С3*Д4	3	300	60	6
3	20	2	200	50	5
4	10	1	100	40	4

3.3. Эталоны ответов

1 -b; 2 - с; 3 - с; 4 - 140 бит; 5 -a; 6 - Айвазян; 7- 24; 8 - 5; 9 - 407; 10 - 1 - b, f; 2 - с,d,e; 3- a,d\$, 11 - 24, 12 - с, d, f, g, 13 - 1b, 2a, 3d, 4с\$; 14 - 1b, 2с, 3a; 15 - 1с, 2b, 3a; 16 -15000.

4. Критерии оценки ответов обучающихся.

Оценка 5 «отлично» -- выполнено 80 – 100 % заданий части А + 50% заданий части В + 50% заданий части С

Оценка 4 «хорошо» – выполнено 80 – 100% части А + 50% заданий части В

Оценка 3 «удовлетворительно» – выполнено 80 % заданий части А

Оценка 2 «неудовлетворительно» - выполнено менее 80% заданий части А

5.Зачетная ведомость.

МИНИСТЕРСТВО ПРОФЕССИОНАЛЬНОГО ОБРАЗОВАНИЯ
И ЗАНЯТОСТИ НАСЕЛЕНИЯ ПРИМОРСКОГО КРАЯ

**краевое государственное автономное
профессиональное образовательное учреждение
«Дальнегорский индустриально-технологический колледж»**

КОМПЛЕКТ КОНТРОЛЬНО-ОЦЕНОЧНЫХ СРЕДСТВ ДЛЯ ПРОВЕДЕНИЯ
СТАРТОВОЙ ДИАГНОСТИКИ ПО ОБЩЕОБРАЗОВАТЕЛЬНОЙ ДИСЦИПЛИНЕ

ОД.05 ИНФОРМАТИКА

подготовки специалистов среднего звена

код специальности 46.02.01 Документационное обеспечение управления и архивоведение

Разработчики:

Организация-разработчик: КГА ПОУ «ДИТК»

Разработчик: Архипова Е.Г., преподаватель информатики

Дальнегорск, 2024 год

Комплект контрольно-оценочных средств разработан на основе Федерального государственного образовательного стандарта среднего общего образования с учетом Федерального государственного образовательного стандарта среднего профессионального образования по специальности 46.02.01 Документационное обеспечение управления и архивоведение базового уровня подготовки программы общеобразовательной дисциплины (далее – дисциплина) «Информатика».

1. Условия проведения: стартовая диагностика.
2. Форма контроля: проверочная работа.
3. Количество вариантов для проведения стартовой диагностики: 2.
4. Время выполнения заданий: 45 минут
5. Оборудование: посадочные места по количеству обучающихся.
6. Учебно-методическая и справочная литература: не используется.
7. Условия приема контрольных заданий преподавателем: по завершению работы.
8. Порядок подготовки и проведения стартовой диагностики: на занятии.

Задания для обучающихся по вариантам

Вариант 1

1. В одной из кодировок Unicode каждый символ кодируется 16 битами. Вова написал текст (в нём нет лишних пробелов): «Бор, азот, гелий, натрий, водород, кислород, рентгений, менделевий, резерфордий – химические элементы». Ученик вычеркнул из списка название одного химического элемента. Заодно он вычеркнул ставшие лишними запятую и пробел – два пробела не должны идти подряд. При этом размер нового предложения в данной кодировке оказался на 18 байт меньше, чем размер исходного предложения. Напишите в ответе вычеркнутое название элемента.

Ответ _____

2. Вася и Петя играли в шпионов и кодировали сообщение собственным шифром.

Фрагмент кодовой таблицы приведён ниже.

А	Б	В	Г	Д	Е
□	#	#+	+□#	+#	□#

Расшифруйте сообщение. Получившееся слово (набор букв) запишите в качестве ответа:

~ # + + ~

Ответ _____

3. Напишите наибольшее натуральное число x , для которого ИСТИННО высказывание:

$\text{НЕ}(x < 3) \text{ И } (x < 4)$

Ответ _____

4. Между населёнными пунктами А, В, С, D, Е построены дороги, протяжённость которых (в километрах) приведена в таблице:

	А	В	С	D	Е
А		3			
В	3		1	2	6
С		1			3
D		2			3
Е		6	3	3	

Определите длину кратчайшего пути между пунктами А и Е. Передвигаться можно только по дорогам, протяжённость которых указана в таблице. Каждый пункт можно посетить только один раз.

Ответ _____

5. У исполнителя Вычислитель две команды, которым присвоены номера:

1. прибавь 3
2. умножь на 2

Первая из них увеличивает число на экране на 3, вторая удваивает его.

Составьте алгоритм получения из числа 1 числа 25, содержащий не более 5 команд.

В ответе запишите только номера команд.

(Например, 11221 – это алгоритм:

прибавь 3

прибавь 3

умножь на 2

умножь на 2

прибавь 3

который преобразует число 4 в 43.)

Если таких алгоритмов более одного, то запишите любой из них.

Ответ _____

6. Ниже приведена программа, записанная на четырех языках программирования

Алгоритмический язык	Паскаль	Python	C++
алг нач цел s, t, A ввод s ввод t ввод A если s > 10 или t > A то вывод "YES" иначе вывод "NO" все кон	var s, t, A: integer; begin readln(s); readln(t); readln(A); if (s > 10) or (t > A) then writeln("YES") else writeln("NO") end.	s = int(input()) t = int(input()) A = int(input()) if (s > 10) or (t > A): print("YES") else: print("NO")	#include <iostream> using namespace std; int main(){ int s, t, A; cin >> s; cin >> t; cin >> A; if (s > 10) or (t > A) cout << "YES" << endl; else cout << "NO" << endl; return 0; }

Было проведено 9 запусков программы, при которых в качестве значений переменных s и t вводились следующие пары чисел:

(1, 2); (11, 2); (1, 12); (11, 12); (-11, -12); (-11, 12); (-12, 11); (10, 10); (10, 5).

Укажите наименьшее целое значение параметра A, при котором для указанных входных данных программа напечатает «NO» семь раз.

Ответ _____

7. Доступ к файлу foto.jpg, находящемуся на сервере email.ru, осуществляется по протоколу http. В таблице фрагменты адреса файла закодированы цифрами от 1 до 7.

Запишите последовательность этих цифр, кодирующую адрес указанного файла в сети Интернет.

- 1) foto
- 2) email
- 3) .ru
- 4) ://
- 5) http
- 6) /
- 7) .jpg

Ответ _____

8. В языке запросов поискового сервера для обозначения логической операции «ИЛИ» используется символ «|», а для логической операции «И» – символ «&». В таблице приведены запросы и количество найденных по ним страниц некоторого сегмента сети Интернет.

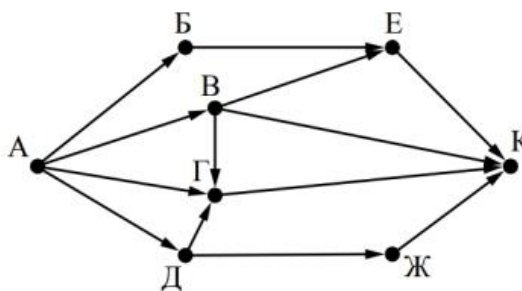
Запрос	Найдено страниц (в тысячах)
Москва	4220
Санкт-Петербург	3600
Москва Санкт-Петербург	5900

Какое количество страниц (в тысячах) будет найдено по запросу Москва & Санкт-Петербург?

Считается, что все запросы выполнялись практически одновременно, так что набор страниц, содержащих все искомые слова, не изменялся за время выполнения запросов

Ответ _____

9. На рисунке – схема дорог, связывающих города А, Б, В, Г, Д, Е, Ж и К. По каждой дороге можно двигаться только в одном направлении, указанном стрелкой. Сколько существует различных путей из города А в город К?



Ответ _____

10. Переведите число 110 из десятичной системы счисления в двоичную систему счисления. Сколько единиц содержит полученное число?

В ответе укажите одно число – количество единиц

Ответ _____

Вариант 2

1. В кодировке КОИ-8 каждый символ кодируется 8 битами. Вова написал текст (в нем нет лишних пробелов):

«Школьные предметы: ОБЖ, химия, физика, алгебра, биология, география, литература, информатика».

Ученик удалил из списка название одного предмета, а также лишние запятую и пробел — два пробела не должны идти подряд. При этом размер нового предложения в данной кодировке оказался на 11 байт меньше, чем размер исходного предложения. Напишите в ответе вычеркнутое название предмета.

Ответ _____

2. Мальчики играли в шпионов и закодировали сообщение придуманным шифром.

Кодовая таблица приведена ниже:

К	Л	М	Н	О	П	Р
+_+	_*	*+	_++	*	__+	--

Расшифруйте полученное сообщение:

* + _+ + _+ + _ _ _ *

Запишите в ответе расшифрованное сообщение.

Ответ _____

3. Напишите наибольшее целое число x , для которого ИСТИННО высказывание:

НЕ ($X \leq 10$) И НЕ ($X > 16$).

Ответ _____

4. Между населенными пунктами А, В, С, D, Е построены дороги, протяженность которых (в километрах) приведена в таблице:

	A	B	C	D	E
A		2	6	4	
B	2		3		
C	6	3		3	2
D	4		3		
E			2		

Определите длину кратчайшего пути между пунктами А и Е. Передвигаться можно только по дорогам, протяженность которых указана в таблице.

Ответ _____

5. У исполнителя Вычислитель две команды, которым присвоены номера:

1. вычти 3

2. умножь на 2

Первая из них уменьшает число на экране на 3, вторая удваивает его. Составьте алгоритм получения из числа 3 числа 18, содержащий не более 4 команд. В ответе запишите только номера команд.

(Например, 1222 — это алгоритм

вычти 3,

умножь на 2,

умножь на 2,

умножь на 2,

который преобразует число 5 в 16.)

Если таких алгоритмов более одного, то запишите любой из них.

Ответ _____

6. Ниже приведена программа, записанная на четырех языках программирования.

Алгоритмический язык	Паскаль	Python	C++
алг нач цел s, t ввод s ввод t если s > 10 или t > 10 то вывод "YES" иначе вывод "NO" все кон	<pre>var s, t: integer; begin readln(s); readln(t); if (s > 10) or (t > 10) then writeln('YES') else writeln('NO') end.</pre>	<pre>s = int(input()) t = int(input()) if s > 10 or t > 10: print("YES") else: print("NO")</pre>	<pre>#include <iostream> using namespace std; int main() { int s, t; cin >> s; cin >> t; if (s > 10 t > 10) cout << "YES"; else cout << "NO"; return 0; }</pre>

Было проведено 9 запусков программы, при которых в качестве значений переменных s и t вводились следующие пары чисел:

(1, 2); (11, 2); (1, 12); (11, 12); (-11, -12); (-11, 12); (-12, 11); (10, 10); (10, 5).

Сколько было запусков, при которых программа напечатала «YES»?

7. Доступ к файлу `monkey.jpg`, находящемуся на сервере `animals.ru`, осуществляется по протоколу `http`. Фрагменты адреса файла закодированы буквами от А до Ж. Запишите последовательность этих букв, кодирующую адрес указанного файла в сети Интернет.

А) `http`

Б) `://`

В) `animals.`

Г) `/`

Д) `monkey`

Е) `ru`

Ж) `.jpg`

Ответ _____

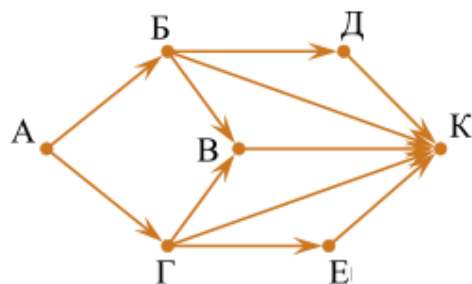
8. В языке запросов поискового сервера для обозначения логической операции «ИЛИ» используется символ «|», а для логической операции «И» — символ «&». В таблице приведены запросы и количество найденных по ним страниц некоторого сегмента сети Интернет.

Запрос	Найдено страниц (в тысячах)
Пушкин	3500
Лермонтов	2000
Пушкин Лермонтов	4500

Какое количество страниц (в тысячах) будет найдено по запросу *Пушкин & Лермонтов*?

Считается, что все запросы выполнялись практически одновременно, так что набор страниц, содержащих все искомые слова, не изменялся за время выполнения запросов.

9. На рисунке — схема дорог, связывающих города А, Б, В, Г, Д, Е, К. По каждой дороге можно двигаться только в одном направлении, указанном стрелкой. Сколько существует различных путей из города А в город К?



10. Переведите число 135 из десятичной системы счисления в двоичную систему счисления.

Сколько единиц содержит полученное число?

В ответе укажите одно число — количество единиц.

9.Эталоны ответов

№ вопроса	Вариант1	Вариант 2
1.	водород	география
2.	БАВГ	МННРЛ
3.	3	16
4.	7	7
5.	12121	2212
6.	12	5
7.	5423617	АБВЕГДЖ
8.	1920	1000
9.	7	22
10.	5	4

10.Критерии оценки

Оценка 5 «отлично» не менее 90-100% макс. баллов

Оценка 4 «хорошо» не менее 70% - 90% макс. баллов

Оценка 3 «удовлетворительно» не менее 50% - 70% макс. баллов

Оценка 2 «неудовлетворительно» менее 50% макс. баллов

МИНИСТЕРСТВО ПРОФЕССИОНАЛЬНОГО ОБРАЗОВАНИЯ
И ЗАНЯТОСТИ НАСЕЛЕНИЯ ПРИМОРСКОГО КРАЯ

**краевое государственное автономное
профессиональное образовательное учреждение
«Дальнегорский индустриально-технологический колледж»**

**КОМПЛЕКТ КОНТРОЛЬНО-ОЦЕНОЧНЫХ СРЕДСТВ
ОБЩЕОБРАЗОВАТЕЛЬНОЙ ДИСЦИПЛИНЫ**

ОД.06 ФИЗИКА

подготовки специалистов среднего звена

код специальности 46.02.01 Документационное обеспечение управления и архивоведение

Дальнегорск, 2024 год

Комплект контрольно-оценочных средств разработан на основе Федерального государственного образовательного стандарта среднего общего образования с учетом Федерального государственного образовательного стандарта среднего профессионального образования по специальности 46.02.01 Документационное обеспечение управления и архивоведение базового уровня подготовки программы общеобразовательной дисциплины (далее – дисциплина) Физика.

Разработчики:

Организация-разработчик: КГА ПОУ «ДИТК»

Разработчик: Малько Николай Борисович, преподаватель

Дифференцированный зачёт

1. Форма проведения: письменная.
2. Условия выполнения
Время выполнения задания: 90 минут
Оборудование учебного кабинета:
Технические средства обучения: не применяются.
Информационные источники: не используются.
Требования охраны труда: соблюдение норм техники безопасности, СанПиН.

3. Пакет материалов для проведения зачёта (структура КИМ)

3.1. Перечень тем (разделов), выносимых на зачёт:

Раздел 1 Научный метод познания природы

1.1 Введение. Физика и методы научного познания.

Раздел 2. Механика

2.1 Кинематика

2.2 Динамика

2.3 Статика твёрдого тела

2.4 Законы сохранения в механике

Раздел 3. Молекулярная физика и термодинамика

3.1. Основы молекулярно-кинетической теории

3.2. Термодинамики.

3.3. Агрегатные состояния вещества.

Раздел 4. Электродинамика

4.1. Электрическое поле.

4.2. Постоянный электрический ток.

4.3. Токи в различных средах.

4.4. Магнитное поле.

4.5. Электромагнитная индукция.

Раздел 5 Колебания и волны

5.1. Механические колебания

5.2. Электромагнитные колебания

5.3. Механические и электромагнитные волны.

5.4. Оптика.

Раздел 6. Основы специальной теории относительности

6.1. Постулаты СТО

Раздел 7. Квантовая физика

7.1. Корпускулярно-волновой дуализм

7.2. Физика атома.

7.3. Физика атомного ядра и элементарных частиц.

Раздел 8. Элементы астрономии и астрофизики

8.1. Строение Солнечной системы

8.2. Эволюция Вселенной

3.2. Теоретические задания к зачёту (проверка знания и понимания):

Задание 1

Было обнаружено, что атомы радиоактивных веществ испускают _____ вида излучений различной физической природы.

Запишите число: _____

Задание 2

Укажите истинность или ложность высказываний

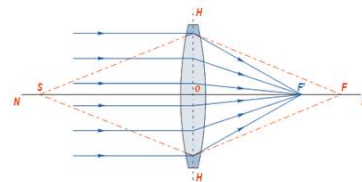
Вес тела - это сила, которая всегда приложена к опоре или подвесу.

Инертность - физическая величина, являющаяся мерой массивности тела при поступательном движении

Задание 3

Укажите на рисунке главный фокус линзы

Укажите место на изображении:



Задание 4

Атомные ядра различных элементов состоят из частиц ...

Выберите несколько из 6 вариантов ответа:

- 1) ионов 2) электронов 3) нейтрино 4) протонов 5) нейтронов 6) бозонов

Задание 5

Кто из учёных установил, что магнитное поле возникает вокруг подвижного электрического заряда? Выберите один вариант ответа:

- 1) Эрстед 2) Эйхенвальд 3) Вольт 4) Ампер

Задание 6

Явление возникновения тока в замкнутом контуре пронизанным переменным магнитным потоком называется ... Выберите один вариант ответа:

- 1) объектной инкапсуляцией 2) магнитным гистерезисом
3) электромагнитной индукцией 4) классической гравитацией

Задание 7

Непрерывная линия, которую описывает точка при своём движении, называется ... Выберите один вариант ответа:

- 1) перемещение 2) расстояние 3) путь 4) траектория

Задание 8

Для определения направления силы Лоренца. Выберите один вариант ответа:

- 1) правило "буравчика" 2) правило "правой руки"
3) правило Ленца 4) правило "левой руки"

Задание 9

Теоретической основой реактивного движения является закон ...

Выберите один вариант ответа:

- 1) сохранения импульса 2) сохранения энергии 3) сохранения вещества

Задание 10

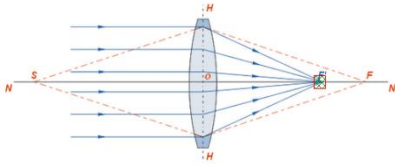
Сопоставьте названия явлений и их объяснения.

- 1) Интерференционный максимум
2) Интерференционный минимум

Разность хода накладываемых волн равна нечётному числу полуволен.

Разность хода накладываемых волн равна целому числу длин волн или равна нулю.

4. Эталоны ответов на вопросы

1	2	3	4	5	6	7	8	9	10
3	Да; нет		4; 5	2;	3	4	4	1	2; 1

3.3. Практические задания к экзамену (анализ и применение):

Задача 1. Мяч брошен с начальной скоростью $V_0=10$ м/с под углом $A=60^\circ$ к горизонту.

Определите максимальную высоту подъёма тела h . Ответ укажите в метрах ____

Задача 2. Катушка индуктивности $L=0,08$ Гн присоединена к источнику переменного напряжения с частотой $\nu=1000$ Гц. Действующее значение напряжения $U=100$ В. Определите амплитуду силы тока I_m в цепи. Ответ укажите в Амперах.

Эталоны ответов на практические задания

Вариант 1.

Задача 1 Верный ответ: 3,8 м

Задача 2 Верный ответ: 0,28 А

3.4. Аналитическое задания к экзамену (оценка и синтез):

Вариант 1 Напишите эссе на заданную тему. В ответе раскройте ваше понимание заданного уточнения.

Тема эссе «Аспекты применения закона Снеллиуса (преломления света на границе полупрозрачных сред) в области информационных сетей связей». Уточнение: «Дайте объяснение закона Снеллиуса и приведите примеры его применения в конкретных видах технических устройств».

Вариант 2 Напишите эссе на заданную тему. В ответе раскройте ваше понимание заданного уточнения

Тема эссе «Виды электро-магнитных энергии. Проявление закона сохранения энергии в колебательном контуре». Уточнение: «Какие существуют виды электро-магнитных энергии и как выполняется закон их сохранения и где в электронике применяется?»

4. Раздаточные материалы (если предусмотрены)

5. Зачетная ведомость

МИНИСТЕРСТВО ПРОФЕССИОНАЛЬНОГО ОБРАЗОВАНИЯ
И ЗАНЯТОСТИ НАСЕЛЕНИЯ ПРИМОРСКОГО КРАЯ

**краевое государственное автономное
профессиональное образовательное учреждение
«Дальнегорский индустриально-технологический колледж»**

КОМПЛЕКТ КОНТРОЛЬНО-ОЦЕНОЧНЫХ СРЕДСТВ ДЛЯ ПРОВЕДЕНИЯ
СТАРТОВОЙ ДИАГНОСТИКИ ПО ОБЩЕОБРАЗОВАТЕЛЬНОЙ ДИСЦИПЛИНЕ

ОД.06 ФИЗИКА

подготовки специалистов среднего звена

код специальности 46.02.01 Документационное обеспечение управления и архивоведение

Разработчики:

Организация-разработчик: КГА ПОУ «ДИТК»

Разработчик: Малько Николай Борисович, преподаватель.

Дальнегорск, 2024 год

Комплект контрольно-оценочных средств разработан на основе Федерального государственного образовательного стандарта среднего общего образования с учетом Федерального государственного образовательного стандарта среднего профессионального образования по специальности 46.02.01 Документационное обеспечение управления и архивоведение базового уровня подготовки программы общеобразовательной дисциплины (далее – дисциплина) Физика.

1. Условия проведения: стартовая диагностика.
2. Форма контроля: проверочная работа.
3. Количество вариантов для проведения стартовой диагностики: 2.
4. Время выполнения заданий: 30 мин.
5. Оборудование: посадочные места по количеству обучающихся.
6. Учебно-методическая и справочная литература: не используется.
7. Условия приема контрольных заданий преподавателем: по завершению работы.
8. Порядок подготовки и проведения стартовой диагностики: на занятии.

Задания для обучающихся по вариантам

Вариант 1

1. Что такое механическая работа?
 - a) Изменение состояния движения тела
 - b) Произведение силы на путь её действия
 - c) Изменение температуры тела
2. Какой закон Ньютона утверждает, что сила, действующая на тело, равна произведению его массы на ускорение?
 - a) Первый закон Ньютона
 - b) Второй закон Ньютона
 - c) Третий закон Ньютона
3. Что такое энергия потенциальная?
 - a) Энергия, связанная с движением тела
 - b) Энергия, связанная с положением тела в поле сил
 - c) Энергия, связанная с внутренними процессами в теле
4. Какие единицы измерения используются для измерения работы в системе СИ?
 - a) Ньютон
 - b) Джоуль
 - c) Ватт
5. Что такое закон сохранения импульса?
 - a) Импульс тела сохраняется, если на него не действуют внешние силы
 - b) Импульс тела сохраняется только в отсутствие трения
 - c) Импульс тела сохраняется при любых условиях
6. Как называется явление, при котором свет изменяет направление при прохождении через угол границы двух сред?
 - a) Дифракция
 - b) Рефракция
 - c) Дисперсия
7. Что такое электрический ток?
 - a) Поток зарядов

- b) Напряжение между двумя точками
 - c) Сила тока
8. Какой закон электродинамики утверждает, что сила тока прямо пропорциональна напряжению и обратно пропорциональна сопротивлению?
- a) Закон Кулона
 - b) Закон Ома
 - c) Закон Ампера
9. Что такое кинетическая энергия?
- a) Энергия, связанная с положением тела в поле сил
 - b) Энергия, связанная с движением тела
 - c) Энергия, связанная с вращательным движением тела
10. Что такое звуковая волна?
- a) Передача тепла в виде волны
 - b) Распространение колебаний в воздухе или других средах
 - c) Передача световых волн

Вариант 2

1. Что такое сила?
- a) Мера тепловой энергии
 - b) Величина, вызывающая изменение состояния движения тела
 - c) Способность тела противостоять изменению своего состояния
2. Что такое момент силы?
- a) Произведение силы на расстояние до точки приложения
 - b) Сила, вызывающая вращательное движение тела
 - c) Энергия внутри ядра атома
3. Что такое давление?
- a) Отношение силы к площади, на которую эта сила действует
 - b) Количество теплоты, переданное телу
 - c) Мера плотности тела
4. Что такое ускорение свободного падения?
- a) Ускорение, которое тело приобретает при движении в вакууме
 - b) Ускорение, вызванное действием силы тяжести
 - c) Ускорение, обусловленное изменением температуры
5. Что такое закон сохранения энергии?
- a) Энергия не может быть создана или уничтожена, только преобразована
 - b) Энергия сохраняется только в абсолютном вакууме
 - c) Энергия сохраняется только в механических системах
6. Какой закон Ньютона описывает движение тела при постоянной скорости?
- a) Первый закон Ньютона
 - b) Второй закон Ньютона
 - c) Третий закон Ньютона
7. Что такое теплопередача по конвекции?
- a) Передача тепла через электромагнитные волны
 - b) Передача тепла через непосредственный контакт частиц вещества
 - c) Передача тепла через перемещение нагретых частиц
8. Какие единицы измерения используются для измерения силы в системе СИ?
- a) Джоули

b) Ньютон

с) Ватт

9. Что такое оптическое изображение в физике?

a) Изображение, созданное с использованием оптических приборов

b) Изображение, возникающее при отражении света от зеркала

с) Изображение, получаемое на фотоплёнке

10. Как называется явление, когда свет изменяет направление при переходе из одной среды в другую?

a) Дифракция

b) Рефракция

с) Дисперсия

9. Эталоны ответов по вариантам.

Вариант 1

1. b 2. B 3. B 4. B 5. A 6. B 7. A 8. B 9. B 10. B

Вариант 2

1. b 2. A 3. A 4. B 5. A 6. A 7. C 8. B 9. A 10. B

10. Критерии оценки

Каждый верный ответ оценивается в 1 (один) балл.

Оценка 5 «отлично» - 9-10 баллов

Оценка 4 «хорошо» - 7-8 баллов

Оценка 3 «удовлетворительно» - 5-6 баллов

Оценка 2 «неудовлетворительно» - менее 5 баллов

МИНИСТЕРСТВО ПРОФЕССИОНАЛЬНОГО ОБРАЗОВАНИЯ
И ЗАНЯТОСТИ НАСЕЛЕНИЯ ПРИМОРСКОГО КРАЯ

краевое государственное автономное
профессиональное образовательное учреждение
«Дальнегорский индустриально-технологический колледж»

**КОМПЛЕКТ КОНТРОЛЬНО-ОЦЕНОЧНЫХ СРЕДСТВ
ОБЩЕОБРАЗОВАТЕЛЬНОЙ ДИСЦИПЛИНЫ**

ОД.07 ХИМИЯ

подготовки специалистов среднего звена

код специальности 46.02.01 Документационное обеспечение управления и архивоведение

Дальнегорск, 2024 год

Комплект контрольно-оценочных средств разработан на основе Федерального государственного образовательного стандарта среднего общего образования с учетом Федерального государственного образовательного стандарта среднего профессионального образования по специальности 46.02.01 Документационное обеспечение управления и архивоведение базового уровня подготовки программы общеобразовательной дисциплины (далее – дисциплина) Химия.

Разработчики:

Организация-разработчик: КГА ПОУ «ДИТК»

Разработчики:

Бахаев Денис Викторович, преподаватель

Виноградова Юлия Михайловна, преподаватель

Дифференцированный зачёт

1. Форма проведения: комбинированная, защита/решение кейсов.

2. Условия выполнения

Время выполнения задания: 90

Оборудование учебного кабинета: материалы кейса, посадочные места по количеству обучающихся.

Технические средства обучения: нет.

Информационные источники: таблица Д.И. Менделеева.

Требования охраны труда: соблюдение норм техники безопасности, СанПиН.

3. Пакет материалов для проведения дифференцированного зачёта (структура КИМ)

3.1. Перечень тем (разделов), выносимых на дифференцированный зачёт:

1. Теоретические основы органической химии.
2. Углеводороды.
3. Кислородсодержащие органические соединения.
4. Азотсодержащие органические соединения.
5. Высокомолекулярные соединения.
6. Теоретические основы химии.
7. Неорганическая химия.
8. Химия и жизнь.

3.2. Содержание кейса для защиты на дифференцированном зачёте:

Задание № 1. Подготовка набора «Химический элемент» для защиты кейса (5 листов формат А4) по заданной теме. Содержание набора: «Положение элемента в таблице Менделеева», «Физические свойства элемента», «Химические свойства элемента», «Выделение элемента», «Нахождение элемента в природе».

Задание № 2. Решение практико-ориентированной задачи:

«Универсальный растворитель»

Одним из наиболее распространённых в природе веществ является вода. Без воды невозможна жизнь на Земле. Наша планета названа голубой потому, что две третьих её поверхности занимает вода. Организм человека примерно на 65% - 75% состоит из воды. Нормальная жизнедеятельность любого живого организма невозможна без пресной воды. Для хозяйственной деятельности человек также использует только пресную воду. На пресную воду приходится 2,6% от её общего содержания, да и то основная часть пресной воды сосредоточена только в виде льда, полярных шапок Северного и Южного полюсов и недоступна для потребления. Доля жидкой воды, доступной для использования, составляет всего 0,014% от общих запасов воды. Вода – одно из самых важных и необходимых соединений в природе. Она играет ключевую роль в большинстве жизненных процессов и необходима для существования всех живых организмов. Вода имеет множество функций, включая участие в обменных процессах, терморегуляцию, поддержание структуры и функций клеток и тканей. Она также является основным компонентом природных экосистем, обеспечивая среду обитания для многих видов растений и животных. Однако, несмотря на свою важность, вода также является одним из наиболее уязвимых природных ресурсов. Её доступность и качество могут быть подвержены негативному воздействию человеческой деятельности, включая загрязнение, изменение климата и нерациональное использование. В связи с этим, необходимо уделять особое внимание охране и рациональному использованию водных ресурсов. Это включает меры по предотвращению загрязнения воды, улучшению её качества и сохранению её запасов. Важно также повышать

осведомленность населения о важности воды и необходимости ее сохранения для будущих поколений.

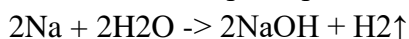
1. Какими особыми физическими свойствами обладает вода?
2. С какими веществами может взаимодействовать вода? Какие вещества при этом образуются? Напишите уравнения возможных реакций и назовите полученные вещества.
3. Каково влияние воды на организм человека?
4. Почему важно постоянное поступление воды в организм при наличии физических нагрузок?

Задание № 3. Комплексная защита кейса.

Эталоны ответов

1. Набор «Химический элемент» будет представлен в соответствии с инструкцией.

2. Ответы: 1. Особые физические свойства воды: а) полярность: молекулы воды являются полярными, то есть они имеют разницу в заряде между атомами кислорода и водорода. Это обуславливает способность воды образовывать водородные связи с другими молекулами, что делает её отличным растворителем для многих веществ; б) высокая теплоемкость: вода обладает способностью поглощать и сохранять тепло. Это позволяет ей регулировать климат и температуру на Земле, а также служит стабилизирующим фактором для температуры в организмах; в) высокая теплопроводность: вода обладает хорошей теплопроводностью, что позволяет ей быстро передавать тепло в окружающую среду; г) максимальная плотность при 4°C: вода достигает максимальной плотности при температуре 4°C, что означает, что вода, замерзая, не сжимается равномерно, что позволяет сохранять жизнь в водоемах зимой; д) высокое поверхностное натяжение: вода обладает способностью образовывать капли и сохранять свою форму благодаря поверхностному натяжению, что играет важную роль в жизнедеятельности растений, животных, а также определяет состояние атмосферы; д) особое тепловое расширение: вода при замерзании увеличивает свой объём, что делает её менее плотной и обуславливает плавание льда на воде. 2. Вода, будучи универсальным растворителем, может взаимодействовать со множеством различных веществ. Рассмотрим несколько примеров таких взаимодействий: взаимодействие воды с металлами. Если поместить металл (например, натрий) в воду, то он начнет активно реагировать с ней, выделяя водород и образуя гидроксид натрия:

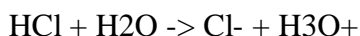


Полученное вещество - гидроксид натрия - является основанием и широко используется в химической промышленности.

Взаимодействие воды с неметаллами. Если смешать воду с серой, то под воздействием высокой температуры они образуют сероводород - токсичный газ, который используется в медицине для лечения заболеваний суставов:



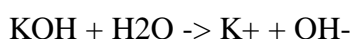
Взаимодействие воды с кислотами. Если в воду добавить кислоту, например, соляную, то они прореагируют друг с другом, образуя хлорид водорода:



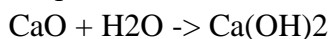
Полученные вещества - хлорид-ион и ион гидроксония - являются важными компонентами водных растворов.

Взаимодействие воды с основаниями.

Если в воде растворить основание, например, гидроксид калия, то они образуют гидроксид-анионы:



Взаимодействие воды с оксидами. Если смешать оксид кальция с водой, то образуется гидроксид кальция:



Взаимодействие воды с солями. Если растворить соль, например, хлорид натрия, в воде, то образуются ионы натрия и хлора:



3. Вода является необходимым компонентом для всех процессов жизнедеятельности организма человека. Она участвует в обмене веществ, транспортировке питательных веществ и кислорода к клеткам, выведении продуктов обмена и поддержании теплового баланса. Недостаток воды может привести к обезвоживанию организма, что может вызвать серьезные нарушения в его работе.

4. Постоянное поступление воды в организм во время физических нагрузок крайне важно по нескольким причинам: утрата воды через пот и терморегуляция: во время физических нагрузок может значительно подниматься температура тела, в следствие чего начинается процесс терморегуляции и активного потоотделения для охлаждения тела и регуляции температуры. В процессе происходит потеря жидкости, в том числе воды и электролитов, что может привести к обезвоживанию. Употребление достаточного количества воды помогает поддерживать этот процесс и предотвращать перегрев и обезвоживание организма. Поддержание гидратации: Гидратация организма играет важную роль в поддержании оптимальной работы мышц, сердечно-сосудистой системы и органов. Недостаток воды может привести к ухудшению физической выносливости, снижению производительности и увеличению риска различных состояний, таких как тепловой удар и судороги. В целом, поддержание гидратации организма во время физических нагрузок имеет решающее значение для оптимальной физической активности, производительности и общего здоровья. Поддержание электролитного баланса: вместе с водой в организме теряются электролиты, такие как натрий, калий и хлор. Эти вещества важны для нормального функционирования клеток и мышц. Поэтому важно употреблять напитки, содержащие электролиты. Улучшение восстановления: Поступление достаточного количества воды в организм после физических нагрузок помогает ускорить процесс восстановления, уменьшить мышечные боли и утомляемость.

3. Защита представляет собой: 1) презентацию набора с комментированием; проверку практико – ориентированной задачи по эталону.

4. Критерии оценки ответов обучающихся

Оценка 5 «отлично» - самостоятельная работа обучающегося (изготовление набора) выполнена в соответствии с требованиями (формат, содержание, аккуратность, безошибочность в терминах). Практико-ориентированная задача решена в полном объеме. Защита кейса (речь грамотная, последовательная).

Оценка 4 «хорошо» - самостоятельная работа обучающегося (изготовление набора) выполнена в соответствии с требованиями (формат, содержание, аккуратность, безошибочность в терминах). Практико-ориентированная задача решена в полном объеме. Защита кейса (речь грамотная, последовательная). Были допущены один-два недочета; не более одной негрубой ошибки и одного недочета.

Оценка 3 «удовлетворительно» - самостоятельная работа обучающегося (изготовление набора не выполнена). Практико-ориентированная задача решена. Были допущены один-два недочета; не более одной негрубой ошибки и одного недочета.

Оценка 2 «неудовлетворительно» - самостоятельная работа обучающегося (изготовление

набора не выполнена). Практико-ориентированная задача решена не в полном объеме.
Даны ответы на один – два вопроса.

4. Раздаточные материалы (если предусмотрены)

5. Зачетная ведомость

МИНИСТЕРСТВО ПРОФЕССИОНАЛЬНОГО ОБРАЗОВАНИЯ
И ЗАНЯТОСТИ НАСЕЛЕНИЯ ПРИМОРСКОГО КРАЯ

**краевое государственное автономное
профессиональное образовательное учреждение
«Дальнегорский индустриально-технологический колледж»**

КОМПЛЕКТ КОНТРОЛЬНО-ОЦЕНОЧНЫХ СРЕДСТВ ДЛЯ ПРОВЕДЕНИЯ
СТАРТОВОЙ ДИАГНОСТИКИ ПО ОБЩЕОБРАЗОВАТЕЛЬНОЙ ДИСЦИПЛИНЕ

ОД.07 ХИМИЯ

подготовки специалистов среднего звена

код специальности 46.02.01 Документационное обеспечение управления и архивоведение

Разработчики:

Организация-разработчик: КГА ПОУ «ДИТК»

Разработчики:

Бахаев Денис Викторович, преподаватель

Виноградова Юлия Михайловна, преподаватель

Дальнегорск, 2024 год

Комплект контрольно-оценочных средств разработан на основе Федерального государственного образовательного стандарта среднего общего образования с учетом Федерального государственного образовательного стандарта среднего профессионального образования по специальности 46.02.01 Документационное обеспечение управления и архивоведение базового уровня подготовки программы общеобразовательной дисциплины (далее – дисциплина) Химия.

1. Условия проведения: стартовая диагностика.
2. Форма контроля: проверочная работа.
3. Количество вариантов для проведения стартовой диагностики: 2.
4. Время выполнения заданий: 25 мин.
5. Оборудование: посадочные места по количеству обучающихся.
6. Учебно-методическая и справочная литература: не используется.
7. Условия приема контрольных заданий преподавателем: по завершению работы.
8. Порядок подготовки и проведения стартовой диагностики: на занятии.

Задания для обучающихся по вариантам

Вариант 1

1. Перед вами ряд веществ: AgCl , $\text{Al}(\text{OH})_3$, H_2SO_4 , K , CaO , O_2 , P , Al , HNO_3 , Al_2O_3 , H_2CO_3 , KOH , Na_2SO_4 , N_2 , Fe , Cu , FeSO_4 , CO_2 , $\text{Ca}(\text{OH})_2$, Cl_2 , HI , H_2 , Na , $\text{Ba}(\text{OH})_2$, Ag_2O , HCl , NaNO_3 .

Задания:

- 1.1. Выберите из данного списка простые вещества.
- 1.2. Выберите из данного списка веществ металлы.
- 1.3. Выберите из данного списка веществ оксиды.
- 1.4. Выберите из данного списка веществ соли.
2. Определите относительную молекулярную массу H_2S .
3. Дан ряд чисел, соответствующих количеству электронов в электронных слоях в атоме химического элемента: 2-8-4. Назовите этот химический элемент.
4. Выпишите вещество, имеющее ковалентную полярную связь: I_2 , NH_3 , KCl .
5. Продолжите уравнение реакции: $\text{SO}_3 + \text{H}_2\text{O} =$
6. Составьте полное и сокращенное ионные уравнения реакции.
 $\text{H}_2\text{SO}_4 + 2\text{NaOH} = \text{Na}_2\text{SO}_4 + 2\text{H}_2\text{O}$
7. Найти массу 2 моль аммиака (NH_3).

Вариант 2

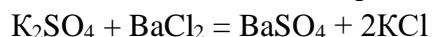
1. Перед вами ряд веществ: AgCl , $\text{Al}(\text{OH})_3$, H_2SO_4 , K , CaO , O_2 , P , Al , HNO_3 , Al_2O_3 , H_2CO_3 , KOH , Na_2SO_4 , N_2 , Fe , Cu , FeSO_4 , CO_2 , $\text{Ca}(\text{OH})_2$, Cl_2 , HI , H_2 , Na , $\text{Ba}(\text{OH})_2$, Ag_2O , HCl , NaNO_3 .

Задания:

- 1.1. Выберите из данного списка любых 10 сложных веществ.
- 1.2. Выберите из данного списка веществ неметаллы.
- 1.3. Выберите из данного списка веществ основания.
- 1.4. Выберите из данного списка веществ кислоты.
2. Определите относительную молекулярную массу SO_2 .
3. Дан ряд чисел, соответствующих количеству электронов в электронных слоях в атоме химического элемента: 2-8-6. Назовите этот химический элемент.
4. Выпишите вещество, имеющее ковалентную неполярную связь: N_2 , CO_2 , NaCl .

5. Продолжите уравнение реакции: $\text{Na}_2\text{O} + \text{H}_2\text{O} =$

6. Составьте полное и сокращенное ионные уравнения реакции.

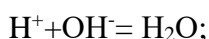


7. Найти массу 3 моль кислорода (O_2).

9. Эталоны ответов по вариантам.

Вариант 1

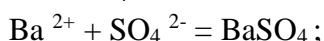
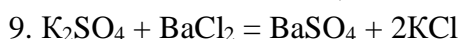
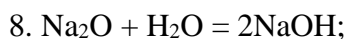
1. K, O_2 , P, Al, N_2 , Fe, Cu, Cl_2 , H_2 , Na; 2. K, Al, Fe, Cu, Na; 3. CaO, H_2O , Al_2O_3 , CO_2 , Ag_2O ; 4. AgCl, Na_2SO_4 , CuSO_4 , NaNO_3 ; 5. 34; 6. кремний; 7. NH_3 ; 8. $\text{SO}_3 + \text{H}_2\text{O} = \text{H}_2\text{SO}_4$; 9. $\text{H}_2\text{SO}_4 + 2\text{NaOH} = \text{Na}_2\text{SO}_4 + 2\text{H}_2\text{O}$



10. 34г.

Вариант 2

1. AgCl, $\text{Al}(\text{OH})_3$, H_2SO_4 , CaO, H_2O , NaOH, HNO_3 , Al_2O_3 , H_2CO_3 , Na_2SO_4 , CuSO_4 , CO_2 , $\text{Ca}(\text{OH})_2$, $\text{Ba}(\text{OH})_2$, Ag_2O , HCl, NaNO_3 (10 любых веществ из списка); 2. O_2 , P, N_2 , Cl_2 , H_2 ; 3. $\text{Al}(\text{OH})_3$, NaOH, $\text{Ca}(\text{OH})_2$, $\text{Ba}(\text{OH})_2$; 4. HCl, H_2SO_4 , HNO_3 , H_2CO_3 ; 5. 64; 6. сера; 7. N_2 ;



10. 96 г.

10. Критерии оценки

Номер вопроса	1	2	3	4	5	6	7	8	9	10
Количество баллов	0,5	0,5	0,5	0,5	0,3	0,3	0,4	0,6	0,8	0,6

Отметка 5 «отлично» - 5 баллов.

Отметка 4 «хорошо» - 4 баллов.

Отметка 3 «удовлетворительно» - 3 балла.

Отметка 2 «неудовлетворительно» - 0-2 балла

МИНИСТЕРСТВО ПРОФЕССИОНАЛЬНОГО ОБРАЗОВАНИЯ
И ЗАНЯТОСТИ НАСЕЛЕНИЯ ПРИМОРСКОГО КРАЯ

**краевое государственное автономное
профессиональное образовательное учреждение
«Дальнегорский индустриально-технологический колледж»**

**КОМПЛЕКТ КОНТРОЛЬНО-ОЦЕНОЧНЫХ СРЕДСТВ
ОБЩЕОБРАЗОВАТЕЛЬНОЙ ДИСЦИПЛИНЫ**

ОД.08 БИОЛОГИЯ

подготовки специалистов среднего звена
код специальности 46.02.01 Документационное обеспечение управления и архивоведение

Дальнегорск, 2024 год

Комплект контрольно-оценочных средств разработан на основе Федерального государственного образовательного стандарта среднего общего образования с учетом Федерального государственного образовательного стандарта среднего профессионального образования по специальности 46.02.01 Документационное обеспечение управления и архивоведение базового уровня подготовки программы общеобразовательной дисциплины (далее – дисциплина) Биология.

Разработчики:

Организация-разработчик: КГА ПОУ «ДИТК»

Разработчик: Виноградова Юлия Михайловна, преподаватель.

Дифференцированный зачет

1. Форма проведения: письменная, тест.

2. Условия выполнения

1. Инструкция для обучающихся: Дорогой студент!

На выполнение дифференцированного зачета отводится 90 минут.

Работа состоит из 28 заданий.

Задания 4, 6, 15, 23, 25, 26 – базового уровня. За выполнение каждого задания – 1 балл.

Все остальные задания повышенного уровня, оцениваются в 2 балла.

Максимально ты можешь набрать 50 баллов.

Оценка 5 «отлично» - 43-50 баллов.

Оценка 4 «хорошо» - 33-42 балла.

Оценка 3 «удовлетворительно» - 25-32 балла.

Оценка 2 «неудовлетворительно» - менее 25 баллов.

2. Время выполнения: 90 минут.

3. Оборудование учебного кабинета: материалы дифференцированного зачета, посадочные места по количеству обучающихся.

4. Технические средства обучения: нет.

5. Информационные источники: не используются.

6. Требования охраны труда: соблюдение СанПиН.

3. Пакет экзаменатора

3.1. Перечень тем, выносимых на дифференцированный зачет:

1. Биология как наука.

2. Живые системы и их организация.

3. Химический состав и строение клетки.

4. Жизнедеятельность клетки.

5. Размножение и индивидуальное развитие организмов.

6. Наследственность и изменчивость организмов.

7. Селекция организмов. Основы биотехнологии.

8. Эволюционная биология.

9. Возникновение и развитие жизни на Земле.

10. Организмы и окружающая среда.

11. Сообщества и экологические системы.

12. Биотехнология и синтетическая биология.

3.2. Практические задания к дифференцированному зачету

1. Заполните схему. Укажите названия фаз фотосинтеза и веществ, образующихся на конечном этапе каждой фазы.



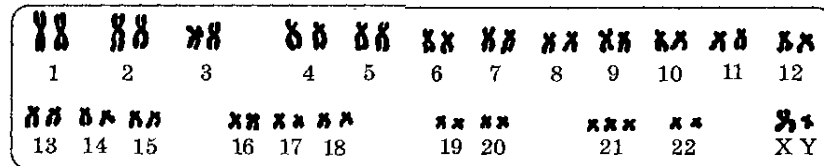
1. _____

2. _____

3. _____

1. _____

2. Ответьте, правильно ли данное высказывание (да – нет).
1. Анеуплоидия вызывается геномной мутацией.
 2. Мутации в соматических клетках передаются по наследству.
 3. Источником комбинативной изменчивости является мейоз.
 4. Ненаследственная изменчивость – изменение енотипа в пределах нормы реакции.
 5. Искусственный мутагенез принимают для увеличения количества мутаций.
3. Рассмотрите рисунок, иллюстрирующий хромосомный набор человека. Определите, больному или здоровому человеку он принадлежит.



Аргументируйте свой ответ.

4. Заполните пробелы, пользуясь подсказкой в скобках.

.....+.....+.....=.....

(цитоплазма, гиалоплазма, органоиды, включение)

5. Установите соответствие между типом изменчивости и его характеристиками.

ТИП ИЗМЕНЧИВОСТИ

1. модификационная
2. мутационная

ХАРАКТЕРИСТИКИ

- А. носит приспособленный и обратимый характер
- Б. проявляется у отдельных особей вида
- В. наблюдается у большинства особей вида
- Г. не затрагивает изменения генов и хромосом
- Д. связана с изменением генотипа
- Е. дает материал для естественного отбора

6. Выберите из приведенных ниже схем ту, которая выражает смысл первого закона Менделя.

А) AA x aa

Б) Aa x Aa

В) Aa x aa

↓

↓

↓

Aa

3A : 1aa

½ Aa : ½ aa

7. Выпишите номера признаков, характерных для яйцеклетки.

1. Большое количество цитоплазмы.
2. Подвижность.
3. Содержит м-РНК и белки – регуляторы генной активности.
4. Очень плотная упаковка ДНК в ядре.
5. Содержит питательные вещества (в основном липиды и белки).
6. Отсутствуют многие органеллы (рибосомы, ЭПС, аппарат Гольджи).
7. Огромные размеры.
8. Много митохондрий.

8. Установите соответствие между типом наследственности и его признаками.

ТИП НАСЛЕДСТВЕННОСТИ

1. ядерная
2. цитоплазматическая

ПРИЗНАКИ

- А. связана с работой генов, расположенных в ДНК пластид
 - Б. следствие работы генов, находящихся в ядерной ДНК
 - В. связана с генами, расположенными в ДНК митохондрий
 - Г. признаки передающиеся по отцовской линии
 - Д. наблюдается материнское наследие
 - Е. в передаче наследственных признаков играет второстепенную роль
9. Определите происхождение систем и органов и поставьте буквы, соответствующие частям зародыша, напротив каждого органа или системы.
- | Системы органов: | Части зародыша: |
|--|--|
| 1. Кожа:
-эпителий
-дерма (соединительная ткань) | А. эктодерма
Б. мезодерма
В. энтодерма |
| 2. Скелет:
-череп
-позвоночник | |
| 3. Мышцы | |
| 4. Дыхательная система | |
10. Определите, правильно ли данное высказывание (да – нет).
- 1. ЭПС – это часть комплекса Гольджи.
 - 2. Лизосомы образуются из пузырьков комплекса Гольджи.
 - 3. Шероховатая ЭПС покрыта рибосомами.
 - 4. Цитоскелет выполняет защитную функцию.
 - 5. Включения – это непостоянные образования клетки.
 - 6. Клеточная стенка есть только у растений.
 - 7. У растений нет клеточного цвета.
 - 8. Жгутики и реснички различаются по функциям.
 - 9. Облегченная диффузия – это вид активного транспорта.
 - 10. Митохондрии отличаются от пластид наличием ДНК.
11. Установите правильную последовательность появления в процессе эволюции основных групп животных.
- А. тип Кишечнополостные
 - Б. тип Плоские черви
 - В. тип Членистоногие
 - Г. тип Колониальные жгутиковые
 - Д. тип Кольчатые черви
 - Е. тип Хордовые
12. Укажите позиции, являющиеся верными. В организме человека происходит превращение.
- А. аминокислот в белки
 - Б. глюкозы в гликоген
 - В. глюкозы в белки
 - Г. белков в жир
 - Д. жиров в белки
 - Е. ферментов в гормоны
13. Установите соответствие между наукой и предметом ее изучения.

НАЗВАНИЕ НАУКИ

1. генетика
2. гистология
3. цитология
4. микробиология
5. эмбриология

ПРЕДМЕТ ИЗУЧЕНИЯ

- А. клетка
- Б. ткань
- В. наследственность и изменчивость живых организмов
- Г. зародышевое развитие организмов
- Д. бактерии

14. Установите последовательность процессов.

- А. выпадение нуклеотида в начале цепи ДНК
- Б. нарушение первичной структуры ДНК
- В. действие ионизирующего излучения
- Г. изменение первичной структуры белка
- Д. нарушение обмена веществ
- Е. проявление наследственного заболевания

15. Назовите эру, о которой идёт речь в тексте.

Наиболее значимым событием в эту эру было завоевание суши растениями и животными. Этому способствовало сокращение морских бассейнов в связи с горообразованием. В морях изобиловали фораминиферы и другие простейшие, имеющие раковины. Их огромные скопления образовали мощные пласты известняка. Воздух освоили разнообразные насекомые, а по земле начали распространяться потомки кистепёрных рыб. От псилофитов выделились типичные споровые растения. На земной поверхности возникали первые леса.

16. Установите соответствие между типом эволюции и его характеристиками.

ТИП ЭВОЛЮЦИИ

1. микроэволюция
2. макроэволюция

ХАРАКТЕРИСТИКИ

- А. доступна непосредственному наблюдателю и изучению
- Б. о ее прохождении свидетельствуют окаменелости, отпечатки, останки переходных форм живых организмов
- В. приводит к возникновению новых популяций, подвидов и видов
- Г. приводит к возникновению новых классов, типов (отделов)
- Д. сопровождается возникновением частных приспособлений к условиям среды
- Е. идет по пути возникновения ароморфозов и общей дегенерации

17. К антропогенным экологическим факторам относят.

- А. внесение органических удобрений в почву
- Б. уменьшение освещенность в водоемах с увеличением глубины
- В. выпадение осадков
- Г. прекращение вулканической деятельности
- Д. прореживание саженцев сосны
- Е. обмеление рек в результате вырубки лесов

18. Из списка выпишите номера абиотических факторов.

1. Химический состав воды
2. Разнообразие планктона
3. Влажность
4. Температура почвы
5. Наличие клубеньковых бактерий у бобовых
6. Скорость течение воды
7. Разнообразие растений
8. Наличие в воздухе бактерий
9. Соленость воды

19. Установите правильную последовательность эр палеонтологической истории Земли, начиная со времени зарождения жизни.

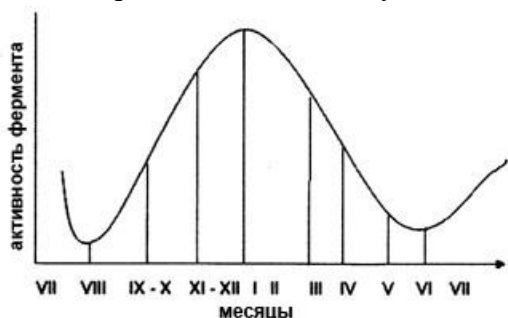
- А. протерозой
- Б. кайнозой
- В. архей
- Г. палеозой
- Д. мезозой

20. Прочтите текст, содержащийся в таблице. Дайте ей название и подпишите графы.


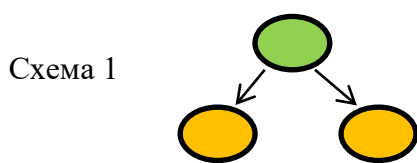
А _____.

Б	В
Биополимеры, могут иметь первичную, вторичную, третичную и четвертичную структуру молекулы. Плохо растворимы в воде. Выполняют в клетках строительную, регуляторную, каталитическую, транспортную и энергетическую функции.	Это циклические молекулы, полимеры. Хорошо растворимы в воде, если имеют в своей структуре небольшое число мономеров; вещества с большим их числом в воде не растворяются. В клетках выполняют функции: энергетическую, структурную, запасующую.
Г	Д
Нерастворимы в воде, но растворимы в органических растворах (бензине, эфире и т.п.). В клетках выполняют энергетическую, терморегуляторную, защитную, строительную, запасующую функции.	Биополимеры, состоящие из молекул нуклеотидов. Некоторые обладают способностью к самоудвоению по принципу комплементарности. Располагаются в основном в ядре. Обеспечивают хранение и передачу наследственной информации в клетке.

21. На графике показана активность фермента каталазы у пчел в течение года. На какое время года приходится максимум активности фермента?




1. весна 2. зима 3. осень 4. лето
 22. Назовите процессы размножения организмов, изображённые на схемах.



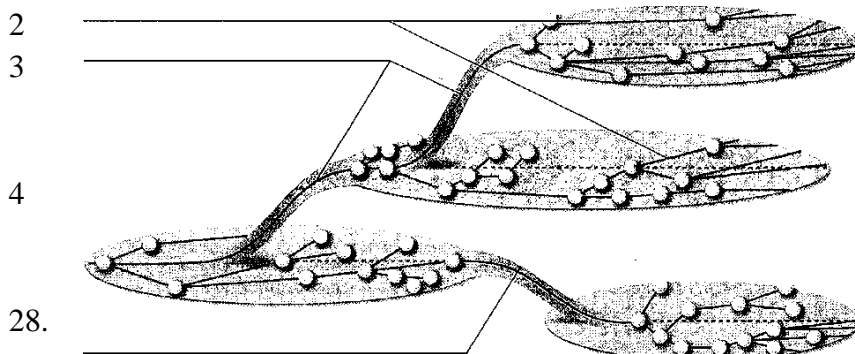
- Какой из этих процессов имеет эволюционное преимущество? Почему?
 23. Найдите ошибки в молекуле РНК (А-А-Т-Г-Ц-У-Т-АТ-Ц).
 24. Найти ошибки в тексте и справьте их.

(1) Еще Рудольф Вирхов провозгласил, что новая клетка может появляться только в результате деления старой. (2) Таким образом в основе любого вида размножения лежит деление клеток. (3) Вид клеточного деления, в ходе которого образуются половые клетки, называется митозом. (4) В противоположность мейозу – способу образования клеток соматических. (5) Первая стадия митоза называется анафазой («ана» значит «начало»)...
 25. Рассмотрите рисунок и укажите недостающую стадию.



26. Популяция летучих мышей живет в горных пещерах и тропиках при постоянной температуре +20 С. В среднем у каждой пары мышей за их жизнь рождается 2 детеныша (и выживают). Каковы последствия разрушения пещеры и понижения t воздуха до +15 С для данной популяции? Ответ обоснуйте.
 27. Дайте название схеме и подпишите ее элементы.

1 _____



Какое влияние оказывает подземная разработка на окружающую среду? (приведите три примера).

Эталоны ответов на практические задания.

№	Ответы	Баллы
1	Световая фаза: свободный кислород, АТФ, НАДФ·Н ₂	2 б – все верно;

	Темновая фаза: глюкоза	1 б – одна ошибка; 0 б – 2 и более ошибок
2	1 – да, 2 – нет, 3 – да, 4 – да, 5 – да	2 б – все верно; 1 б – одна ошибка; 0 б – 2 и более ошибок
3	Хромосомный набор больного человека, так как есть лишняя хромосома в 21 паре. При норме 46 хромосом, данный набор содержит 47 хромосом (трисомия 21 пары).	2 б – все верно; 1 б – нет обоснования; 0 б – 2 и более ошибок
4	Гиалоплазма + органоиды + включение = цитоплазма	1 б
5	1 - А В Г, 2 – Б Д Е.	2 б – все верно; 1 б – одна ошибка; 0 б – 2 и более ошибок
6	А	1 б
7	1, 3, 4, 6	2 б – все верно; 1 б – одна ошибка; 0 б – 2 и более ошибок
8	1 – Б Г Д, 2 – А В Е.	2 б – все верно; 1 б – одна ошибка; 0 б – 2 и более ошибок
9	1 – А, Б; 2 – А, Б; 3 – Б, 4 – В	2 б – все верно; 1 б – одна ошибка; 0 б – 2 и более ошибок
10	1 – нет, 2 – да, 3 – да, 4 – нет, 5 – да, 6 – нет, 7 – да, 8 – да, 9 – нет, 10 – нет	2 б – все верно; 1 б – одна ошибка; 0 б – 2 и более ошибок
11	Г, А, Б, Д, В, Е	2 б – все верно; 1 б – одна ошибка; 0 б – 2 и более ошибок
12	А, Б, Г	2 б – все верно; 1 б – одна ошибка; 0 б – 2 и более ошибок
13	В, Б, А, Д, Г	2 б – все верно; 1 б – одна ошибка; 0 б – 2 и более ошибок
14	В, Б, А, Г, Д, Е	2 б – все верно; 1 б – одна ошибка; 0 б – 2 и более ошибок
15	Палеозой	1 б
16	1 – А, В, Д; 2 – Б, Г, Е	2 б – все верно; 1 б – одна ошибка; 0 б – 2 и более ошибок
17	А, Д, Е	2 б – все верно; 1 б – одна ошибка; 0 б – 2 и более ошибок
18	1, 3, 4, 6, 9	2 б – все верно;

		1 б – одна ошибка; 0 б – 2 и более ошибок
19	В, А, Г, Д, Б	2 б – все верно; 1 б – одна ошибка; 0 б – 2 и более ошибок
20	А – органические вещества Б – белки В – углеводы Г – липиды Д – нуклеиновые кислоты	2 б – все верно; 1 б – одна ошибка; 0 б – 2 и более ошибок
21	2	1 б
22	Элементы ответа: Схема 1 – бесполое размножение, деление Схема 2 – половое размножение Эволюционное преимущество имеет второй вариант, Комбинирование признаков, полученных от родителей, может позволить лучше приспособиться потомству	2 б – все верно; 1 б – одна ошибка; 0 б – 2 и более ошибок
23	Тимин не входит в состав РНК	1 б
24	3 - Вид клеточного деления, в ходе которого образуются половые клетки, называется <u>мейозом</u> . 4 - В противоположность <u>митозу</u> – способу образования клеток соматических. 5 - Первая стадия митоза называется <u>профазой</u> («про» значит «начало»)..	2 б – все верно; 1 б – даны номера предложений, но нет исправлений; 0 б – 2 и более ошибок
25	Бластула	1 б
26	Элементы ответа: Возникает риск для выживания потомства, так как за счет снижения температуры возможно уменьшение кормовой базы, и риск переохладение детенышей. Что в конечном итоге может привести к снижению численности популяции.	1 б
27	1 – Направления эволюции 2 – Ароморфоз 3 – Идиоадаптация 4 – Общая дегенерация	2 б – все верно; 1 б – одна ошибка; 0 б – 2 и более ошибок
28	Возможные ответы: 1. Загрязнение воды: подземная разработка может приводить к загрязнению водных ресурсов в результате проникновения химических веществ или металлов из шахт в подземные водоносные горизонты. Это может привести к ухудшению качества питьевой воды и вредить местной экосистеме. 2. Выбросы в атмосферу: процессы подземной разработки, такие как добыча и транспортировка руды, могут вызывать выбросы пыли, газов и других загрязнителей в атмосферу. Эти выбросы могут приводить к атмосферному загрязнению и негативно влиять на здоровье человека и биологическое разнообразие.	3б

<p>3. Изменение ландшафта: подземная разработка может приводить к изменению ландшафта и гидрологического режима. Например, создание карьеров или шахт может привести к разрушению лесов и сельскохозяйственных угодий, изменению рельефа и дренированию водоемов. 4. Угроза биологическому разнообразию: разрушение естественных местообитаний и загрязнение окружающей среды могут привести к утрате биологического разнообразия и исчезновению местных видов растений и животных.</p>	
---	--

4.Комплект тестов – 2 варианта.

5.Экзаменационная ведомость.

5.Критерии оценки ответов обучающихся

Оценка 5 «отлично» - 43-50 баллов.

Оценка 4 «хорошо» - 33-42 балла.

Оценка 3 «удовлетворительно» - 25-32 баллов.

Оценка 2 «неудовлетворительно» - менее 25 баллов.

МИНИСТЕРСТВО ПРОФЕССИОНАЛЬНОГО ОБРАЗОВАНИЯ
И ЗАНЯТОСТИ НАСЕЛЕНИЯ ПРИМОРСКОГО КРАЯ

**краевое государственное автономное
профессиональное образовательное учреждение
«Дальнегорский индустриально-технологический колледж»**

КОМПЛЕКТ КОНТРОЛЬНО-ОЦЕНОЧНЫХ СРЕДСТВ ДЛЯ ПРОВЕДЕНИЯ
СТАРТОВОЙ ДИАГНОСТИКИ ПО
ОБЩЕОБРАЗОВАТЕЛЬНОЙ ДИСЦИПЛИНЕ

ОД.08. У БИОЛОГИИ

подготовки специалистов среднего звена
код специальности 46.02.01 Документационное обеспечение управления и архивоведение

Разработчики:

Организация-разработчик: КГА ПОУ «ДИТК»

Разработчик: Виноградова Юлия Михайловна, преподаватель

Дальнегорск, 2024 год

Комплект контрольно-оценочных средств разработан на основе Федерального государственного образовательного стандарта среднего общего образования с учетом Федерального государственного образовательного стандарта среднего профессионального образования по специальности 46.02.01 Документационное обеспечение управления и архивоведение базового уровня подготовки программы общеобразовательной дисциплины (далее – дисциплина) Биология.

1. Условия проведения: стартовая диагностика.
2. Метод (форма) контроля контрольная работа.
3. Количество вариантов для проведения контроля 2.
4. Время выполнения заданий 20 минут.
5. Оборудование: посадочные места по количеству обучающихся.
6. Учебно-методическая и справочная литература: нет.
7. Условия приема контрольных заданий преподавателем: письменно по завершению выполнения.
8. Порядок подготовки и проведения текущего контроля в рамках учебного занятия по расписанию, входной контроль преподаватель осуществляет самостоятельно.

Задания для обучающихся по вариантам

Вариант 1.

Указать один правильный вариант ответа.

1. Наука о тканях живых организмов называется:
 - 1) цитология
 - 2) эмбриология
 - 3) гистология
 - 4) материаловедение
2. Что является элементарной и функциональной единицей живой системы?
 - 1) ген
 - 2) ДНК
 - 3) клетка
 - 4) ядро
3. Какие из перечисленных организмов НЕ имеют клеточного строения?
 - 1) бактериофаги
 - 2) грибы
 - 3) растения
 - 4) цианобактерии
4. В чем состоит отличие клеток животных от клеток растений?
 - 1) в способности к делению
 - 2) в способе питания
 - 3) в наличии ядра
 - 4) в дыхании
5. Клетки капусты отличаются от клеток тюльпана:
 - 1) наличием хлоропластов
 - 2) наличием вакуолей
 - 3) отсутствием гликокаликса
 - 4) числом хромосом
6. Дыхательная система включает:
 - 1) кожу и дыхательные пути
 - 2) грудную клетку и легкие
 - 3) легкие и дыхательные пути
 - 4) грудную клетку и дыхательные пути
7. Нарушение функций мозжечка вызывает:
 - 1) нарушение пищеварения
 - 2) нарушение координации движения
 - 3) нарушение мышечного тонуса и терморегуляции
 - 4) учащение дыхания
8. У писателей, музыкантов, художников наиболее развита память:
 - 1) кратковременная
 - 2) промежуточная
 - 3) смысловая
 - 4) образная

9. Как называется способность организмов приобретать в течение жизни новые признаки и свойства?

1) гомеостаз 2) изменчивость 3) обмен веществ 4) наследственность

10. Где разрушаются эритроциты?

1) в красном костном мозге 3) в печени
2) в селезенке 4) в печени и селезенке

11. Водные процедуры способствуют:

1) образованию витаминов D и A 3) усилению пигментации кожи
2) образованию витаминов C и B 4) повышению тонуса сосудов

12. Какое заболевание развивается у человека при недостатке в пище витаминов?

1) авитаминоз 3) гиповитаминоз
2) гипервитаминоз 4) поливитаминоз

13. Какую первую помощь необходимо оказать человеку при пищевом отравлении?

1) напоить сладким горячим зеленым чаем
2) промыть желудок
3) дать антибиотики
4) положить пузырь со льдом на область желудка

14. Лишение сна вызывает у человека:

1) психические заболевания
2) сердечно-сосудистые заболевания
3) заболевания органов пищеварения
4) эндокринные заболевания

15. Какой витамин образуется в коже человека под действием ультрафиолетовых лучей?

1) A 2) B 3) C 4) D

Запишите номера трех правильных ответов.

16. Сходное строение клеток животных и растений свидетельствует:

1. об их родстве
2. об общности их происхождения
3. о происхождении растений от животных
4. об их развитии в процессе эволюции
5. о единстве растительного и животного мира
6. о многообразии их органов и тканей

17. Что происходит при фотосинтезе?

1. Поглощается кислород
2. Выделяется углекислый газ
3. Поглощается углекислый газ
4. Выделяется кислород
5. Органические вещества образуются
6. Органические вещества расходуются

18. Прочтите текст и найдите в тексте предложения, в котором содержатся биологические ошибки. Запишите сначала номера этих предложений, а затем сформулируйте правильно.

НАСЛЕДСТВЕННОСТЬ.

(1) Наследственность – это способность организма сохранять и передавать свои признаки и особенности развития из поколения в поколение. (2) Передача наследственных признаков у организма, происходит только при половом размножении. (3) Носителями наследственной информации у большинства организмов служат молекулы ДНК,

сосредоточенные в хромосомах. (4) Материальной основой наследственности, определяющей развитие признака, является ген – участок молекулы ДНК. (5) Совокупность всех наследственных признаков – генов организма, полученных от обоих родителей, называют генофондом организма. (6) Все полученные по наследству гены обязательно проявятся у организма.

Вариант 2.

Указать один правильный вариант ответа.

1. Наука об историческом развитии живой природы носит название:
 - 1) биология индивидуального развития
 - 2) история биологии
 - 3) палеонтология
 - 4) эволюционное учение
2. Какие органические соединения НЕ являются источником энергии?
 - 1) белки
 - 2) липиды
 - 3) витамины
 - 4) углеводы
3. Через почки выделяются:
 - 1) кислород
 - 2) мочевины
 - 3) двуокись углерода
 - 4) аминокислоты
4. У танцоров и спортсменов наиболее развита память:
 - 1) кратковременная
 - 2) двигательная
 - 3) смысловая
 - 4) промежуточная
5. Главная железа внутренней секреции:
 - 1) щитовидная железа
 - 2) гипофиз
 - 3) надпочечники
 - 4) эпифиз
6. Как называется способность организмов поддерживать относительно постоянный физико-химический состав:
 - 1) гомеостаз
 - 2) осмос
 - 3) обмен веществ
 - 4) питание
7. Для переваривания какой группы веществ необходима желчь?
 - 1) углеводов
 - 2) жиров
 - 3) белков
 - 4) нуклеиновых кислот
8. Артерии – это сосуды, несущие...
 - 1) только артериальную кровь
 - 2) только венозную
 - 3) кровь от сердца к органам и тканям
 - 4) кровь от органов и тканей
9. Основные процессы всасывания происходят в ...
 - 1) ротовой полости
 - 2) желудке
 - 3) тонкой кишке
 - 4) толстой кишке
10. Какой витамин образуется в коже человека под действием ультрафиолетовых лучей?
 - 1) А
 - 2) В
 - 3) С
 - 4) D
11. Какое из перечисленных заболеваний НЕ является инфекционным?
 - 1) гастрит
 - 2) холера
 - 3) брюшной тиф
 - 4) дизентерия
12. Какое из кровотечений наиболее опасно для человека?
 - 1) артериальное
 - 2) капиллярное
 - 3) внутреннее
 - 4) венозное
13. Какие кости в скелете человека соединены подвижно?
 - 1) кости таза
 - 2) позвонки грудного отдела позвоночника
 - 3) кости плеча и предплечья
 - 4) кости черепа
14. Естественные факторы закаливания:

- 1) вода, солнце и витамины
- 2) вода, воздух и витамины
- 3) солнце, воздух и вода
- 4) воздух, солнце и витамины

15. Какую первую помощь необходимо оказать пострадавшему при тепловом ударе?

- 1) напоить горячим чаем
- 2) приподнять голову
- 3) прикрыть голову
- 4) обернуть мокрой простыней

Запишите номера трех правильных ответов.

16. Во время метафазы I происходят:

1. Спирализация и обмен участками гомологичных хромосом
2. Прикрепление к центромерам хромосом нитей веретена деления
3. Окончание формирования митотического аппарата
4. Конъюгация гомологичных хромосом
5. Выстраивание бивалентов хромосом на экваторе клетки с образованием метафазной пластинки
6. Деление хроматид и их расхождение к полюсам клетки
7. Расхождение гомологичных хромосом к полюсам клетки

17. Выберите признаки, отличающие клетку животного от бактериальной клетки

1. Наследственный материал содержится в ядре клетки
2. Образуют споры
3. Наличие цитоплазмы
4. Наличие клеточной стенки
5. Наличие рибосом
6. Наличие цитоплазматической мембраны

18. Прочтите текст и найдите в тексте предложения, в котором содержатся биологические ошибки. Запишите сначала номера этих предложений, а затем сформулируйте правильно.

(1) Биосинтез углеводов – это процесс, в ходе которого наследственная информация, закодированная в генах, реализуется в виде определенной последовательности аминокислот в белковых молекулах. (2) Все начинается с синтеза матричной РНК на определенном участке ДНК. (3) Матричная ДНК выходит через поры ядерной мембраны в цитоплазму и прикрепляется к рибосоме. (4) В цитоплазме находятся транспортные РНК и аминокислоты. (5) Информационные РНК одним своим концом узнают тройку нуклеотидов на матричной РНК, а другим присоединяют определенные аминокислоты. (6) Присоединив аминокислоту, транспортная РНК идет на рибосомы, где, найдя нужную тройку нуклеотидов, кодирующих данную аминокислоту, отщепляет ее в синтезируемую белковую цепь.

9. Эталоны ответов по вариантам.

Вариант 1

вопрос	ответ	вопрос	ответ	вопрос	ответ
1	3	7	2	13	2
2	3	8	4	14	1

3	1	9	4	15	4
4	2	10	4	16	125
5	4	11	4	17	345
6	3	12	3	18	256

Задание 18: (2): - Передача наследственных признаков у организма происходит при бесполом и половом размножении. (5): - Совокупность всех наследственных признаков – генов организма, полученных от обоих родителей, называют генотипом организма. (6): - Не все полученные по наследству признаки обязательно проявляются у организма.

Вариант 2

вопрос	ответ	вопрос	ответ	вопрос	ответ
1	3	7	2	13	3
2	3	8	3	14	3
3	2	9	3	15	4
4	2	10	4	16	235
5	2	11	1	17	124
6	1	12	3	18	135

Задание 18: (1): - Биосинтез белка – это процесс, в ходе которого наследственная информация, закодированная в генах, реализуется в виде определенной последовательности аминокислот в белковых молекулах. (3): Матричная РНК выходит через поры ядерной мембраны в цитоплазму и прикрепляется к рибосоме. (5): - Транспортные РНК одним своим концом узнают тройку нуклеотидов на матричной РНК, а ...

10. Критерии оценок

За верное выполнение каждого из заданий 1–15 выставляется 1 балл.

За верный ответ на каждое из заданий 16–18 выставляется по 3 балла.

Оценка 5 «отлично» - 22-24 балла.

Оценка 4 «хорошо» - 18-21 балл.

Оценка 3 «удовлетворительно» - 14-17 баллов.

Оценка 2 «неудовлетворительно» - 0-13 баллов.

МИНИСТЕРСТВО ПРОФЕССИОНАЛЬНОГО ОБРАЗОВАНИЯ
И ЗАНЯТОСТИ НАСЕЛЕНИЯ ПРИМОРСКОГО КРАЯ

**краевое государственное автономное
профессиональное образовательное учреждение
«Дальнегорский индустриально-технологический колледж»**

**КОМПЛЕКТ КОНТРОЛЬНО-ОЦЕНОЧНЫХ СРЕДСТВ
ОБЩЕОБРАЗОВАТЕЛЬНОЙ ДИСЦИПЛИНЫ**

ОД.09 ИСТОРИЯ

подготовки специалистов среднего звена
код специальности 46.02.01 Документационное обеспечение управления и архивоведение

Дальнегорск, 2024 год

Комплект контрольно-оценочных средств разработан на основе Федерального государственного образовательного стандарта среднего общего образования с учетом Федерального государственного образовательного стандарта среднего профессионального образования по специальности 46.02.01 Документационное обеспечение управления и архивоведение базового уровня подготовки программы общеобразовательной дисциплины (далее – дисциплина) История.

Разработчики:

Организация-разработчик: КГА ПОУ «ДИТК»

Разработчик: Будник Мирослава Сергеевна, преподаватель

Дифференцированный зачёт

1. Форма проведения: устная (защита презентации).

2. Условия выполнения

Время выполнения задания: 90 минут.

Оборудование учебного кабинета: посадочные места для обучающихся.

Технические средства обучения: мультимедийная система, персональный компьютер.

Информационные источники:

1. Операционная система Microsoft Windows 10

2. Пакет программ Microsoft Office Professional Plus

3. 7-zip GNU Lesser General Public License (свободное программное обеспечение, не ограничено, бессрочно)

4. Интернет - браузер Google Chrome (бесплатное программное обеспечение, не ограничено, бессрочно)

Требования охраны труда: выполнение санитарных норм.

3. Пакет материалов для проведения дифференцированного зачёта (структура КИМ)

3.1. Перечень разделов, выносимых на дифференцированный зачёт:

Раздел 1. Россия в годы Первой мировой войны и Первая мировая война и послевоенный кризис Великой Российской революции (1914–1922).

Раздел 2. Межвоенный период (1918–1939). СССР в 1920–1930-е годы.

Раздел 3. Вторая мировая война: причины, состав участников, основные этапы и события, итоги. Великая Отечественная война. 1941–1945 годы.

Раздел 4. СССР в 1945–1991 годы. Послевоенный мир.

Раздел 5. Российская Федерация в 1992–2020 гг. Современный мир в условиях глобализации.

3.2. Перечень тем для подготовки компьютерных презентаций, выносимых на дифференцированный зачёт

1. Россия накануне Первой мировой войны: проблемы внутреннего развития, внешняя политика

2. Блоки великих держав: Тройственный союз, Антанта.

3. Причины, начало и ход Первой мировой войны.

4. Первые революционные преобразования большевиков.

5. Причины Великой российской революции и ее начальный этап.

6. Три основных этапа: Февральская революция, Октябрьская революция, Гражданская война.

7. Гражданская война и ее последствия.

8. Проблема массовой детской беспризорности в годы Первой Мировой войны.

9. Эмансипация женщин

10. Утверждение культа личности Сталина

11. Начало Второй мировой войны и ее причины.

12. Разгром Польши. Блицкриг

13. Разгром Франции и ее союзников

14. Нацистская политика геноцида, холокост.

15. Нападение Германии на СССР

16. План "Барбаросса", план "Ост".

17. Битва на Курской дуге

18. Победа СССР в Великой Отечественной войне

19. Основные этапы развития «Холодной Войны»
20. Гонка вооружений
21. XX съезд партии и разоблачение культа личности Сталина.
22. Создание ракетно-ядерного щита
23. Начало освоения космоса
24. Распад СССР (1985–1991 гг.)
25. Чернобыльская трагедия
26. Вступление в должность Президента В.В. Путина и связанные с этим ожидания.
27. Государственный переворот на Украине 2014 г. и позиция России.
28. Международный нефтяной кризис 2020 г. и его последствия.

Эталоны ответов на вопросы

Разработка содержимого презентации и подготовка слайдов, сопровождающих выступление обучающегося по защите презентации, в рамках промежуточной аттестации, должна соответствовать Методическим рекомендациям по оформлению презентаций для защиты различных видов работ краевого государственного автономного профессионального образовательного учреждения «Дальнегорский индустриально-технологический колледж» в редакции от 23.12.2023 г.

ПРАВИЛА ОФОРМЛЕНИЯ ПРЕЗЕНТАЦИИ:

1. презентация предполагает сочетание информации различных типов: текста, графических изображений (таблицы, диаграммы, графики), поэтому необходимо учитывать специфику комбинирования фрагментов информации различных типов. Так, например, для текстовой информации важен выбор шрифта, для графической – яркость и насыщенность цвета, для наилучшего их совместного восприятия необходимо оптимальное взаиморасположение на слайде; все объекты слайда (текст, рисунки, таблицы, диаграммы) должны одновременно отображаться на слайде, а смена слайдов должна происходить по щелчку; общее требование к расположению материалов на слайде – возможность его прочитать из любого места в аудитории, удобное для глаз сочетание цветов;

2. не допускается использование анимации и звуковых эффектов, если это не предусмотрено тематикой работы;

3. самым важным является требование читаемости (различимости букв, цифр, линий – как по размеру, так и цвету);

4. текстовый фрагмент должен быть структурирован: иметь заголовки, в случае списка – каждый его элемент должен быть четко обозначен. При необходимости, ключевые слова могут быть выделены жирным шрифтом;

5. в оформлении презентаций выделяют два блока: оформление слайдов и представление информации на них. Для создания качественной презентации необходимо соблюдать ряд требований, предъявляемых к оформлению данных блоков.

Таблица 1. Оформление слайдов

Стиль	единый стиль (шаблон) оформления; следует избегать стилей, которые будут отвлекать от самой презентации; дизайн презентации не должен противоречить содержанию
Колонтитул	Каждый слайд должен содержать нижний колонтитул, отображающий информацию: фамилию и инициалы студента, и

	наименование темы работы
Фон	для фона желательно использовать цвета пастельных тонов
Использование цвета	цветовая гамма текста должна состоять не более чем из двух-трех цветов; назначить каждому из текстовых элементов свой цвет (например, заголовки - зеленый, текст - черный и т.п.
Анимационные эффекты	анимационные эффекты использовать в презентации запрещено, если это не предусмотрено тематикой работы

Таблица 2. Представление информации

Содержание информации	на слайде используют короткие слова и предложения; заголовки должны привлекать внимание аудитории
Расположение информации на странице	предпочтительно горизонтальное расположение информации
Нумерация страниц	каждый слайд, кроме титульного должен быть пронумерован (размер шрифта: 16 пт)
Текстовая информация	размер шрифта: 24 - 48 пт (заголовков), 20 - 32 пт (обычный текст); цвет шрифта и цвет фона должны контрастировать (текст должен хорошо читаться), но не «резать» глаза; тип шрифта: для заголовка и основного текста гладкий шрифт без засечек (Arial); курсив, подчеркивание, жирный шрифт, прописные буквы рекомендуется использовать только для смыслового выделения фрагмента текста.
Способы выделения информации	следует использовать: рамки; границы, заливку; штриховку, стрелки; рисунки, диаграммы, схемы для иллюстрации наиболее важных фактов.
Графическая информация	для наглядного отображения и сравнения данных рекомендуется использовать диаграммы; все рисунки, диаграммы, графики должны иметь заголовки; рисунки и диаграммы должны соответствовать содержанию; рисунки, фотографии, диаграммы призваны дополнить текстовую информацию или передать ее в более наглядном виде; желательно избегать в презентации рисунков, не несущих смысловой нагрузки; цвет графических изображений не должен резко контрастировать с общим стилевым оформлением слайда
Объем информации	не стоит заполнять один слайд слишком большим объемом текстовой информации
Требования к оформлению заголовков	точку в конце заголовка не ставить; не следует писать длинные заголовки
Виды слайдов	для обеспечения разнообразия следует использовать разные виды слайдов: с текстом; с таблицами; с диаграммами и т.п.

ТРЕБОВАНИЯ К СОДЕРЖАНИЮ ПРЕЗЕНТАЦИИ:

1. содержание презентации должно быть четко структурировано. Это относится как к плану устного выступления, так и к визуальным элементам;
2. каждый новый слайд должен логически вытекать из предыдущего и одновременно подготавливать появление следующего (лучший способ проверить правильно ли построена презентация, – быстро прочитать только заголовки, если после этого станет ясно, о чем презентация – значит, структура построена верно);
3. слайды должны обеспечить полное и точное представление материала в максимально удобной для восприятия форме в пределах отведенного времени. Они должны отражать ключевые моменты темы;
4. автор при изложении материала доклада должен строго следовать последовательности слайдов.

Таблица 3. Требования к содержанию презентации

№ слайда	Содержание
Слайд № 1	Титульный слайд: Наименование учредителя (все буквы прописные, размер шрифта – 16 пт.) Полное наименование колледжа (все буквы строчные, кроме слова «Дальнегорский» размер шрифта – 16 пт.) Наименование вида работы (все буквы прописные, размер шрифта – 20-24 пт.) Наименование темы (размер шрифта – не менее 20 пт, жирный), Номер группы, Ф.И.О. студента, Ф.И.О. руководителя (размер шрифта – 16 пт.) Место и год составления презентации
Слайд № 2	Содержит актуальность и цель работы
Слайд № 3	Содержательная часть темы
Слайд № 4	Содержательная часть темы
Слайды № 5	Содержательная часть темы
Слайд № 6	Содержательная часть темы
Слайд № 7	Содержательная часть темы
Слайды № 8	Содержательная часть темы
Слайд № 9	Содержательная часть темы
Заключительный слайд	Заключение, выводы

Максимальное количество слайдов -10.

5. После создания презентации необходимо отрепетировать ее показ и свое выступление, проверить, как будет выглядеть презентация в целом (на экране компьютера или проекционном экране), как она воспринимается из разных мест аудитории, при разном освещении, шумовом сопровождении, в обстановке, максимально приближенной к реальным условиям выступления.

4. Критерии оценки ответов обучающихся

Оценка 5 «отлично»- соблюдены все правила оформления презентации в соответствии с таблицами 1-2. Соблюдены требования к содержанию презентации в соответствии с таблицей 3. Тема презентации раскрыта в полном объеме.

Таблица 1. Оформление слайдов

Стиль	единый стиль (шаблон) оформления; дизайн презентации не противоречит содержанию
Колонтитул	каждый слайд содержит нижний колонтитул, отображающий информацию: фамилию и инициалы студента, и наименование темы работы
Фон	пастельных тонов
Использование цвета	цветовая гамма текста состоит не более чем из двух-трех цветов; назначен каждому из текстовых элементов свой цвет (например, заголовки - зеленый, текст - черный и т.п.
Анимационные эффекты	анимационные эффекты использовать в презентации не используются

Таблица 2. Представление информации

Содержание информации	на слайде используют короткие слова и предложения
Расположение информации на странице	предпочтительно горизонтальное расположение информации
Нумерация страниц	каждый слайд, кроме титульного должен быть пронумерован (размер шрифта: 16 пт)
Текстовая информация	размер шрифта: 24 - 48 пт (заголовков), 20 - 32 пт (обычный текст); цвет шрифта и цвет фона должны контрастировать (текст должен хорошо читаться), но не «резать» глаза; тип шрифта: для заголовка и основного текста гладкий шрифт без засечек (Arial); курсив, подчеркивание, жирный шрифт, прописные буквы используются только для смыслового выделения фрагмента текста.
Способы выделения информации	используются рамки; границы, заливку; штриховку, стрелки; рисунки, диаграммы, схемы для иллюстрации наиболее важных фактов.
Графическая информация	для наглядного отображения и сравнения данных используются диаграммы; все рисунки, диаграммы, графики имеют заголовки; рисунки и диаграммы соответствует содержанию; рисунки, фотографии, диаграммы дополняют текстовую информацию или передают ее в более наглядном виде; в презентации не используются рисунки, не несущие смысловой нагрузки; цвет графические изображения не должны резко контрастировать с общим стилевым оформлением слайда
Объем информации	текст - не более 7 строк
Требования к оформлению заголовков	точку в конце заголовка не ставить; не следует писать длинные заголовки
Виды слайдов	для обеспечения разнообразия используются разные виды слайдов: с текстом; с таблицами; с диаграммами и т.п.

Таблица 3. Требования к содержанию презентации

№ слайда	Содержание
Слайд № 1	Титульный слайд:

	<p>Наименование учредителя (все буквы прописные, размер шрифта – 16 пт.)</p> <p>Полное наименование колледжа (все буквы строчные, кроме слова «Дальнегорский» размер шрифта – 16 пт.)</p> <p>Наименование вида работы (все буквы прописные, размер шрифта – 20-24 пт.)</p> <p>Наименование темы (размер шрифта – не менее 20 пт, жирный), Номер группы, Ф.И.О. студента, Ф.И.О. руководителя (размер шрифта – 16 пт.)</p> <p>Место и год составления презентации</p>
Слайд № 2	Содержит актуальность и цель работы
Слайд № 3	Содержательная часть темы
Слайд № 4	Содержательная часть темы
Слайды № 5	Содержательная часть темы
Слайд № 6	Содержательная часть темы
Слайд № 7	Содержательная часть темы
Слайды № 8	Содержательная часть темы
Слайд № 9	Содержательная часть темы
Заключительный слайд	Заключение, выводы

Оценка 4 «хорошо»- соблюдены все правила оформления презентации в соответствии с таблицами 1-2. Соблюдены требования к содержанию презентации в соответствии с таблицей 3. Тема презентации раскрыта в достаточном объеме. Допускается до 3 неточностей в оформлении презентации и (или) содержании презентации.

Оценка 3 «удовлетворительно» - правила оформления презентации в соответствии с таблицами 1-2 не соблюдены. Не соблюдены требования к содержанию презентации в соответствии с таблицей 3. Тема презентации раскрыта в целом.

Оценка 2 «неудовлетворительно»- правила оформления презентации в соответствии с таблицами 1-2 не соблюдены. Не соблюдены требования к содержанию презентации в соответствии с таблицей 3. Тема презентации не раскрыта.

5. Зачетная ведомость

МИНИСТЕРСТВО ПРОФЕССИОНАЛЬНОГО ОБРАЗОВАНИЯ
И ЗАНЯТОСТИ НАСЕЛЕНИЯ ПРИМОРСКОГО КРАЯ

**краевое государственное автономное
профессиональное образовательное учреждение
«Дальнегорский индустриально-технологический колледж»**

КОМПЛЕКТ КОНТРОЛЬНО-ОЦЕНОЧНЫХ СРЕДСТВ ДЛЯ ПРОВЕДЕНИЯ
СТАРТОВОЙ ДИАГНОСТИКИ ПО ОБЩЕОБРАЗОВАТЕЛЬНОЙ ДИСЦИПЛИНЕ

ОД.09 ИСТОРИЯ

подготовки специалистов среднего звена

код специальности 46.02.01 Документационное обеспечение управления и архивоведение

Разработчики:

Организация-разработчик: КГА ПОУ «ДИТК»

Разработчик: Будник Мирослава Сергеевна, преподаватель.

Дальнегорск, 2024 год

Комплект контрольно-оценочных средств разработан на основе Федерального государственного образовательного стандарта среднего общего образования с учетом Федерального государственного образовательного стандарта среднего профессионального образования по специальности 46.02.01 Документационное обеспечение управления и архивоведение базового уровня подготовки программы общеобразовательной дисциплины (далее – дисциплина) История.

1. Условия проведения: стартовая диагностика.
2. Форма контроля: проверочная работа.
3. Количество вариантов для проведения стартовой диагностики: 2.
4. Время выполнения заданий: 45 мин.
5. Оборудование: посадочные места по количеству обучающихся.
6. Учебно-методическая и справочная литература: не используется.
7. Условия приема контрольных заданий преподавателем: по завершению работы.
8. Порядок подготовки и проведения стартовой диагностики: на занятии.

Задания для обучающихся по вариантам

I вариант

Часть А.

1. Назовите даты правления Александра III:
 - 1) 1825-1855 гг.
 - 2) 1855- 1881 гг.
 - 3) 1881-1894 гг.
 - 4) 1894-1917 гг.
2. В результате проведенной в царствование Александра II военной реформы комплектование армии стало осуществляться на основе:
 - 1) дворянского ополчения
 - 2) рекрутской повинности
 - 3) всеобщей воинской повинности
 - 4) службы по контракту
3. Происходивший в России в 1830-1880 гг. переход от ручного труда - к машинному, от мануфактуры - к фабрике называется:
 - 1) промышленный переворот
 - 2) промышленная революция
 - 3) промышленная реформа
 - 4) верно все перечисленное
4. Как называлась категория бывших помещичьих крестьян, освобождённых от крепостной зависимости Положениями 19 февраля 1861 года, но не выплативших выкупные платежи за землю:
 - 1) посессионные
 - 2) капиталисты
 - 3) временнообязанные
 - 4) государственные
5. Проведение Земской реформы было начато Александром II в:
 - 1) 1861 г.
 - 2) 1864 г.
 - 3) 1874 г.
 - 4) 1880 г.

6. Какой новый вид транспорта начал развиваться в России во второй четверти XIX века?
- 1) гужевой
 - 2) автомобильный
 - 3) железнодорожный
 - 4) речной
7. Представители русской общественной мысли 1830-1850-х гг., считавшие, что Россия должна развиваться самобытным путем, а не следовать образцам ведущих европейских стран, назывались:
- 1) декабристами
 - 2) западниками
 - 3) славянофилами
 - 4) анархистами
8. К внешнеполитическим событиям периода правления Александра II относится:
- 1) Крымская война
 - 2) Присоединение Грузии
 - 3) Присоединение полуострова Крым
 - 4) Продажа полуострова Аляски
9. Назовите дату Русско-Японской войны
- 1) 1904-1905 гг.
 - 2) 1905-1907 гг.
 - 3) 1912-1913 гг.
 - 4) 1914-1918 гг.
10. Назовите основное направление внутренней политики Александра III:
- 1) развитие местного самоуправления
 - 2) укрепление сословного строя и самодержавия
 - 3) постепенный переход к правовому государству
 - 4) поиск компромисса с революционным движением
11. Что из названного относилось к контрреформам 1880-х годов?
- 1) создание Третьего Отделения Его Императорского Величества канцелярии
 - 2) запрет издания журнала «Телескоп»
 - 3) издание циркуляра о «кухаркиных детях»
 - 4) упразднение губернских и уездных земств
12. Государственная политика, направленная на повышение таможенных пошлин на ввозимую из-за границы продукцию – это:
- 1) протекционизм
 - 2) модернизация
 - 3) монополия
 - 4) реформа
13. Назовите даты правления Николая II:
- 1) 1825-1855 гг.
 - 2) 1855- 1881 гг.
 - 3) 1881-1894 гг.
 - 4) 1894-1917 гг.
14. Причиной Русско-Японской войны было:
- 1) борьба за сферы влияния на Дальнем Востоке
 - 2) начало революции в России

- 3) образование военно-политических блоков
 4) слабость государственного управления Китая
15. Отметьте, что из перечисленного не относится к реформам П.А.Столыпина:
 1) введение военно-полевых судов
 2) переселенческая политика
 3) аграрная реформа
 4) введение винной монополии
16. Целью столыпинской аграрной реформы было:
 1) создание крестьянских профсоюзов
 2) превращение России в аграрную страну
 3) прекращение экспорта хлеба за границу
 4) укрепление аграрного сектора экономики, создание широкого слоя собственников

Часть В.

17. Установите соответствие между датой и событием.

Дата	Событие
А) 19 февраля 1861 г.	1) Продажа Аляски
Б) 1 марта 1881 г.	2) «Кровавое воскресенье». Начало первой русской революции
В) 1867 г.	3) Подписание Манифеста об отмене крепостного права
Г) 9 января 1905 г.	4) Убийство Александра II

Ответ:

А	Б	В	Г

18. Рассмотрите иллюстрацию и определите, в каком году произошло изображенное на ней событие:

- 1) 1874 г.
 2) 1879 г.
 3) 1881 г.
 4) 1883 г.



19. Прочтите отрывок из сочинения историка. Напишите, о каком движении идет речь. Весной 1874 года началось это массовое движение. Тысячи молодых людей двинулись в деревню, рассчитывая поднять крестьянство на социальный переворот. В движении участвовала и демократическая разночинная интеллигенция, охваченная стремлением сблизиться с народом и служить ему своими знаниями. Действия пропагандистов были различны: одни говорили о постепенной подготовке к восстанию, другие призывали крестьян отнимать у помещика земли, отказываться от уплаты выкупных платежей, свергнуть царя и его право. Однако поднять крестьян на восстание не удалось. К концу 1874 года силы пропагандистов были разгромлены, хотя движение продолжалось и в 1875

году. За революционную пропаганду было привлечено к ответственности 2564 человека.

20. Этот человек, будучи министром внутренних дел, уничтожил III отделение полиции, смягчил цензуру, а в январе 1880 сделал доклад царю, где предложил привлекать общественных представителей для разработки важнейших законов в столицу. Хотя формы этого привлечения были далеки от тех, что предусматривал европейский парламентаризм, доклад потом часто именовали «Конституцией...». Назовите его имя.

- 1) К. Победоносцев
- 2) М. Лорис-Меликов
- 3) А. Толстой
- 4) Н. Михайлов

Часть С.

21. Назовите не менее трех причин поражения России в русско–японской войне

II-вариант

Часть А.

1. Назовите политический строй в России XIX века:

- 1) парламентская монархия,
- 2) конституционная монархия,
- 3) республика,
- 4) самодержавная монархия.

2. Назовите даты правления Александра II:

- 1) 1825-1855 гг.
- 2) 1855- 1881 гг.
- 3) 1881-1894 гг.
- 4) 1894-1917 гг.

3. Возникновение института присяжных заседателей связано с проведением:

- 1) Судебной реформы 1864 г.
- 2) Земской реформы 1864 г.
- 3) Крестьянской реформы 1861 г.
- 4) Городской реформы 1870 г.

4. Что такое отрезки?

- 1) земля, которой наделялись крестьяне по реформе 1861 г.
- 2) земля, которую отрезали у помещиков в пользу крестьян
- 3) часть крестьянского надела, оказавшаяся «лишней» по сравнению с установленной в 1861 г. нормой
- 4) объединение крестьянских хозяйств

5. С проведением военной реформы связана дата:

- 1) 1861 г.
- 2) 1864 г.
- 3) 1874 г.
- 4) 1880 г.

6. Что из перечисленного характерной чертой развития России в пореформенный период?

- 1) появление первых мануфактур
 - 2) появление металлургии и металлообработки
 - 3) активное развитие сельского хозяйства
 - 4) активное железнодорожное строительство
7. М.А. Бакунин, П.Л.Лавров, П.Н.Ткачев известны как теоретики:
- 1) славянофильства
 - 2) народничества
 - 3) западничества
 - 4) консерватизма
8. К внешнеполитическим событиям периода правления Александра II относится:
- 1) присоединение Бухарского эмирата и Кокандского ханства
 - 2) заключение Парижского мирного договора
 - 3) присоединение полуострова Крым
 - 4) Отечественная война
9. Основное направление внутренней политики Александра III:
- 1) постепенная отмена сословного строя
 - 2) ослабление репрессий в стране
 - 3) либерализация общественной жизни
 - 4) возвращение к основам «самодержавия, православия, народности»
10. По Университетскому уставу 1884 г. собрания и выступления студентов:
- 1) разрешались при участии ректора или попечителя университета
 - 2) разрешались только в Татьянин день
 - 3) строго воспрещались
 - 4) предполагалось проводить мирно без оружия
11. Объединение промышленников, контролирующее выпуск определенных видов продукции, способное диктовать цены рынку – это:
- 1) модернизация
 - 2) монополия
 - 3) парламент
 - 4) сенат
12. События: «Кровавое воскресенье», восстание на броненосце «Потемкин», декабрьское вооруженное восстание в Москве относятся к:
- 1) 1904-1905 гг.
 - 2) 1905-1907 гг.
 - 3) 1914-1918 гг.
 - 4) 1918-1920 гг.
13. Что из перечисленного не является причиной поражения русских войск в Русско-Японской войне:
- 1) трудность переброски войск на Дальний Восток
 - 2) слабость командования армии
 - 3) начало революции в России
 - 4) создание Государственной Думы
14. Какие мероприятия связаны с деятельностью Столыпина:
- 1) Манифест 17 октября
 - 2) указ о военных полевых судах
 - 3) указ «о вольных хлебопашцах»

- 4) «Жалованная грамота городам
15. Аграрная реформа Столыпина способствовала:
- 1) освоению сибирских земель
 - 2) началу разведения картофеля
 - 3) прекращению процесса раскрестьянивания
 - 4) полному исчезновению крестьянской общины.
16. Подписание Манифеста 17 октября 1905 года свидетельствовало:
- 1) ликвидации сословного и национального неравенства подданных Российской империи
 - 2) превращении Российской империи из абсолютной монархии в конституционную
 - 3) формировании демократического общества
 - 4) установлении диктатуры пролетариата

Часть В.

17. Установите соответствие названием понятием и определением: к каждому элементу первого столбца подберите соответствующий элемент из второго столбца.

Ответ запишите в таблице.

Понятие	Определение
А) Модернизация	1) Участок земли, выделенный крестьянину при выходе его из общины с переселением его из деревни на новое место жительства
Б Протекционизм	2) Участок земли, выделенный крестьянину, вышедшему из общины с сохранением его двора в деревне
В) Отруб	3) Политика, цель которой состоит в ограничении ввоза определенных товаров из-за границы за счет повышения пошлин на ввозимую продукцию.
Г) Хутор	4) Осуществляемый в короткие сроки переход от традиционного, аграрно-сословного общества к современному индустриальному обществу, сопровождающийся изменениями в социальной структуре общества и быте людей

Ответ:

А	Б	В	Г

18. Прочтите отрывок из воспоминаний Б.Н. Чичерина и укажите императора, о котором идёт речь.

«Целые два месяца Россия была в каком-то странном смущении и оцепенении; не только руки отпадали от всякого дела, но даже ум и чувства как будто омертвели. Покойного государя любили, обожали освобождённые крестьяне и бывшие дворовые люди; душевно были к нему расположены и преданы в обществе все лично его знавшие и те, которые много слышали о его сердечной доброте, о его всегдашнем расположении ко всякому доброму делу»

- 1) Николай I
- 2) Александр II
- 3) Александр III
- 4) Николай II

19. При значительном содействии этого человека, министра иностранных дел, в 1871 году была уничтожена 2-я статья Парижского трактата о нейтрализации Чёрного моря. Все -

все великие державы согласились подвергнуть пересмотру означенную статью Парижского договора и вновь предоставить России право держать военный флот в



Черном море. Назовите его имя.

1) К. Победоносцев

2) А. М. Горчаков

3) А. Толстой

4) Н. Михайлов

20. Рассмотрите иллюстрацию и определите, какое событие на ней изображено

Часть С.

21. Напишите названия (не менее трех) политических партий России, появившихся после Манифеста 17 октября 1905 г.

9.Эталоны ответов по вариантам.

I вариант. 1-1, 2-2, 3-3, 4-3, 5-2, 6-3, 7-3, 8-4, 9-2, 10-2, 11-3, 12-1, 13-4, 14-1, 15-4, 16-4, 17-3, 18-3, 19-Хождение в народ, 20-2, 21- Отсутствие возможности быстрой переброски войск и снаряжения на Дальний Восток; ошибки и непродуманность действий командования России; военно-техническое превосходство японцев.

II вариант. 1-4, 2-2, 3-1, 4-3, 5-3, 6-4, 7-2, 8-1, 9-4, 10-3, 11-2, 12-2, 13-4, 14-2, 15-4, 16-2, 17-4, 18-2, 19-2, 20-Убийство градоначальника Трепова Верой Засулич, 21- Конституционные демократы (кадеты), Союз 17 октября (Октябристы), Союз Русского народа, РСДРП.

Критерии оценивания:

задания 1 – 16 -оцениваются 1 баллом

задания 17 – 20 -оцениваются 2 баллами

задание 21-оценивается 3 баллами.

Оценка 5 «отлично» - 24-27 баллов

Оценка 4 «хорошо» - 21-23 балла

Оценка 3 «удовлетворительно» - 16-20 баллов

Оценка 2 «неудовлетворительно» - ниже 16 баллов.

**МИНИСТЕРСТВО ПРОФЕССИОНАЛЬНОГО ОБРАЗОВАНИЯ
И ЗАНЯТОСТИ НАСЕЛЕНИЯ ПРИМОРСКОГО КРАЯ**

**краевое государственное автономное
профессиональное образовательное учреждение
«Дальнегорский индустриально-технологический колледж»**

**КОМПЛЕКТ КОНТРОЛЬНО-ОЦЕНОЧНЫХ СРЕДСТВ
ОБЩЕОБРАЗОВАТЕЛЬНОЙ ДИСЦИПЛИНЫ (ПРЕДМЕТА)**

ОД.10 ОБЩЕСТВОЗНАНИЕ

подготовки специалистов среднего звена
код специальности 46.02.01 Документационное обеспечение управления и архивоведение

Дальнегорск, 2024 год

Комплект контрольно-оценочных средств разработан на основе Федерального государственного образовательного стандарта среднего общего образования с учетом Федерального государственного образовательного стандарта среднего профессионального образования по специальности 46.02.01 Документационное обеспечение управления и архивоведение базового уровня подготовки программы общеобразовательной дисциплины (далее – дисциплина) Обществознание.

Разработчики:

Организация-разработчик: КГА ПОУ «ДИТК»

Разработчик: Будник Мирослава Сергеевна, преподаватель.

Экзамен

1. Форма проведения: письменная, тестирование.
2. Условия выполнения
 1. Инструкция для обучающихся.
 2. Время выполнения: 90 минут.
 3. Оборудование учебного кабинета: посадочные места для обучающихся, материал для проведения экзамена.
 4. Технические средства обучения: не используются.
 5. Информационные источники, допустимые к использованию на экзамене: отсутствуют.
 6. Требования охраны труда: соблюдение СанПиН.
3. Пакет материалов для проведения экзамена
 - 3.1. Перечень тем, контролируемых в ходе промежуточной аттестации.
 - Тема 1.1. Общество как система. Общественные отношения. Общественный прогресс. Глобализация и ее противоречивые последствия.
 - Тема 1.2. Человек как результат биологической и социокультурной эволюции.
 - Тема 1.3. Деятельность и ее структура.
 - Тема 1.4. Особенности, уровни и методы научного познания.
 - Тема 2.1. Духовная деятельность человека.
 - Тема 2.2. Молодежная субкультура. Контркультура. Функции культуры.
 - Тема 2.3. Мораль как общечеловеческая ценность и социальный регулятор. Наука. Функции науки.
 - Тема 2.4. Религия, её роль в жизни общества и человека. Искусство, его основные функции.
 - Тема 3.1. Роль экономики в жизни общества.
 - Тема 3.2. Функционирование рынков. Рыночный спрос. Закон спроса. Рыночное предложение. Закон предложения. Эластичность предложения.
 - Тема 3.3. Рынок труда. Заработная плата и стимулирование труда. Занятость и безработица.
 - Тема 3.4. Рациональное экономическое поведение. Предприятие в экономике.
 - Тема 3.5. Финансовый рынок. Финансовые институты. Банки. Банковская система.
 - Тема 3.6. Налоговая система Российской Федерации. Функции налогов. Мировая экономика.
 - Тема 4.1. Социальные общности, группы, их типы. Социальная стратификация, ее критерии. Социальные статусы и роли. Социальная мобильность, ее формы и каналы в современном российском обществе.
 - Тема 4.2. Семья и брак. Функции и типы семьи. Семья как важнейший социальный институт.
 - Тема 4.3. Миграционные процессы в современном мире. Этнические общности. Нации и межнациональные отношения.
 - Тема 4.4. Социальные нормы и отклоняющееся (девиантное) поведение. Социальный контроль и самоконтроль. Социальный конфликт.
 - Тема 5.1. Политическая власть и субъекты политики в современном обществе.
 - Тема 5.2. Федеративное устройство Российской Федерации.
 - Тема 5.3. Политическая культура общества и личности.
 - Тема 5.4. Политический процесс и участие в нем субъектов политики. Избирательная система. Политическая элита и политическое лидерство.

- Тема 5.5. Роль средств массовой информации в политической жизни общества.
- Тема 6.1. Право в системе социальных норм.
- Тема 6.2. Конституция Российской Федерации.
- Тема 6.3. Гражданское право. Гражданские правоотношения.
- Тема 6.4. Семейное право.
- Тема 6.5. Трудовое право.
- Тема 6.6. Административное право и его субъекты. Административное правонарушение и административная ответственность.
- Тема 6.7. Уголовный процесс, его принципы и стадии. Гражданские споры, порядок их рассмотрения. Основные принципы гражданского процесса.
- Тема 6.8. Конституционное судопроизводство. Арбитражное судопроизводство. Административный процесс. Судебное производство по делам об административных правонарушениях.
- Тема 6.9. Экологическое законодательство. Экологические правонарушения. Способы защиты права на благоприятную окружающую среду.

3.2. Практические задания к дифференцированному зачету:

Характеристика работы

Проверочная работа состоит из двух частей. Первая часть включает 13 заданий, проверяющих усвоение обучающимися знаний по курсу. Вторая часть включает 4 задания, проверяющих умение обучающегося применять полученные знания в профессиональной деятельности. В работе содержатся задания базового и повышенного уровней сложности. На выполнение работы отводится 90 минут (2 академических часа). Для выполнения заданий дополнительного оборудования не требуется. При выполнении работы не разрешается пользоваться учебниками, рабочими тетрадями и другими справочными материалами. Выполнение задания в зависимости от типа и трудности оценивается разным количеством баллов. Максимальный балл за выполнение всей работы – 32 балла.

Часть 1.

1. Установите соответствие между примерами проявления и характеристикой глобальных проблем: к каждой позиции, данной в первом столбце, подберите соответствующую позицию из второго столбца.

ПРОЯВЛЕНИЯ

- А) постепенное истощение запасов нефти и металлов
- Б) активизация деятельности экстремистских групп (захват заложников, подготовка и проведение взрывов в местах массового скопления людей)
- В) быстрый рост населения в странах Азии, Африки и Латинской Америки
- Г) увеличение разрыва в уровне валового национального дохода на душу населения между группами стран
- Д) рост заболеваний, вызванных отходами вредных производств

ГЛОБАЛЬНЫЕ ПРОБЛЕМЫ

- 1) угроза мирового терроризма
- 2) угроза экологического кризиса
- 3) проблема «Север - Юг».

2. Прочитайте текст. Каждое предложение текста пронумеровано. Укажите номера предложений, в которых допущены ошибки.

«Человек, активно осваивающий и целенаправленно преобразующий природу, общество и самого себя, является индивидом (1). Человек обладает социально сформированными и индивидуально выраженными качествами: интеллектуальными, эмоционально-волевыми, нравственными и др. (2) Их формирование связано с тем, что индивид в совместной с другими людьми активности познаёт и изменяет мир и самого себя (3). Процесс этого познания в ходе усвоения и воспроизводства социального опыта одновременно является процессом дезадаптации (4).

Личность определяют, как особую форму существования и развития социальных связей, отношений человека к миру и с миром, к себе и с самим собой (5). Она характеризуется стремлением развиваться, расширять сферу своей деятельности и открыта всем влияниям общественной жизни, всякому опыту (6)».

3. Определите, в каких случаях мы наблюдаем экстенсивный, а в каких – интенсивный экономический рост.

1) корпорация N в Тольятти осуществляет строительство второго завода для производства автомобильных деталей.

2) операторы-термисты предприятия «Звезда» проходят дополнительное обучение, повышая свою квалификацию.

3) уральская корпорация В. разрабатывает второе месторождение минералов, добывая больше полезных ископаемых.

4. Определите, какой вид безработицы иллюстрирует данный пример. В Российской империи XIX века существовала такая профессия, как фонарщик. Обязанность фонарщика заключалась в том, чтобы обойти десятки фонарей, заливая в них конопляное масло и поправляя фитили.

Таким образом, представители этой профессии следили за уличным освещением и исправностью фонарей. Профессия фонарщика потеряла свою актуальность, когда появилась более современная система уличного освещения. Фонарщики остались без работы.

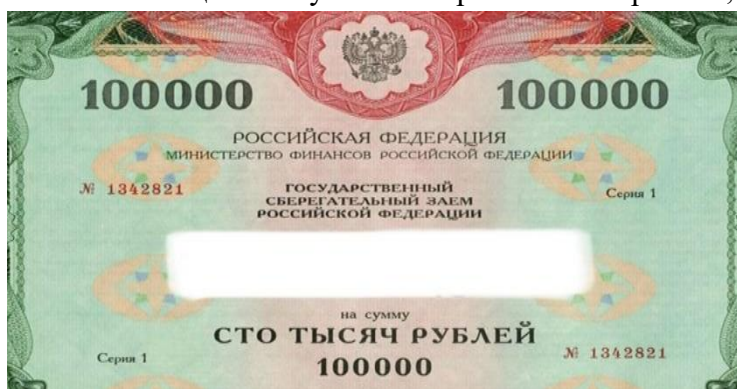
1) фрикционная

2) сезонная

3) циклическая

4) структурная.

5. Какая ценная бумага изображена на картинке, если мы знаем, что:



_____ — это ценная бумага, которая удостоверяет, что её владелец дал определённую сумму денег в долг государству, муниципалитету или фирме, выпустившим _____, и теперь имеет право на получение через определённое время

назад своих денег и премии, величина которой устанавливается при продаже _____.

О какой ценной бумаге идёт речь в тексте? Выберите один верный ответ.

- 1) акция
- 2) облигация
- 3) вексель
- 4) долговая расписка.

6. Какая избирательная система проиллюстрирована рисунком?
Выберите один верный ответ.



- 1) мажоритарная
- 2) пропорциональная
- 3) смешанная
- 4) демократическая.

7. Прочитайте текст интервью кандидата в президенты.

Корреспондент: почему вы выступаете за бесплатную раздачу нуждающимся еды с истекающим сроком годности?

Кандидат в президенты: во-первых, это справедливо, мы должны заботиться о нуждающихся любыми доступными способами, которые у нас есть, даже если это в ущерб интересам компаний.

Корреспондент: то есть вы готовы на всё ради пользы большинству?

Кандидат в президенты: не большинству, а всему обществу, более того я за создание государства всеобщего благосостояния.

Корреспондент: нужно ли устанавливать высокие налоги с бизнеса?

Кандидат в президенты: Я считаю, что мы можем соблюсти баланс между интересами общества и бизнеса.

Какие политические взгляды выражает кандидат? Выберите один верный ответ.

- 1) либеральные
- 2) коммунистические
- 3) социалистические
- 4) консервативные.

8. Конституция провозглашает Z демократическим федеративным государством с республиканской формой правления. Какие из приведённых признаков характеризуют

форму государственного (территориального) устройства Z? Запишите цифры, под которыми они указаны.

- 1) регулярные выборы главы государства и парламента на альтернативной основе.
- 2) двухпалатная структура парламента, обеспечивающая представление регионов.
- 3) включение в состав государства нескольких государственных образований, каждое из которых обладает определённой собственной компетенцией.
- 4) действие конституций субъектов при верховенстве общей конституции.
- 5) наличие реальных политических и социальных прав и свобод граждан.
- 6) политический плюрализм.

9. Прочитайте приведённый ниже текст, в котором пропущен ряд слов (словосочетаний). Выберите из предлагаемого списка слова (словосочетания), которые необходимо вставить на место пропусков.

«Социальная роль — это совокупность ожиданий, прав и обязательств, направленных на человека как обладателя определённого _____(А). Исполнению социальной роли обучаются в процессе _____(Б), ориентируясь на те ожидания, которые выставляет социум. Роль можно понимать как «ответ» на совокупность ожиданий, устремлённых на человека в _____(В). Этот «ответ» детерминирован его позицией, _____(Г), должностью, полом и другими факторами. Роль ставит своему исполнителю поведенческие пределы. Если поведение, свойственное данной роли, не выходит за эти пределы, то оно удовлетворяет и индивида, и его окружение, т. е. отвечает требуемым _____(Д). У разных ролей разные пределы дозволенности, и в каждой роли есть специфические ситуации этой дозволенности. Диапазон этой _____(Е) может быть большой или меньший, строгость соблюдения «ролевых» правил слабее или сильнее».

Слова (словосочетания) в списке даны в именительном падеже. Каждое слово (словосочетание) может быть использовано только один раз.

- | | | |
|---------------------|---------------------|----------------------|
| 1) социальные нормы | 2) стратификация | 3) социализация |
| 4) профессия | 5) социальные лифты | 6) социальный статус |
| 7) ролевая свобода | 8) общество | 9) мобильность |

В данной ниже таблице приведены буквы, обозначающие пропущенные слова. Запишите в таблицу под каждой буквой номер выбранного вами слова.

Ответ:

А	Б	В	Г	Д	Е

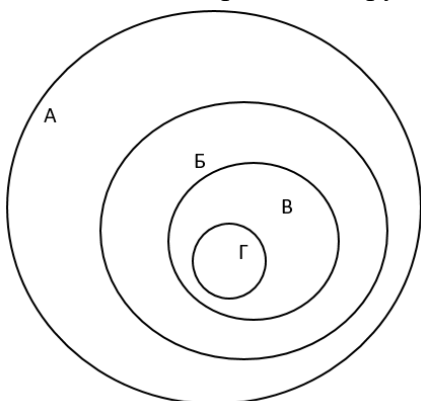
10. Ниже перечислены источники (формы) права. Определите, какой из источников права действует на территории РФ. Выберите один верный ответ.

- 1) правовой обычай
- 2) судебный прецедент
- 3) религиозный текст
- 4) нормативный правовой акт.

11. В Конституции РФ указаны обязанности гражданина РФ. Выберите из приведённого списка все верные ответы.

- 1) защищать Отечество

- 2) платить налоги
- 3) быть избранным в органы власти
- 4) бережно относиться к памятникам истории и культуры
- 5) принимать участие в митингах.
12. Перед вами круги Эйлера, которые обозначены буквами А, Б, В, Г.



Соотнесите букву с определенным термином из приведенного ниже списка и заполните таблицу:

- 1) отрасль права
- 2) институт права
- 3) подотрасль права
- 4) норма права.

А	Б	В	Г

13. Оцените верность каждого суждения.

Ответ запишите в виде цифры:

- 1 - да, суждение верно;
- 2 - нет, суждение неверно.

- 1) Одной из форм рационального познания является суждение.
- 2) Одним из критериев научного познания является соответствие законам логики.
- 3) Иудаизм относится к мировым религиям.
- 4) Одним из факторов производства в современном мире является информация.
- 5) Одним из неценовых факторов предложения изменение количества покупателей.
- 6) Примером нисходящей социальной мобильности является переход из христианства в даосизм.
- 7) Наличие общей территории является одним из условий формирования этноса.
- 8) Одной из отличительных особенностей демократического режима является соблюдение права на свободу слова.
- 9) Одним из источников власти в Российской Федерации является ее многонациональный народ.
- 10) Сторонами в гражданском судопроизводстве являются адвокат и обвинитель.

1	2	3	4	5	6	7	8	9	10

Часть 2.

1. Перечислите три любых требования, которые предъявляет информационное общество

к выбранной специальности/профессии.

2. Каковы социальные ожидания общества от реализации профессиональной социальной роли по выбранной специальности/профессии? Приведите не менее трех составляющих социальной роли.
3. Назовите три социально-экономических права гражданина Российской Федерации и проиллюстрируйте их реализацию на примере представителя профессии/специальности.
4. Гражданин Российской Федерации после получения среднего профессионального образования устраивается на работу по профессии/специальности. Какие документы он должен предъявить для устройства на работу? Приведите три примера его будущих обязанностей в качестве работника.

4. Эталоны ответов на практические задания

1 вариант

Часть 1. 1-21332; 2-14; 3 - экстенсивный – 13, интенсивный – 2; 4 -4; 5-2; 6 – 3; 7 -1; 8 – 234; 9 - 638417; 10 – 4; 11 – 124; 12 – 1324; 13 -1121121112

Часть 2

Задание 1.

Правильный ответ должен содержать следующие элементы:

Предложено три требования к профессии в информационном обществе, например, способность самостоятельно добывать знания; овладение ИКТ технологиями, непрерывное обучение для формирования новых профессиональных навыков. Могут быть предложены другие требования.

Задание 2.

Правильный ответ должен содержать три ролевых ожидания, соответствующих профессии/специальности, например, от медсестры общество ожидает консультирования по медицинским вопросам, оказание необходимой медицинской помощи, проявление выдержки и такта по отношению к пациенту и т.п.

Задание 3. Правильный ответ должен содержать следующие элементы:

Приведены три социально-экономических права, и каждое право проиллюстрировано примером с точки зрения специальности/профессии, например

- 1) право свободно распоряжаться своими способностями к труду (Ирина Ивановна устроилась на работу учителем начальных классов в школу №1).
- 2) право на отдых (Учитель Ирина Ивановна 1 июля вышла в очередной отпуск).
- 3) право на свободное использование своих способностей и имущества для предпринимательской и иной не запрещенной законом экономической деятельности (Учитель Ирина Ивановна оформила самозанятость и оказывает услуги репетитора).

Задание 4.

Правильный ответ должен содержать следующие элементы:

Перечислены документы, необходимые для устройства на работу с учетом специфики специальности/профессии, например, документ, удостоверяющий личность; документ об образовании; трудовая книжка, СНИЛС, документы воинского учета и т.п.

Приведены три обязанности работника, каждая из которых проиллюстрирована примером на основе специальности/профессии, например:

- 1) добросовестно исполнять трудовые обязанности (учитель Ирина Ивановна ведет уроки и проводит внеклассные мероприятия);
- 2) соблюдать правила внутреннего распорядка (учитель Ирина Ивановна не опаздывает

на работу);

- 3) бережно относиться к имуществу работодателя (учитель Ирина Ивановна аккуратно работает на ноутбуке, который ей выдали в школе).

2 вариант

Часть 1. 1-21213; 2-721685; 3 -13; 4 -4; 5-3; 6 – 12122; 7 -1; 8 – 456; 9 - 752691; 10 – 4; 11 – 12; 12 – 1324; 13 -1121121112

Часть 2

Задание 1.

Правильный ответ должен содержать следующие элементы:

Предложено три требования к профессии в информационном обществе, например, способность самостоятельно добывать знания; овладение ИКТ технологиями, непрерывное обучение для формирования новых профессиональных навыков. Могут быть предложены другие требования.

Задание 2.

Правильный ответ должен содержать три ролевых ожидания, соответствующих профессии/специальности, например, от медсестры общество ожидает консультирования по медицинским вопросам, оказание необходимой медицинской помощи, проявление выдержки и такта по отношению к пациенту и т.п.

Задание 3. Правильный ответ должен содержать следующие элементы:

Приведены три социально-экономических права, и каждое право проиллюстрировано примером с точки зрения специальности/профессии, например

- 1) право свободно распоряжаться своими способностями к труду (Ирина Ивановна устроилась на работу учителем начальных классов в школу №1).
- 2) право на отдых (Учитель Ирина Ивановна 1 июля вышла в очередной отпуск).
- 3) право на свободное использование своих способностей и имущества для предпринимательской и иной не запрещенной законом экономической деятельности (Учитель Ирина Ивановна оформила самозанятость и оказывает услуги репетитора).

Задание 4.

Правильный ответ должен содержать следующие элементы:

Перечислены документы, необходимые для устройства на работу с учетом специфики специальности/профессии, например, документ, удостоверяющий личность; документ об образовании; трудовая книжка, СНИЛС, документы воинского учета и т.п.

Приведены три обязанности работника, каждая из которых проиллюстрирована примером на основе специальности/профессии, например:

- 1) добросовестно исполнять трудовые обязанности (учитель Ирина Ивановна ведет уроки и проводит внеклассные мероприятия);
- 2) соблюдать правила внутреннего распорядка (учитель Ирина Ивановна не опаздывает на работу);
- 3) бережно относиться к имуществу работодателя (учитель Ирина Ивановна аккуратно работает на ноутбуке, который ей выдали в школе).

4.Комплект материалов.

5. Ведомость.

6.Критерии оценки ответов обучающихся:

Критерии оценивания заданий:

Часть 1

Полный правильный ответ на каждое из заданий 1-7, 10 оценивается 1 баллом; неполный, неверный ответ или его отсутствие – 0 баллов. Полный правильный ответ на задания 8, 9, 11, 12 оценивается 2 баллами; если допущена одна ошибка – 1 балл; если допущено две и более ошибок или ответ отсутствует – 0 баллов. Полный правильный ответ на задание 13 оценивается в 3 балла; если допущена одна ошибка – 2 балла; если допущено две ошибки – 1 балл; если допущено три и более ошибок – 0 баллов.

Часть 2

Задание 1.

Приведены три требования – 3 балла.

Приведено два требования – 2 балла.

Приведено одно требование – 1 балл.

Приведенные требования не верны ИЛИ ответ отсутствует – 0 баллов.

Задание 2.

Приведены три ожидания – 3 балла.

Приведено два ожидания – 2 балла.

Приведено одно ожидание – 1 балл.

Приведенные ожидания не верны ИЛИ ответ отсутствует – 0 баллов.

Задание 3. Приведены три права и каждое право проиллюстрировано примером – 3 балла.

Приведены два-три права, два проиллюстрированы примерами – 2 балла.

Приведено одно-три права, одно проиллюстрировано примером – 1 балл.

Другие ответы ИЛИ ответ отсутствует – 0 баллов.

Задание 4.

Перечислены три (или более) документа, приведены три обязанности работника, каждая из которых проиллюстрирована примером – 4 балла.

Перечислено не менее двух документов, приведены две-три обязанности работника, каждая из которых проиллюстрирована примером ИЛИ приведены три обязанности работника, каждая из которых проиллюстрирована примером, документы не перечислены – 3 балла.

Перечислено не менее двух документов, приведена одна обязанность работника, проиллюстрированная примером ИЛИ приведены две обязанности работника, каждая из которых проиллюстрирована примером, документы не перечислены – 2 балла.

Перечислены два-три документа, обязанности не приведены ИЛИ приведена одна обязанность работника, проиллюстрированная примером, документы не перечислены ИЛИ приведены две-три обязанности без иллюстрации примерами ИЛИ приведены два-три примера без указания обязанностей – 1 балл.

Назван один документ и/или приведена одна обязанность без иллюстрации примером ИЛИ приведен один пример без указания обязанности ИЛИ Ответ неверен ИЛИ Ответ отсутствует – 0 баллов.

Полученные обучающимся баллы за выполнение всех заданий суммируются.

Оценка 5 «отлично» - 26-32 балла

Оценка 4 «хорошо» - 19-25 баллов

Оценка 3 «удовлетворительно» - 10-18 баллов

Оценка 2 «неудовлетворительно» - 0-10 баллов.

МИНИСТЕРСТВО ПРОФЕССИОНАЛЬНОГО ОБРАЗОВАНИЯ
И ЗАНЯТОСТИ НАСЕЛЕНИЯ ПРИМОРСКОГО КРАЯ

**краевое государственное автономное
профессиональное образовательное учреждение
«Дальнегорский индустриально-технологический колледж»**

КОМПЛЕКТ ФОНДА ОЦЕНОЧНЫХ СРЕДСТВ ДЛЯ ПРОВЕДЕНИЯ СТАРТОВОЙ
ДИАГНОСТИКИ ПО
ОБЩЕОБРАЗОВАТЕЛЬНОЙ ДИСЦИПЛИНЕ

ОД.10 ОБЩЕСТВОЗНАНИЕ

подготовки специалистов среднего звена

код специальности 46.02.01 Документационное обеспечение управления и архивоведение

Разработчики:

Организация-разработчик: КГА ПОУ «ДИТК»

Разработчик: Будник Мирослава Сергеевна, преподаватель

Дальнегорск, 2024 год

Комплект контрольно-оценочных средств разработан на основе Федерального государственного образовательного стандарта среднего общего образования с учетом Федерального государственного образовательного стандарта среднего профессионального образования по специальности 46.02.01 Документационное обеспечение управления и архивоведение базового уровня подготовки программы общеобразовательной дисциплины (далее – дисциплина) Обществознание.

1. Условия проведения: стартовая диагностика.
2. Метод (форма) контроля: контрольная работа.
3. Количество вариантов для проведения контроля: 2.
4. Время выполнения заданий: 90 минут.
5. Оборудование, ТСО: ручка, карандаш.
6. Учебно-методическая и справочная литература не предусмотрена.
7. Условия приема контрольных заданий преподавателем письменно по завершению выполнения.
8. Порядок подготовки и проведения стартовой диагностики: в рамках учебного занятия по расписанию, входной контроль преподаватель осуществляет самостоятельно.

Задания для обучающихся по вариантам

Вариант 1

На выполнение работы по обществознанию отводится 1 час 30 минут (90 минут).

Работа включает в себя 17 заданий.

Ответы к заданиям 2–4, 7–10, 12, 14–16 записываются в виде одной цифры, которая соответствует номеру правильного ответа.

Ответом к заданию 13 является последовательность цифр.

Ответом к заданию 17 является слово (словосочетание).

При необходимости можно пользоваться черновиком. Записи в черновике проверяться и оцениваться не будут.

Советуем выполнять задания в том порядке, в котором они даны. Для экономии времени пропускайте задание, которое не удаётся выполнить сразу, и переходите к следующему. Если после выполнения всей работы у Вас останется время, то Вы сможете вернуться к пропущенным заданиям. Баллы, полученные Вами за выполненные задания, суммируются. Постарайтесь выполнить как можно больше заданий и набрать наибольшее количество баллов. Желаем успеха!

1. Какие два из перечисленных понятий используются для обозначения форм духовной культуры?

Мораль, банк, выборы, религия, народность.

Выпишите соответствующие понятия и раскройте смысл любого одного из них.

2. В школе проводилась экономическая игра. Учащиеся воспроизводили процесс создания фирмы: разработали и представили бизнес-планы, организовали их презентацию, провели голосование. Назовите субъект данной деятельности.

- 1) проведение голосования
- 2) подготовленный бизнес-план
- 3) школьники – участники игры
- 4) презентация.

3. Володя учится в колледже по специальности «электромонтёр». После окончания колледжа он планирует продолжить образование в институте. Володя получает образование в учреждении

- 1) среднего общего образования 2) среднего профессионального образования
3) высшего образования 4) дополнительного образования

4. Верны ли следующие суждения о взаимосвязи природы и общества?

А. Общество и материальный мир являются частями природы.

Б. Природа воздействует на развитие общества.

- 1) верно только А
2) верно только Б
3) верны оба суждения
4) оба суждения неверны.

5. Рассмотрите фотографию. Приобщение к какой форме (области) культуры может быть проиллюстрировано с помощью данной фотографии? Используя обществоведческие знания, факты общественной жизни и личный социальный опыт, сформулируйте два совета для сверстников о том, как правильно подготовиться к посещению выставки. Кратко поясните каждый совет.



6. Пётр получил СМС-сообщение от известного банка о том, что этот банк проводит опрос потребителей финансовых услуг. Петру предлагалось перейти по ссылке на интернет-сайт, пройти опрос и получить вознаграждение в 10 тысяч рублей. Для получения доступа к опросу требовалось перечислить со счёта телефона 200 рублей. В чём состоит опасность данной ситуации для личных финансов Петра? Как ему правильно поступить в данной ситуации?

7. В государстве Z хозяйственная деятельность основывается на экономической свободе производителя. Это характерно для экономической системы

- 1) централизованной 2) распределительной 3) традиционной 4) рыночной

8. Государство выполняет различные функции в экономической жизни общества. В частности, поддерживает и защищает конкуренцию. Какой из приведённых ниже примеров иллюстрирует эту функцию?

- 1) в рамках государственной программы развития образования открылась новая школа

- 2) центральный банк осуществил комплекс антиинфляционных мер
- 3) правительство изменило порядок купли-продажи земли
- 4) парламент внёс изменения в антимонопольное законодательство.

9. Верны ли следующие суждения о предпринимательстве?

А. Предпринимательство – это самостоятельная рискованная деятельность людей, направленная на получение прибыли.

Б. Предпринимательством могут заниматься только организации или учреждения.

- 1) верно только А
- 2) верно только Б
- 3) верны оба суждения
- 4) оба суждения неверны.

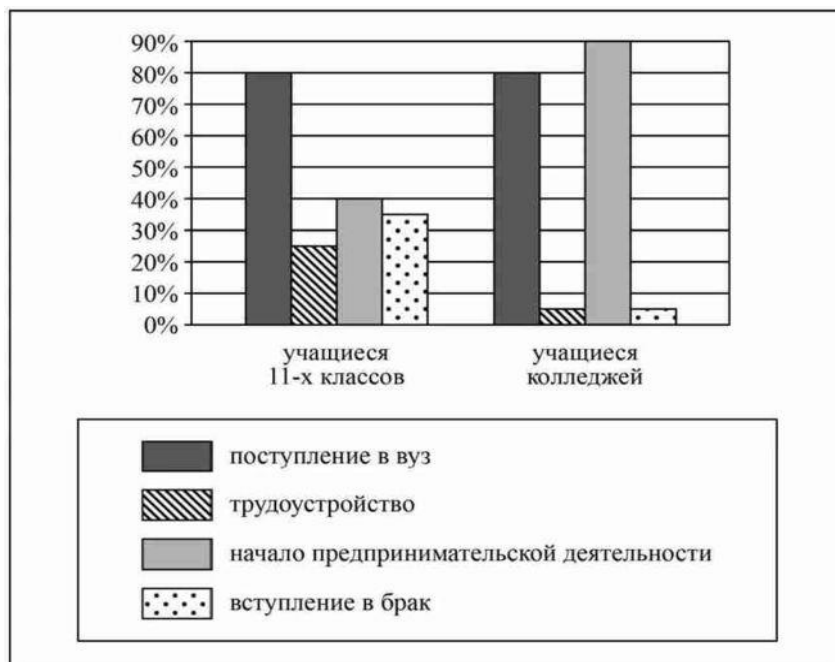
10. Что отличает семью от других социальных групп?

- 1) единство интересов
- 2) наличие правил деятельности
- 3) совместный быт
- 4) общие цели деятельности.

11. Центр гуманитарных исследований провёл опрос среди различных групп учащейся молодёжи. Им задавали вопрос: «Какие действия в большей степени могут повлиять на повышение вашего социального статуса в будущем?» (можно было дать не более двух ответов). Результаты опроса (в % от числа опрошенных) представлены в виде диаграммы. Сформулируйте по одному выводу: а) о сходстве; б) о различии в позициях групп опрошенных.

Выскажите предположение о том, чем объясняются указанные Вами:

а) сходство; б) различие.



12. В государстве Z провозглашены и гарантированы права и свободы граждан, признано идеологическое многообразие, оппозиция действует на законных основаниях. Какой политический режим в стране Z?

- 1) тоталитарный
- 2) авторитарный
- 3) демократический

4) диктаторский.

13. Установите соответствие между социальными фактами и сферами общественной жизни: к каждому элементу, данному в первом столбце, подберите соответствующий элемент из второго столбца.

СОЦИАЛЬНЫЕ ФАКТЫ

- А) очередные выборы главы государства
- Б) концерт всемирно известного музыканта
- В) создание службы занятости населения
- Г) разработка бизнес-плана компании
- Д) расчёт параметров бюджета страны.

СФЕРЫ ОБЩЕСТВЕННОЙ ЖИЗНИ

- 1) социальная
- 2) экономическая
- 3) духовная
- 4) политическая.

Запишите в таблицу выбранные цифры под соответствующими буквами.

А	Б	В	Г	Д

14. Во дворе многоквартирного дома поздним вечером молодёжная компания шумно отмечала праздник. Жильцы, которые так и не смогли уснуть, вынуждены были вызвать полицию. Нормы какой отрасли права нарушили молодые люди?

- 1) жилищного
- 2) уголовного
- 3) гражданского
- 4) административного

15. Гражданин приобрёл для домашнего пользования стиральную машину. Сервисная служба магазина доставила, установила и подключила стиральную машину, а также передала гражданину гарантийный талон.

Отношения гражданина с магазином регулируются нормами права

- 1) административного
- 2) гражданского
- 3) конституционного
- 4) трудового.

16. Верны ли следующие суждения об особенностях трудоустройства несовершеннолетних?

А. Заключение трудового договора по общему правилу допускается с лицами, достигшими возраста 16 лет.

Б. Заключение трудового договора с несовершеннолетними работниками во всех случаях возможно лишь с согласия их родителей и при наличии медицинского разрешения.

- 1) верно только А
- 2) верно только Б

- 3) верны оба суждения
 - 4) оба суждения неверны
17. Заполните пропуск в таблице.

Тип социальной группы	Примеры
Демографические группы	Мужчины, женщины, дети, молодёжь и др.
... группы	Русские, белорусы, татары, немцы и др.

Вариант 2

Инструкция проведения входного контроля

Уважаемые студенты!

На выполнение работы по обществознанию отводится 1 час 30 минут (90 минут).

Работа включает в себя 17 заданий.

Ответы к заданиям 2–4, 7–10, 12, 14–16 записываются в виде одной цифры, которая соответствует номеру правильного ответа.

Ответом к заданию 13 является последовательность цифр.

Ответом к заданию 17 является слово (словосочетание).

При необходимости можно пользоваться черновиком. Записи в черновике проверяться и оцениваться не будут.

Советуем выполнять задания в том порядке, в котором они даны. Для экономии времени пропускайте задание, которое не удаётся выполнить сразу, и переходите к следующему. Если после выполнения всей работы у Вас останется время, то Вы сможете вернуться к пропущенным заданиям. Баллы, полученные Вами за выполненные задания, суммируются. Постарайтесь выполнить как можно больше заданий и набрать наибольшее количество баллов. Желаем успеха!

1. Какие два из перечисленных понятий относятся к категориям морали? Совесть, конституционная обязанность, нравственный долг, престиж профессии, уровень образования.

2. Хозяйка готовит тушёную курицу на обед для своей семьи. Субъектом данной деятельности является

- 1) хозяйка 2) обед 3) курица 4) семья

3. Что отличает религию от других форм (областей) духовной культуры?

- 1) многообразии стилей и направлений
- 2) вере в сверхъестественное
- 3) эмоциональное воздействие на человека
- 4) система объективных знаний о природе и обществе

4. Верны ли следующие суждения о взаимосвязи общества и природы? А. По мере совершенствования орудий труда влияние общества на природу усиливалось. Б. Общество может ограничивать своё негативное влияние на природную среду.

- 1) верно только А
- 2) верно только Б
- 3) верны оба суждения
- 4) оба суждения неверны

5. Рассмотрите фотографию.



Какой вид экономической деятельности может быть проиллюстрирован с помощью данной фотографии? Объясните, в чём заключается суть этого вида экономической деятельности. В каких формах может быть организована эта экономическая деятельность? (Укажите любые две формы.) Какое значение для каждого человека имеет защита прав потребителей?

6. Ученику 8 класса Руслану на аккаунт в социальной сети пришло уведомление: «Руслан! Ты победил в новогодней лотерее. Для получения подарка ценой 5 тысяч рублей необходимо перевести на электронный кошелек организатора лотереи 100 рублей». В чём состоит опасность данной ситуации для личных финансов Руслана? Как ему правильно поступить в данной ситуации?

7. В странах с рыночной экономикой

- 1) производитель самостоятельно определяет, что и сколько производить
- 2) государство устанавливает размер заработной платы работникам
- 3) министерство финансов распоряжается прибылью предприятий
- 4) каждый гражданин обязан трудиться на каком-либо предприятии

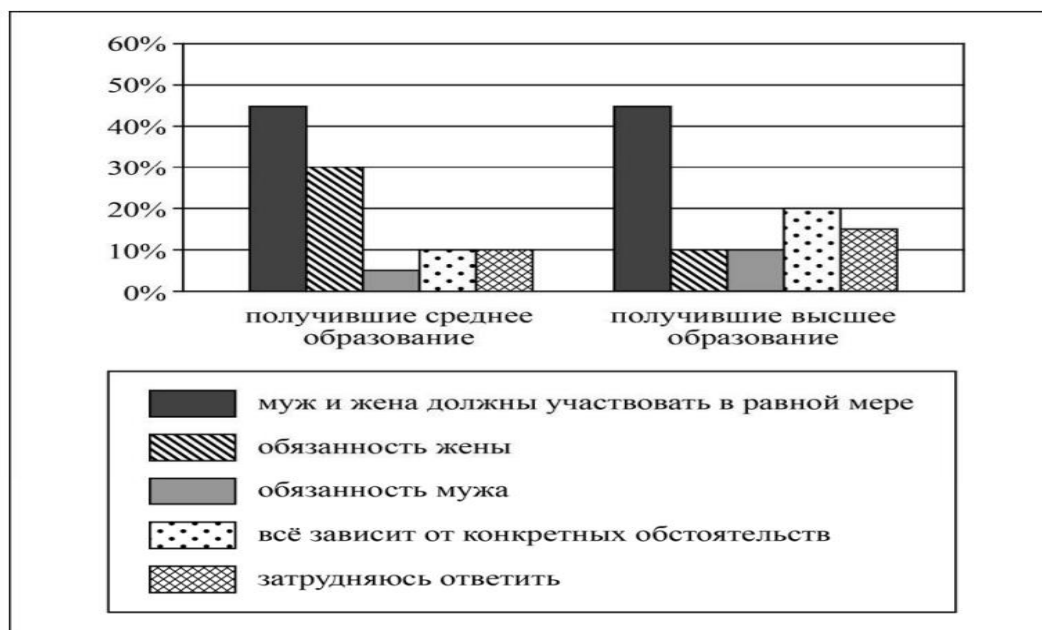
8. Фирма построила теплицы на арендованном участке земли, где на протяжении всего года выращивает овощи и зелень. Продукция фирмы поставляется в крупные магазины города. К труду как производственному ресурсу фирмы относятся(-ются)

- 1) участок земли
- 2) работники фирмы
- 3) произведенная продукция
- 4) теплицы и оборудование

9. Верны ли следующие суждения о роли экономики в жизни общества? А. Экономика обеспечивает людей материальными благами. Б. Экономика исследует политическую организацию общества, проблемы внутренней и внешней политики. 1) верно только А 2) верно только Б 3) верны оба суждения 4) оба суждения неверны

10. Какой признак лежит в основе объединения людей и их групп в такую социальную общность, как депутаты парламента? 1) политический 2) этнический 3) территориальный 4) культурный

11. В ходе социологического опроса совершеннолетних жителей страны Z им задавали вопрос: «Как вы считаете, чья обязанность вести домашнее хозяйство?» Полученные результаты (в % от числа опрошенных) представлены в виде диаграммы.



Сформулируйте по одному выводу:

- о сходстве;
- о различии в позициях групп опрошенных.

Выскажите предположение о том, чем объясняются указанные Вами:

- сходство;
- различие.

12. По форме государственно-территориального устройства Z – унитарное государство. Это значит, что

- Z объединяет несколько государственных образований, обладающих частью суверенитета
- в Z разделены полномочия между центральными органами власти
- территория Z разделена на административные единицы, подконтрольные центру
- в Z приняты законы о двойном гражданстве

13. Установите соответствие между правами (свободами) человека и группами прав (свобод), к которым они относятся: к каждому элементу, данному в первом столбце, подберите соответствующий элемент из второго столбца.

ПРАВА (СВОБОДЫ) ЧЕЛОВЕКА

- право на охрану здоровья и медицинскую помощь
- право на неприкосновенность частной жизни
- право на защиту чести и доброго имени
- право на свободу мирных собраний и ассоциаций
- право на жизнь

ГРУППЫ ПРАВ (СВОБОД)

- гражданские (личные)
- политические
- социальные

Запишите в таблицу выбранные цифры под соответствующими буквами

А	Б	В	Г	Д

14. Система общеобязательных норм, регулирующих поведение людей, наиболее важные отношения между ними, за выполнением которых следит государство, называется

- 1) моралью
2) традициями
3) правом
4) обычаем

15. Гражданка Р. оформила договор о продаже дачного дома. Какая отрасль права регулирует сложившуюся ситуацию?

- 1) гражданское право
2) административное право
3) гражданско-процессуальное право
4) трудовое право

16. Верны ли следующие суждения о правовом регулировании семейных отношений? А. Каждый из супругов свободен в выборе рода занятий, профессии, места пребывания и жительства. Б. Расторжение брака производится в судебном порядке при наличии у супругов общих несовершеннолетних детей.

- 1) верно только А
2) верно только Б
3) верны оба суждения
4) оба суждения неверны

17. Заполните пропуск в таблице.

Социальная роль	Характеристика
Труженик/Работник	Участие в процессе производства благ и оказания услуг
...	Пользование товарами и услугами в личных целях

9.Эталоны ответов по вариантам.

Вариант 1

Номер задания	Правильный ответ
2	3
3	2
4	2
7	4
8	4
9	1
10	3
12	3
13	43122
14	4
15	2
16	1
17	этнические

Критерии оценивания выполнения заданий с развёрнутым ответом

1

Какие два из перечисленных понятий используются для обозначения форм духовной культуры?
Мораль, банк, выборы, религия, народность.
 Выпишите соответствующие понятия и раскройте смысл любого одного из них.

Содержание верного ответа и указания по оцениванию (допускаются иные формулировки ответа, не искажающие его смысла)	Баллы
В правильном ответе должны быть следующие <u>элементы</u> : 1) <u>понятия</u> : мораль, религия; 2) <u>смысл понятия</u> , например: мораль – форма общественного сознания, цель которого – утверждать самоценность личности; совокупность представлений о добре и зле, ИЛИ религия – это определённая система взглядов, обусловленная верой в сверхъестественное и возможность общения с ним. (Может быть приведено иное, близкое по смыслу определение или объяснение смысла понятия.)	
Правильно выписаны два верных понятия, раскрыт смысл любого одного из них	2
Наряду с верными понятиями выписано(-ы) одно или несколько лишних понятий, раскрыт смысл верного понятия. ИЛИ Правильно выписаны только два верных понятия. ИЛИ Правильно выписано только одно верное понятие, раскрыт его смысл	1
Наряду с верными понятиями выписано(-ы) одно или несколько лишних понятий, раскрыт только смысл «лишнего» понятия. ИЛИ Наряду с верными понятиями выписано(-ы) одно или несколько лишних понятий, смысл верного понятия не раскрыт или раскрыт неверно. ИЛИ Выписано только одно верное понятие. ИЛИ Приведены рассуждения общего характера, не соответствующие требованию задания. ИЛИ Ответ неправильный	0
<i>Максимальный балл</i>	2

5

Рассмотрите фотографию.



Приобщение к какой форме (области) культуры может быть проиллюстрировано с помощью данной фотографии? Используя обществоведческие знания, факты общественной жизни и личный социальный опыт, сформулируйте два совета для сверстников о том, как правильно подготовиться к посещению выставки. Кратко поясните каждый совет.

Содержание верного ответа и указания по оцениванию (допускаются иные формулировки ответа, не искажающие его смысла)	Баллы
<p>В правильном ответе должны быть следующие <u>элементы</u>:</p> <p>1) <u>ответ на вопрос</u>: искусство; (Может быть дан другой ответ на вопрос, не искажающий сущности изображённого на фото.)</p> <p>2) <u>два совета с пояснениями</u>, допустим: – изучить литературу об особенностях творчества художника (такая предварительная подготовка перед знакомством с картинами полезна для их правильного восприятия и понимания); – ознакомиться с комментариями знатоков и ценителей творчества художника (такая подготовка позволит сформировать представление о том, что в сущности художник стремился выразить с помощью картин). (Могут быть сформулированы другие советы, приведены другие пояснения.)</p>	
Дан правильный ответ на вопрос, сформулированы и пояснены два совета (всего пять элементов)	3
Дан правильный ответ на вопрос, приведены два-три любых других элемента	2

Дан правильный ответ на вопрос, приведён любой другой элемент. ИЛИ Дан только правильный ответ на вопрос	1
Дан неправильный ответ на вопрос (ответ на вопрос отсутствует) независимо от наличия других элементов. ИЛИ Приведены рассуждения общего характера, не соответствующие требованию задания. ИЛИ Ответ неправильный	0
<i>Максимальный балл</i>	3

6

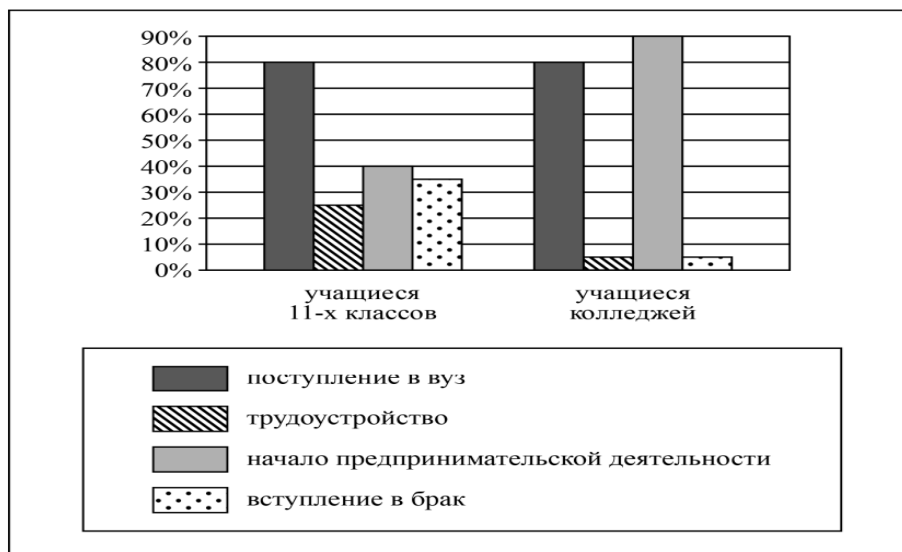
Пётр получил СМС-сообщение от известного банка о том, что этот банк проводит опрос потребителей финансовых услуг. Петру предлагалось перейти по ссылке на интернет-сайт, пройти опрос и получить вознаграждение в 10 тысяч рублей. Для получения доступа к опросу требовалось перечислить со счёта телефона 200 рублей. В чём состоит опасность данной ситуации для личных финансов Петра? Как ему правильно поступить в данной ситуации?

Содержание верного ответа и указания по оцениванию (допускаются иные формулировки ответа, не искажающие его смысла)	Баллы
Правильный ответ должен содержать следующие <u>элементы</u> : 1) <u>ответ на первый вопрос</u> , например: опасность состоит в том, что скорее всего сообщение прислал мошенник, который планирует выманить у Петра деньги; 2) <u>ответ на второй вопрос</u> , например: не соглашаться на такое предложение, сообщить о нём в банк, от имени которого пришло сообщение. Ответы на вопросы могут быть приведены в иных, близких по смыслу формулировках	
Даны правильные ответы на два вопроса	2
Дан правильный ответ на один любой вопрос	1
Приведены рассуждения общего характера, не соответствующие требованию задания. ИЛИ Ответ неправильный	0
<i>Максимальный балл</i>	2

11

Центр гуманитарных исследований провёл опрос среди различных групп учащейся молодёжи. Им задавали вопрос: «Какие действия в большей степени могут повлиять на повышение вашего социального статуса в будущем?» (можно было дать не более двух ответов).

Результаты опроса (в % от числа опрошенных) представлены в виде диаграммы.



Сформулируйте по одному выводу: а) о сходстве; б) о различии в позициях групп опрошенных. Выскажите предположение о том, чем объясняются указанные Вами: а) сходство; б) различие.

Содержание верного ответа и указания по оцениванию (допускаются иные формулировки ответа, не искажающие его смысла)	Баллы
В правильном ответе должны быть сформулированы <u>выводы</u> и высказаны <u>предположения</u> : а) о <u>сходстве</u> , например: равные доли опрошенных в обеих группах считают, что поступление в вуз может повлиять на повышение социального статуса в будущем (возможная причина, например: образование в современном мире является одним из социальных лифтов и может способствовать перемещению вверх по социальной лестнице); б) о <u>различии</u> , например: учащиеся колледжей в большей мере, чем учащиеся 11-х классов, считают, что на повышение социального статуса в будущем может повлиять начало предпринимательской деятельности (возможная причина, например: учащиеся колледжей, получая профессию, задумываются об открытии своего дела и получении дохода от предпринимательской деятельности, так как доходы от предпринимательской деятельности позволяют повысить свой социальный статус). Могут быть сформулированы другие выводы о сходстве и различии, высказаны иные уместные предположения	
Сформулированы два вывода, по каждому из них высказано уместное предположение	4
Сформулированы один-два вывода, по любому одному из них высказано уместное предположение	3
Сформулированы только два вывода	2
Сформулирован только один вывод	1
Приведены рассуждения общего характера, не соответствующие требованию задания. ИЛИ Ответ неправильный	0
<i>Максимальный балл</i>	<i>4</i>

Система оценивания проверочной работы

Правильный ответ на каждое из заданий 2, 3, 4, 7–10, 12, 14–17 оценивается 1 баллом. Полный правильный ответ на задание 13 оценивается 2 баллами. Если в ответе допущена одна ошибка, выставляется 1 балл; если допущено две или более ошибки – 0 баллов.

Номер задания	Правильный ответ
2	1
3	2
4	3
7	1
8	2
9	1
10	1
12	3
13	31121
14	3
15	1
16	3
17	потребитель

Критерии оценивания заданий с развернутым ответом

1

Содержание верного ответа и указания по оцениванию (допускаются иные формулировки ответа, не искажающие его смысла)	Баллы
В правильном ответе должны быть следующие <u>элементы</u> : 1) <u>понятия</u> : совесть, нравственный долг; 2) <u>смысл понятия</u> , например: совесть – способность критически оценивать своё поведение и свои поступки, эмоционально реагировать на своё несоответствие морально должному, ИЛИ нравственный долг – внутреннее моральное убеждение человека в необходимости выполнения определённых действий. (Может быть приведено иное, близкое по смыслу определение или объяснение смысла понятия.)	
Правильно выписаны два верных понятия, раскрыт смысл любого одного из них	2
Наряду с верными понятиями выписано(-ы) одно или несколько лишних понятий, раскрыт смысл верного понятия. ИЛИ Правильно выписаны только два верных понятия. ИЛИ Правильно выписано только одно верное понятие, раскрыт его смысл	1
Наряду с верными понятиями выписано(-ы) одно или несколько лишних понятий, раскрыт только смысл лишнего понятия. ИЛИ Наряду с верными понятиями выписано(-ы) одно или несколько лишних понятий, смысл верного понятия не раскрыт или раскрыт неверно. ИЛИ Выписано только одно верное понятие. ИЛИ Приведены рассуждения общего характера, не соответствующие требованию задания. ИЛИ Ответ неправильный	0
<i>Максимальный балл</i>	2

5

Содержание верного ответа и указания по оцениванию (допускаются иные формулировки ответа, не искажающие его смысла)	Баллы
<p>В правильном ответе должны быть следующие <u>элементы</u>:</p> <p>1) <u>ответ на первый вопрос</u>: торговля / покупка товаров / обмен; (Может быть дан другой ответ на первый вопрос, не искажающий сущности изображённого на фото.)</p> <p>2) <u>объяснение</u>, например: добровольный и взаимовыгодный обмен благами в форме купли-продажи товаров и услуг за деньги; (Объяснение может быть сформулировано иначе.)</p> <p>3) <u>ответ на второй вопрос</u>, например: магазинная торговля, уличная торговля, интернет-торговля ИЛИ супермаркеты/гипермаркеты, магазины у дома, киоски, торговые автоматы, дистанционные формы торговли и т.п.; (<i>Ответ на второй вопрос засчитывается только при указании двух или более форм. Допускается различный уровень конкретизации форм торговли.</i>)</p> <p>4) <u>ответ на третий вопрос</u>: каждый человек является потребителем, поэтому для него важно, что гарантирована возможность получить качественный, безопасный товар и защитить свои права в случае их нарушения. Могут быть даны другие корректные ответы на вопросы</p>	
Даны правильные ответы на три вопроса, приведено объяснение (всего четыре элемента)	3
Дан правильный ответ на первый вопрос, приведены только два других элемента	2
Дан правильный ответ на первый вопрос, приведён только один другой элемент. ИЛИ Дан только правильный ответ на первый вопрос	1
Дан неправильный ответ на первый вопрос / ответ на первый вопрос отсутствует независимо от наличия других элементов. ИЛИ Приведены рассуждения общего характера, не соответствующие требованию задания. ИЛИ Ответ неправильный	0
<i>Максимальный балл</i>	3

6

Содержание верного ответа и указания по оцениванию (допускаются иные формулировки ответа, не искажающие его смысла)	Баллы
<p>Правильный ответ должен содержать следующие <u>элементы</u>:</p> <p>1) <u>ответ на первый вопрос</u>, например: велика вероятность потери указанной суммы (если это сообщение от мошенников);</p> <p>2) <u>ответ на второй вопрос</u>, например: не переводить деньги. Ответы на вопросы могут быть приведены в иных, близких по смыслу формулировках</p>	
Даны правильные ответы на два вопроса	2
Дан правильный ответ на один любой вопрос	1
Приведены рассуждения общего характера, не соответствующие требованию задания. ИЛИ Ответ неправильный	0
<i>Максимальный балл</i>	2

11	Содержание верного ответа и указания по оцениванию (допускаются иные формулировки ответа, не искажающие его смысла)	Баллы
	<p>В правильном ответе должны быть сформулированы <u>выводы</u> и высказаны <u>предположения</u>:</p> <p>а) о <u>сходстве</u>, например: среди опрошенных обеих групп наиболее популярен ответ, что муж и жена должны в равной мере участвовать в ведении домашнего хозяйства (возможное объяснение, например: в современном мире преобладают семьи демократического типа, и опрошенные отвечали, учитывая распределение обязанностей в их семье);</p> <p>б) о <u>различии</u>, например: граждане со средним образованием в большей мере, чем граждане с высшим образованием, уверены, что ведение домашнего хозяйства – это обязанность жены (возможное объяснение, например: вероятно, уровень образования влияет на степень сохранения представлений о чётком распределении обязанностей, когда жена – хранительница домашнего очага). Могут быть сформулированы другие выводы о сходстве и различии, высказаны иные уместные предположения</p>	
	Сформулированы два вывода, по каждому из них высказано уместное предположение	4
	Сформулированы один-два вывода, по любому одному из них высказано уместное предположение	3
	Сформулированы только два вывода	2
	Сформулирован только один вывод	1
	Приведены рассуждения общего характера, не соответствующие требованию задания. ИЛИ Ответ неправильный	0
	<i>Максимальный балл</i>	<i>4</i>

10. Критерии оценки

Оценка 5 «отлично» - 21-25 баллов.

Оценка 4 «хорошо» - 16-20 баллов.

Оценка 3 «удовлетворительно» -10-15 баллов.

Оценка 2 «неудовлетворительно» - 0-9 баллов.

**МИНИСТЕРСТВО ПРОФЕССИОНАЛЬНОГО ОБРАЗОВАНИЯ
И ЗАНЯТОСТИ НАСЕЛЕНИЯ ПРИМОРСКОГО КРАЯ**

**краевое государственное автономное
профессиональное образовательное учреждение
«Дальнегорский индустриально-технологический колледж»**

**КОМПЛЕКТ КОНТРОЛЬНО-ОЦЕНОЧНЫХ СРЕДСТВ
ОБЩЕОБРАЗОВАТЕЛЬНОЙ ДИСЦИПЛИНЫ**

ОД.11 ГЕОГРАФИЯ

подготовки специалистов среднего звена
код специальности 46.02.01 Документационное обеспечение управления и архивоведение

Дальнегорск, 2024 год

Комплект контрольно-оценочных средств разработан на основе Федерального государственного образовательного стандарта среднего общего образования с учетом Федерального государственного образовательного стандарта среднего профессионального образования по специальности 46.02.01 Документационное обеспечение управления и архивоведение базового уровня подготовки программы общеобразовательной дисциплины (далее – дисциплина) География.

Разработчики:

Организация-разработчик: КГА ПОУ «ДИТК»

Разработчик: Гребенкина Оксана Владимировна, преподаватель географии

Дифференцированный зачёт

1. Форма проведения: устная (собеседование)

2. Условия выполнения

Время выполнения задания: 240 минут

Оборудование учебного кабинета: посадочные места по количеству обучающихся

Технические средства обучения: не используются

Информационные источники, допустимые к использованию: не допускаются

Требования охраны труда: соблюдение норм СанПиН

3. Пакет экзаменатора

3.1. Перечень разделов, выносимых на зачёт:

1. География как наука
2. Природопользование и геоэкология
3. Современная политическая карта
4. Население мира
5. Мировое хозяйство
6. Регионы и страны
7. Глобальные проблемы человечества
8. Географический практикум

3.2. Практические задания к дифференцированному зачёту:

Часть А

1. Выберите правильный ответ.

Страна-лидер по выращиванию риса:

- | | |
|-----------|--------------|
| а) Япония | в) Вьетнам |
| б) Китай | г) Бангладеш |

2. Выберите правильный ответ.

Крупнейшим экспортером нефти в мире является страна:

- | | |
|---------|----------------------|
| а) США | в) Саудовская Аравия |
| б) Иран | г) Россия |

3. Выберите правильный ответ.

Производство хлопчатобумажных тканей является отраслью специализации:

- | | |
|------------|----------|
| а) Франции | в) Литвы |
| б) Алжира | г) Индии |

4. Выберите правильный ответ.

Меньше всего загрязняют атмосферный воздух ТЭС, использующие в качестве сырья:

- | | |
|-------------------|----------------------|
| а) природный газ | в) дизельное топливо |
| б) горючие сланцы | г) уголь |

5. Выберите правильный ответ.

Среди перечисленных стран лесная промышленность наиболее развита в:

- | | |
|-----------|----------|
| а) Судане | в) Иране |
| б) Канаде | г) Чили |

6. Вставьте пропущенное слово.

По численности населения в мире Россия занимает _____ место.

7. Выберите правильный ответ.

Что такое ресурсообеспеченность?

- а) Соотношение между величиной природных ресурсов и размерами их использования.
- б) Сумма величин природных ресурсов и размеров их использования
- в) Разность между величинами природных ресурсов и размерами их использования.

8. Выберите правильный ответ.

Политически независимыми странами называются:

- а) колонии
- б) суверенные
- в) метрополии
- г) «ключевые» страны

9. Выберите правильный ответ.

Какое государство в Африке самое большое по территории?

- а) Судан
 - б) Алжир
 - в) Нигерия
 - г) Марокко
- в) при создании водохранилищ
г) в результате неправильной обработки почв

10. Выберите правильный ответ.

Укажите главный загрязнитель вод Мирового океана:

- а) добыча, транспортировка и переработка нефти
- б) отходы рыбной промышленности
- в) бытовой мусор
- г) отходы металлургических предприятий

11. Выберите несколько правильных ответов.

Какие из следующих высказываний верны?

- а) Уровень экономического развития страны напрямую зависит от её обеспеченности разнообразными природными ресурсами.
- б) Темп роста населения Земли зависит от превышения рождаемости над смертностью.
- в) Чем выше на месторождении доля добычи каменного угля открытым способом, тем выше его себестоимость.
- г) Повышение содержания метана в атмосфере приводит к усилению парникового эффекта.
- д) Тёплые течения способствуют уменьшению количества атмосферных осадков.

Часть В

12. Рассчитайте величину разведанных запасов лития в 2020 году.

Ответ запишите в виде числа.

В настоящее время к стратегически важным материалам, разведанные запасы которых имеют стратегическое значение, стали относить руды таких металлов, как литий, кобальт и др. Учащиеся нашли в Интернете информацию о том, что в мире в 2020 г. было добыто 44 700 т лития, при этом показатель ресурсообеспеченности этим металлом на этот год составлял 358 лет.

13. Прочитайте приведённый ниже текст, в котором пропущен ряд слов (словосочетаний).

Выберите из предлагаемого списка слова (словосочетания), которые необходимо вставить на места пропусков, обозначенных буквами. Обратите внимание на то, что слов (словосочетаний) в списке больше, чем Вам потребуется для заполнения пропусков. Каждое слово (словосочетание) может быть использовано только один раз.

Ответ запишите в виде буквы (А, Б, В) и соответствующей каждой букве цифры (из приведенного списка слов (словосочетаний)).

Демографическая ситуация в Швеции

По статистическим данным, на начало 2021 г. в Швеции на постоянной основе проживало более 10 млн человек, что на 1,5 млн человек больше, чем в начале XXI в. Основной прирост населения был обеспечен за счёт _____ (А) – превышения числа иммигрантов над числом эмигрантов. При этом в стране прекратилась естественная убыль населения: показатель _____ (Б) ежегодно был выше показателя _____ (В). По-прежнему сохранилась тенденция увеличения доли лиц пожилого возраста в общей численности населения страны.

Список слов (словосочетаний):

- 1) естественный прирост

- 2) миграционный прирост
- 3) смертность
- 4) рождаемость
- 5) средняя продолжительность жизни
- 6) урбанизация

Часть С

14. Объясните, какие аспекты географии могут быть важными при участии в исследовательской и проектной деятельности для успешного проведения проектов в области адаптивной физической культуры? (ПК 3.4.)
15. Объясните, каким образом специалист по адаптивной физической культуре может использовать современные средства поиска, анализа и интерпретации информации, а также информационные технологии для более эффективного выполнения задач профессиональной деятельности? (ОК 02)

Эталоны ответов

1-б); 2-в); 3-г); 4-а); 5-б); 6-девятое; 7-а); 8-б); 9-б); 10-а); 11-а), б); 12-16 002 600 т; 13- А2; Б4; В3;

14. Исследование культурных особенностей, наличие спортивных объектов, оборудования и их доступность, учет топографии при разработке проектов.
15. 1. Мобильные приложения – для организации и мониторинга адаптивных тренировок.
2. Онлайн-ресурсы – предоставляют информацию о лучших практиках, техниках и программах в области адаптивной физической культуры.
3. Сетевые платформы для обмена опытом с коллегами и обновлению знаний.

4. Критерии оценки ответов обучающихся.

Оценка 5 «отлично» - выполнено 100 % заданий части А + 50 % заданий части В + 50 % заданий части С

Оценка 4 «хорошо» - выполнено 75 % заданий части А + 50 % заданий части В

Оценка 3 «удовлетворительно» - выполнено 75 % заданий части А

Оценка 2 «неудовлетворительно» - выполнено менее 75 % заданий части А

5. Зачётная ведомость.

МИНИСТЕРСТВО ПРОФЕССИОНАЛЬНОГО ОБРАЗОВАНИЯ
И ЗАНЯТОСТИ НАСЕЛЕНИЯ ПРИМОРСКОГО КРАЯ

**краевое государственное автономное
профессиональное образовательное учреждение
«Дальнегорский индустриально-технологический колледж»**

КОМПЛЕКТ КОНТРОЛЬНО-ОЦЕНОЧНЫХ СРЕДСТВ ДЛЯ ПРОВЕДЕНИЯ СТАРТОВОЙ
ДИАГНОСТИ ПО ОБЩЕОБРАЗОВАТЕЛЬНОЙ ДИСЦИПЛИНЕ (ПРЕДМЕТУ)

ОД.11 ГЕОГРАФИЯ

подготовки специалистов среднего звена

код специальности 46.02.01 Документационное обеспечение управления и архивоведение

Разработчики:

Организация-разработчик: КГА ПОУ «ДИТК»

Разработчик: Гребенкина Оксана Владимировна, преподаватель географии

Комплект контрольно-оценочных средств разработан на основе Федерального государственного образовательного стандарта среднего общего образования с учетом Федерального государственного образовательного стандарта среднего профессионального образования по специальности 46.02.01 Документационное обеспечение управления и архивоведение базового уровня подготовки программы общеобразовательной дисциплины (далее – дисциплина) География.

1. Условия проведения: стартовая диагностика.
2. Метод (форма) контроля - контрольная работа.
3. Количество вариантов для проведения контроля: 2.
4. Время выполнения заданий - 45 минут.
5. Оборудование, ТСО: письменные принадлежности.
6. Учебно-методическая и справочная литература: не предусмотрено.
7. Условия приема контрольных заданий преподавателем: письменно по завершению выполнения.
8. Порядок подготовки и проведения стартовой диагностики: в рамках учебного занятия по расписанию, контроль преподаватель осуществляет самостоятельно.

Задания для обучающихся по вариантам

Вариант 1

Часть А

1. Выберите правильный ответ
Что из перечисленного ниже находится в России?
 - 1) самая протяжённая река в мире
 - 2) самое глубокое озеро в мире
 - 3) самая высокая горная вершина в мире
 - 4) самый высокий водопад в мире
2. Выберите правильный ответ
Какой из перечисленных городов – столица государства?
 - 1) Александрия
 - 2) Шанхай
 - 3) Карачи
 - 4) Мехико
3. Выберите несколько правильных ответов.
Наличие на территории России большого количества районов, где потенциально возможны разрушительные землетрясения, делает разработку специальных мероприятий по строительству в сейсмоопасных зонах одними из важнейших объектов внимания государства. На территории каких двух из перечисленных регионов России необходимо сейсмостойкое строительство из-за высокой вероятности разрушительных землетрясений?
 - 1) Республика Тыва
 - 2) Республика Карелия
 - 3) Сахалинская область
 - 4) Пензенская область
 - 5) Астраханская область
4. Выберите правильный ответ
В каком океане находится самая глубокая впадина Мирового океана?
 - 1) Северный Ледовитый

- 2) Индийский
- 3) Атлантический
- 4) Тихий

5. Выберите несколько правильных ответов.

Какие два из перечисленных видов хозяйственной деятельности способствуют охране речных вод от загрязнения?

- 1) размещение крупных животноводческих комплексов в поймах рек
- 2) создание систем замкнутого водооборота на промышленных предприятиях в бассейнах рек
- 3) осушение болот в бассейнах рек
- 4) ограничение использования минеральных удобрений в бассейнах рек
- 5) размещение водоёмких производств на берегах рек

6. Выберите правильный ответ

Чум – конический шатер, обтянутый покрывалами, сшитыми преимущественно из оленьих шкур. Чум приспособлен к суровому климату и кочевому образу жизни. У каждого из перечисленных народов России чум служит традиционным жилищем?

- 1) карачаевцы
- 2) ненцы
- 3) калмыки
- 4) марийцы

7. В каких из приведённых высказываний содержится информация о воспроизводстве населения?

- 1) В 2018 г. лишь в одном регионе – Чукотском автономном округе – мужчин было больше, чем женщин, но преимущество минимальное: 50,11% населения региона – мужчины, а 49,89% - женщины.
- 2) В начале 2019 г. в России численность городского населения составила 109,5 млн. человек, сельского – 37,3 млн. человек.
- 3) В 2018 г. в Северо-Кавказском федеральном округе лишь в Ставропольском крае смертность населения превышала рождаемость, эта разница составила 1400 человек.
- 4) В 2021 г. в России наблюдалась естественная убыль населения, она составила 1,04 млн. человек.
- 5) В 2018 г. средняя продолжительность жизни россиян превышала 73 года.

8. Выберите правильный ответ

В какой из перечисленных стран численность населения наибольшая?

- 1) Бразилия
- 2) Индонезия
- 3) США
- 4) Россия

9. Выберите несколько правильных ответов.

Наводнения – стихийные бедствия, от которых страдают люди, живущие на берегах рек.

На каких двух из перечисленных рек наводнения чаще всего происходят в летнее время?

- 1) Урал
- 2) Ока
- 3) Амур
- 4) Дон

5) Зезя

10. Выберите несколько правильных ответов

Для многих стран актуальна работа служб, следящих за вулканической активностью и оповещающих население о предстоящих извержениях вулканов. Для каких двух из перечисленных стран постоянное наблюдение за вулканической активностью наиболее важно?

- 1) Казахстан
- 2) Филиппины
- 3) Австралия
- 4) Италия
- 5) Франция

11. Выберите несколько правильных ответов

В каких из приведённых высказываний содержится информация о цунами?

- 1) Эти ветры, господствующие во многих тропических районах и обычно несущие с собой дожди, меняют своё направление два раза в год.
- 2) Подводное землетрясение магнитудой 9,3 вызвало возникновение гигантских волн высотой 30 м.
- 3) Эти ветры, дующие на морских (озёрных) побережьях, меняют направление два раза в сутки, в умеренных широтах наблюдаются чаще в первой половине лета.
- 4) Огромные морские волны, возникающие в результате прибрежных или морских землетрясений, распространяются с огромной скоростью на несколько тысяч километров.
- 5) К катастрофическим опустошениям на суше и бурному волнению на море приводят тропические ветры, достигающие скорости 70 м/с с порывами до 100 м/с и приносящие большое количество атмосферных осадков.

12. Выберите несколько правильных ответов.

Снежные лавины – одно из грозных и опасных природных явлений. В каких двух из перечисленных регионов России снежные лавины представляют наибольшую опасность?

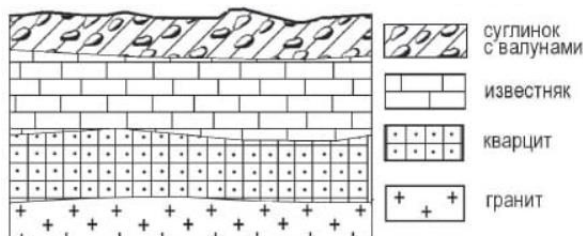
- 1) Калининградская область
- 2) Республика Северная Осетия – Алания
- 3) Чувашская Республика
- 4) Кабардино-Балкарская Республика
- 5) Камчатский край

13. Выберите несколько правильных ответов.

При составлении ежегодных прогнозов чрезвычайных ситуаций МЧС России оценивает вероятность поражения океанических и морских побережий России волнами цунами. Для каких двух из перечисленных регионов России такие прогнозы необходимы?

- 1) Калининградская область
- 2) Мурманская область
- 3) Камчатский край
- 4) Астраханская область
- 5) Приморский край

14. Во время экскурсии учащиеся сделали схематическую зарисовку залегания горных пород на обрыве в карьере.



на обрыве в карьере.

Расположите показанные на рисунке слои горных пород в порядке увеличения их возраста (от самого молодого до самого древнего). Ответ запишите в виде получившейся последовательности цифр.

- 1) известняк
- 2) суглинок с валунами
- 3) кварцит

15. Вставьте название государства на место пропуска.

Одним из пограничных субъектов РФ является Амурская область, которая имеет выход к Государственной границе РФ с _____.

16. Определите страну по ее краткому описанию.

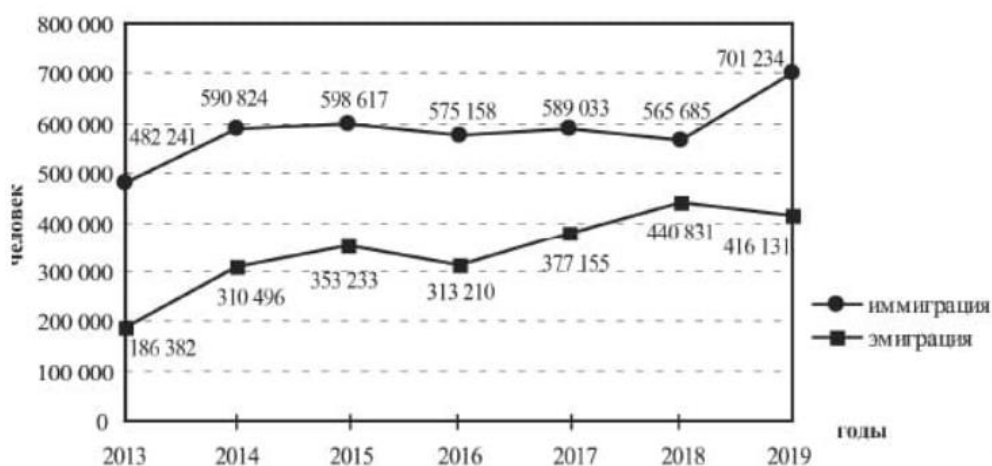
По площади территории эта страна относится к крупнейшим в мире. Омывается водами трех океанов. Граничит по суше лишь с одной страной. Почти половина территории расположена в климатических поясах с неблагоприятными условиями для жизни и деятельности. Средняя плотность населения примерно 3 человека на 1 км².

Часть В

17. Туристические фирмы разных регионов России разработали слоганы (рекламные лозунги) для привлечения туристов в свои регионы. Установите соответствие между слоганами и регионами: к каждому элементу первого столбца подберите соответствующий элемент из второго столбца. Ответ запишите в виде последовательности цифры и буквы.

Регионы	Слоганы
1) Камчатский край	А) Удалённость от шумных городов, богатые рыбой и морепродуктами воды Японского моря – всё это позволяет приятно провести летний отдых.
2) Челябинская область	Б) Посетите край вулканов и гейзеров!
3) Республика Алтай	
4) Приморский край	

18. Международная миграция в России за период 2013-2019 гг.



В каком году из показанных на графике на постоянное место жительства в Россию из других стран прибыло наибольшее число людей? Запишите ответ в виде числа (год).

Часть С

Задания 19-20 выполняются с использованием приведённого ниже текста

Зейская ГЭС расположена на реке Зее на Дальнем Востоке. Установленная мощность станции составляет 1330 МВт. Решение о строительстве ГЭС было принято ещё в 1964 г. В 1980 г. станция была выведена на проектную мощность – 1290 МВт. Тогда же до проектного уровня было заполнено Зейское водохранилище. Ежегодно в регионе в конце лета – начале осени выпадают обильные дожди, приводящие в отдельные годы к переполнению водохранилища, в результате чего приходится производить холостой сброс воды. Это иногда влечёт затопление ряда территорий ниже по течению реки. Самые массовые сбросы воды были произведены в 2007 и 2013 гг.

19. Притоком какой реки является Зeya, на которой построена ГЭС, о которой говорится в тексте?
20. Объясните, с чем связано обильное ежегодное выпадение атмосферных осадков в регионе в конце лета – начале осени, периодически приводящих к необходимости производить сбросы воды из Зейского водохранилища, о которых говорится в тексте.

Вариант 2

Часть А

1. Выберите правильный ответ

На каком материке находится самая полноводная река земного шара?

- 1) Африка
- 2) Южная Америка
- 3) Евразия
- 4) Северная Америка

2. Выберите правильный ответ

Какой из перечисленных городов – столица государства?

- 1) Венеция
- 2) Марсель
- 3) Нью-Йорк
- 4) Мадрид

3. Выберите несколько правильных ответов.

При строительстве в сейсмоопасных районах применяется особая технология. Сейсмостойкость каменных зданий обеспечивают многими конструктивными приёмами, например устройством железобетонных каркасов в оконных и дверных проёмах. В каких двух из перечисленных регионов России необходимо применять данные технологии?

- 1) Воронежская область
- 2) Смоленская область
- 3) Ханты-Мансийский АО – Югра
- 4) Республика Алтай
- 5) Камчатский край

4. Выберите правильный ответ

В каком из перечисленных морей солёность поверхностных вод наибольшая?

- 1) Красное
- 2) Чёрное
- 3) Средиземное

- 4) Карибское
5. Выберите несколько правильных ответов.
Какие два из перечисленных видов хозяйственной деятельности уменьшают выбросы в атмосферу «парниковых газов»? Запишите в таблицу цифры, под которыми указаны выбранные виды хозяйственной деятельности.
- 1) ввод в эксплуатацию крупных комбинатов цветной металлургии
 - 2) работа автомобильного транспорта
 - 3) развитие ветровой электроэнергетики
 - 4) производство электроэнергии на ТЭС, работающих на каменном угле
 - 5) использование солнечных батарей для электроснабжения
6. Выберите правильный ответ
Юрта – конический шатёр, остов которого стягивается для прочности узорчатками полосами, стены оборачиваются циновкой, а вся конструкция – войлоком. Юрта относится к числу выдающихся достижений кочевой цивилизации. Традиционным жилищем какого из перечисленных народов служит юрта?
- 1) буряты
 - 2) грузины
 - 3) молдаване
 - 4) болгары
7. В каких из приведённых высказываний содержится информация о воспроизводстве населения?
- 1) В 2018 г. в Уральском федеральном округе число родившихся превышало число умерших на 110 человек.
 - 2) В 2018 г. в РФ на постоянное место жительства из других стран прибыло 565 685 человек, из РФ в другие страны выбыло 440 831 человек.
 - 3) Средняя плотность населения в России в начале 2019 г. составляла примерно 8,6 человека на 1 км².
 - 4) В начале 2019 г. в РФ численность городского населения составляла 109,5 млн человек, сельского – 37,3 млн человек.
 - 5) В 2018 г. в Северо-Кавказском федеральном округе наблюдался естественный прирост населения: число родившихся составляло 141 841 человек, число умерших – 73 388 человек.
8. Выберите правильный ответ
Численность населения какой из перечисленных стран наименьшая?
- 1) Индия
 - 2) Австралия
 - 3) Индонезия
 - 4) США
9. Выберите несколько правильных ответов
Увеличение содержания в атмосфере каких двух из перечисленных газов приводит к усилению парникового эффекта?
- 1) кислород
 - 2) азот
 - 3) гелий
 - 4) углекислый газ
 - 5) метан

10. Выберите несколько правильных ответов

Тайфунами называются тропические циклоны – атмосферные вихри относительно малого диаметра (не более 300–400 км), достигающие силы урагана или шторма. В прибрежных районах тайфуны часто приводят к разрушениям, наводнениям, нагонам морских волн и другим катастрофическим последствиям. Территории каких двух из перечисленных регионов России могут пострадать от тайфунов? Запишите в таблицу цифры, под которыми указаны эти регионы.

- 1) Астраханская область
- 2) Республика Карелия
- 3) Сахалинская область
- 4) Ненецкий АО
- 5) Приморский край

11. Выберите несколько правильных ответов

В каких из приведённых высказываний содержится информация о барханах?

- 1) Подвижные песчаные холмы серповидной формы, наветренный склон их всегда пологий, а подветренный крутой; они меняют свою форму в зависимости от направления и скорости ветра и равномерности поступления того или иного количества песка.
- 2) У этих небольших округлых возвышений, вытянутых по направлению движения ледника, склоны, обращённые навстречу леднику, обычно бывают пологими.
- 3) Эти формы рельефа положительные, представляют собой подвижные скопления сыпучего песка, навеянные ветром, и слабо закреплённые или незакреплённые растительностью.
- 4) В результате продолжительного растворения известняка дождевой или талой снеговой водой, просачивающейся через трещины в пластах горных пород, образуются пещеры.
- 5) Это изолированные массивы горных пород, которые остаются после разрушения высоких гор под воздействием экзогенных процессов.

12. Выберите несколько правильных ответов.

Многолетняя мерзлота влияет на хозяйственную деятельность человека: разработку полезных ископаемых, строительство зданий. В каких двух из перечисленных регионов России необходимо учитывать последствия оттаивания многолетней мерзлоты?

- 1) Ростовская область
- 2) Красноярский край
- 3) Республика Тыва
- 4) Республика Башкортостан
- 5) Магаданская область

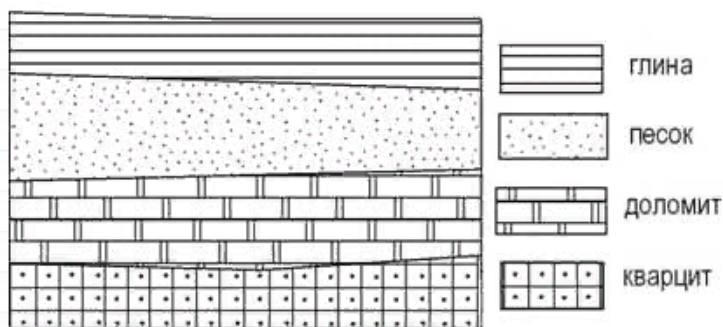
13. Выберите несколько правильных ответов.

В Приморском крае существует служба предупреждения населения о приближении цунами. На каких двух из перечисленных территорий России также необходима работа специальных служб, предупреждающих население о приближении цунами? Запишите в таблицу цифры, под которыми указаны эти территории.

- 1) полуостров Камчатка
- 2) полуостров Таймыр
- 3) архипелаг Новая Земля
- 4) Новосибирские острова

5) остров Сахалин

14. Во время экскурсии учащиеся сделали схематическую зарисовку залегания горных пород на обрыве в карьере.



Расположите показанные на рисунке слои горных пород в порядке увеличения их возраста (от самого молодого до самого древнего). Запишите в таблицу получившуюся последовательность цифр.

- 1) кварцит
 - 2) доломит
 - 3) песок
15. Вставьте название государства на место пропуска.

По реке Амур проходит Государственная граница РФ с _____.

16. Определите страну по ее краткому описанию.

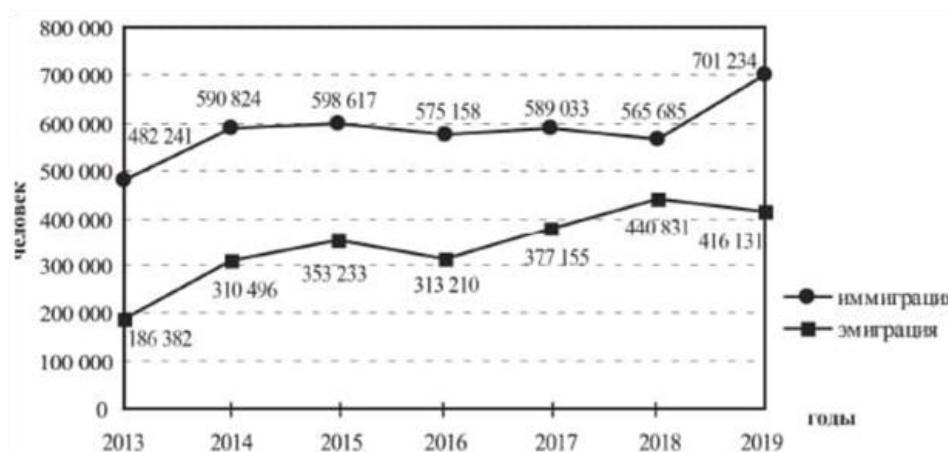
Эта страна находится на полуострове. Она относится к числу крупных по площади территории стран на материке, на котором она расположена. Большую часть её территории занимает плоскогорье. Преобладают пустынные ландшафты. В недрах сосредоточены крупные запасы нефти и природного газа. Большинство населения – арабы.

Часть В

17. Туристические фирмы разных регионов России разработали слоганы (рекламные лозунги) для привлечения туристов в свои регионы. Установите соответствие между слоганами и регионами: к каждому элементу первого столбца подберите соответствующий элемент из второго столбца. Ответ запишите в виде последовательности цифры и буквы.

Регионы	Слоганы
1) Ямало-Ненецкий АО	А) Здесь вас ждут прекрасные морские пляжи и южное солнце!
2) Новгородская область	Б) Окунитесь в полярную ночь, прокатитесь на собачьей и оленьей упряжках!
3) Вологодская область	
4) Краснодарский край	

18. Международная миграция в России за период 2013-2019 гг.



Определите величину миграционного прироста населения России в 2018 г.
 Ответ запишите в виде числа.

Часть С

Задания 19-20 выполняются с использованием приведённого ниже текста

Газопровод «Сила Сибири» связывает Иркутский и Якутский центры добычи природного газа с китайскими потребителями по так называемому восточному маршруту. Общая протяжённость газопровода составила около 3000 км, экспортная производительность – 38 млрд м³ газа в год. На первом этапе был построен участок от Чаяндинского нефтегазоконденсатного месторождения в Якутии до Благовещенска и далее через границу с Китаем. В 2019 г. состоялся пуск газопровода. Начались поставки российского газа в Китай. На втором этапе будет построен участок от Ковыктинского месторождения природного газа в Иркутской области до Чаяндинского месторождения – около 800 км. Планируется, что месторождение будет введено в эксплуатацию в 2022 г. На третьем этапе планируется расширение газотранспортных мощностей на участке от Чаяндинского месторождения до Благовещенска. Трасса газопровода проходит по территориям с экстремальными природными условиями, для его строительства требуются особые технологии.

19. В каком субъекте РФ проложен участок газопровода, который примыкает к российско-китайской границе?
20. В тексте говорится о Ковыктинском месторождении природного газа в Иркутской области. Приведите ещё один пример топливного полезного ископаемого, которое добывают на территории Иркутской области.

9. Эталоны ответов по вариантам

Вариант 1

1-2); 2-4); 3-1), 3); 4-4); 5-2), 4); 6-2); 7-3), 4); 8-3); 9-3), 5); 10-2), 4); 11-2), 4); 12-2), 4), 5); 13-3), 5); 14-2), 1), 3); 15-КНР; 16-4А, 1Б; 17-2019; 18-Канада; 19-Амур; 20- муссоны, приносящие влажные воздушные массы с Тихого океана, или активная циклоническая деятельность.

Вариант 2

1-2); 2-4); 3-4), 5); 4-1); 5-3), 5); 6-1); 7-1), 5); 8-2); 9-4), 5); 10-3), 5); 11-1), 3); 12-2), 3), 5); 13-1), 5); 14-3), 2), 1); 15-Китаем; 16-4А, 1Б; 17-124 854; 18- Саудовская Аравия; 19- Амурская область; 20- Каменный уголь (на территории области расположен Иркутский угольный бассейн)

10. Критерии оценки

Оценка 5 «отлично» - выполнено 100 % заданий части А + 50 % заданий части В + 50 % заданий части С

Оценка 4 «хорошо» - выполнено 75 % заданий части А + 50 % заданий части В

Оценка 3 «удовлетворительно» - выполнено 75 % заданий части А

Оценка 2 «неудовлетворительно» - выполнено менее 75 % заданий части А

**МИНИСТЕРСТВО ПРОФЕССИОНАЛЬНОГО ОБРАЗОВАНИЯ
И ЗАНЯТОСТИ НАСЕЛЕНИЯ ПРИМОРСКОГО КРАЯ**

**краевое государственное автономное
профессиональное образовательное учреждение
«Дальнегорский индустриально-технологический колледж»**

**КОМПЛЕКТ КОНТРОЛЬНО-ОЦЕНОЧНЫХ СРЕДСТВ
ОБЩЕОБРАЗОВАТЕЛЬНОЙ ДИСЦИПЛИНЫ (ПРЕДМЕТА)**

ОД.12 ФИЗИЧЕСКАЯ КУЛЬТУРА

подготовки специалистов среднего звена
код специальности 46.02.01 Документационное обеспечение управления и архивоведение

Дальнегорск, 2024 год

Комплект контрольно-оценочных средств разработан на основе Федерального государственного образовательного стандарта среднего общего образования с учетом Федерального государственного образовательного стандарта среднего профессионального образования по специальности 46.02.01 Документационное обеспечение управления и архивоведение базового уровня подготовки программы общеобразовательной дисциплины (далее – дисциплина) Физическая культура.

Разработчики:

Организация-разработчик: КГА ПОУ «ДИТК»

Разработчик: Бровченко Михаил Сергеевич, преподаватель.

Дифференцированный зачёт

1. Форма проведения: выполнение практических заданий, защита профессиограммы.

2. Условия выполнения

Время выполнения задания: 90 минут.

Оборудование спортивного зала: оборудование по видам спорта.

Технические средства обучения: нет.

Информационные источники:

1. Матвеев А.П., Палехова Е.С. Физическая культура. 10-11 класс: электронная форма учебника: Издательство "Просвещение", 2022.

2. Погадаев Г. И.; под ред. Акинфеева И. Физическая культура. Футбол для всех. 10-11 классы: электронная форма учебника: Издательство "Просвещение", 2023. Комплект электронных ресурсов/пособий:

3. Физическая культура (базовый уровень), Андрюхина Т.В., Третьякова Н.В. /Под ред. Виленского М.Я. – ООО «Русское слово», 2019 г.

4. Физическая культура. 10-11 классы: учебник для общеобразоват. организаций: базовый уровень / А.П. Матвеев. — М.: Просвещение, 2019. — 319 с.

5. Физическая культура. 10-11 классы: Учебник для общеобразоват. учреждений / Г.И. Погадаев. — М.: ДРОФА / Учебник, 2019. — 288 с.

6. Физическая культура. 10-11 классы: Учебник для общеобразоват. организаций: базовый уровень / В. И. Лях. — 6-е изд. — М.: Просвещение, 2019. — 255 с. <https://fk12.ru/books/fizicheskaya-kultura-10-11-klassy-lyah>

7. Физическая культура. 10-11 классы: Учебник для общеобразоват. учреждений / А.П. Матвеев, Е.С. Палехова. — М.: Вентана-Граф / Учебник, 2019. — 160 с.

8. Аллянов, Ю. Н. Физическая культура: учебник для среднего профессионального образования / Ю. Н. Аллянов, И. А. Письменский. — 3-е изд., испр. — Москва: Издательство

Требования охраны труда: выполнение требований безопасности во время выполнения спортивных упражнений (игр, элементов игры), норм санитарного законодательства.

3. Пакет материалов для проведения дифференцированного зачёта

3.1. Перечень разделов, выносимых на зачёт:

- Физическая культура, как часть культуры общества и человека (как социальное явление)

- Методические основы обучения различным видам физкультурно-спортивной деятельности

3.2. Перечень вопросов/нормативов, выносимых на дифференцированный зачёт:

1. Сдача контрольных нормативов по баскетболу

	отлично	хорошо	удовлетворительно
Штрафной бросок (10 попыток, кол.раз)	5	4	3
Бросок мяча в движении (10 попыток, кол. раз)	6	5	4

Время на подготовку и выполнение:

Подготовка 10 минут

Выполнение 10 мин

Всего 20 минут

2. Сдача контрольных нормативов по футболу

№ п/п	Виды испытаний	юноши		девушки	
		хорошо	отлично	хорошо	отлично
1.	Попадание мяча в ворота ударами правой и левой ногой (5 раз правой, 5 раз левой общее количество попаданий)	7	8	-	-
		-	-	6	7
2	Передача без остановки мяча в парах	8	10	-	-
		-	-	7	9

Время на подготовку и выполнение:

Подготовка 10 минут

Выполнение 10 мин

Всего 20 минут

Составление профессиограммы

Оценка 5 «отлично» - дано описание для получаемой специальности личных и профессиональных качеств, а также описание самой специальности, куда входят предполагаемые задачи, выполняемые операции, функции, свойственные для рабочего процесса. Форма составления профессиограммы (стандартный текстовый документ или видеоролик, инфографика, презентация и др.) выбрана в соответствии с полученным заданием. Правильно определен тип профессиограммы (методическая, информационная, диагностическая, конструктивная). Выполнены основные требования к профессиограмме (четкое выделение предмета и результата труда; профессиональная деятельность описана в целом, показана демонстрация возможных линий развития человека в данной профессии). Профессиограмма состоит из нескольких разделов, содержащих информацию о доминирующих видах профессиональной деятельности, личностных и деловых качествах работника, сущности специальности, карьерного продвижения и др.

Оценка 4 «хорошо» - выполнены требования к оценке «5», но были допущены два-три недочета; не более одной негрубой ошибки и одного недочета.

Оценка 3 «удовлетворительно» - работа выполнена не в полном объеме, но объем выполненной части работы позволяет получить часть результатов в соответствии с поставленной целью.

Оценка 2 «неудовлетворительно» - работа выполнена не полностью и объем выполненной части работы позволяет получить недостаточно результатов в соответствии с поставленной целью.

3. Перечень практико - теоретических заданий

Техника безопасности при занятиях легкой атлетикой

Беговые и прыжковые упражнения.

Бега на короткие, средние и длинные дистанции.

Прыжки в длину и в высоту.

Метание гранаты.

Техника безопасности во время занятий гимнастикой

Строевые упражнения

Построения и перестроения

Упражнения для профилактики профессиональных заболеваний (упражнения в чередовании напряжения с расслаблением, упражнения для коррекции нарушений осанки, упражнения на внимание, висы и упоры, упражнения у гимнастической стенки).

Упражнения для коррекции зрения.

Комплексы упражнений вводной и производственной гимнастики.

Теория лыжной подготовки. Преодоление подъемов и препятствий. Переход с хода на ход в зависимости от условий дистанции и состояния лыжни. Элементы тактики лыжных гонок: распределение сил, лидирование, обгон, финиширование и др. Основные элементы тактики в лыжных гонках. Правила соревнований. Техника безопасности при занятиях лыжным спортом. Первая помощь при травмах и обморожениях.

Правила спортивных игр (на выбор преподавателя из утвержденного перечня).

Индивидуальные действия игроков в защите и нападении. Командные действия игроков в защите и нападении.

Упражнения на скоростную выносливость.

Профессиограмма по специальности.

4. Критерии комплексной оценки ответов обучающихся

Оценка 5 «отлично» - получена оценка 5 «отлично» за защиту профессиограммы.

Правильно выполнено 85 – 100 % нормативов.

Оценка 4 «хорошо» - получена оценка 4 «хорошо» за защиту профессиограммы.

Правильно выполнено 70 – 84 % нормативов.

Оценка 3 «удовлетворительно» получена оценка 3 «удовлетворительно» за защиту профессиограммы. допустил много недочетов в выполнении нормативов.

Оценка 2 «неудовлетворительно» - получена оценка 2 «неудовлетворительно» за защиту профессиограммы. Правильно выполнено только 1 – 54 % нормативов.

5. Зачетная ведомость

МИНИСТЕРСТВО ПРОФЕССИОНАЛЬНОГО ОБРАЗОВАНИЯ
И ЗАНЯТОСТИ НАСЕЛЕНИЯ ПРИМОРСКОГО КРАЯ

**краевое государственное автономное
профессиональное образовательное учреждение
«Дальнегорский индустриально-технологический колледж»**

КОМПЛЕКТ КОНТРОЛЬНО-ОЦЕНОЧНЫХ СРЕДСТВ ДЛЯ ПРОВЕДЕНИЯ
СТАРТОВОЙ ДИАГНОСТИКИ ПО ОБЩЕОБРАЗОВАТЕЛЬНОЙ ДИСЦИПЛИНЕ

ОД.12 ФИЗИЧЕСКАЯ КУЛЬТУРА

подготовки специалистов среднего звена

код специальности 46.02.01 Документационное обеспечение управления и архивоведение

Разработчики:

Организация-разработчик: КГА ПОУ «ДИТК»

Разработчик: Бровченко Михаил Сергеевич, преподаватель

Комплект контрольно-оценочных средств разработан на основе Федерального государственного образовательного стандарта среднего общего образования с учетом Федерального государственного образовательного стандарта среднего профессионального образования по специальности 46.02.01 Документационное обеспечение управления и архивоведение базового уровня подготовки программы общеобразовательной дисциплины (далее – дисциплина) Физическая культура.

1. Условия проведения: стартовая диагностика.
2. Форма контроля: проверочная работа.
3. Количество вариантов для проведения стартовой диагностики: 1.
4. Время выполнения заданий: 30 минут.
5. Оборудование: спортивное оборудование, посадочные места для обучающихся в аудитории.
6. Учебно-методическая и справочная литература: не используется.
7. Условия приёма контрольных заданий преподавателем: письменно по завершении выполнения, практическая часть на занятии.
8. Порядок подготовки и проведения стартовой диагностики в рамках учебного занятия по расписанию, входной контроль преподаватель осуществляет самостоятельно.

Задания для обучающихся

1. Какие основные компоненты физической подготовки рекомендуется развивать при занятиях физкультурой?
 2. Какие виды растяжек наиболее эффективны для поддержания и улучшения гибкости?
 3. Какое значение имеет аэробная физическая активность и какие примеры её можно привести?
 4. Какие правила безопасности следует соблюдать при занятиях физкультурой и спортом?
 5. Как влияет регулярная физическая активность на общее здоровье человека?
 6. Выполнение нормативов
 9. Эталоны ответов
 1. Основные компоненты физической подготовки включают в себя силу, выносливость, гибкость и координацию.
 2. Эффективными видами растяжек являются статические и динамические растяжки. Статические растяжки удерживают положение в течение некоторого времени, в то время как динамические включают движение в процессе растяжки.
 3. Аэробная физическая активность способствует укреплению сердечно-сосудистой системы. Примеры включают в себя бег, плавание, велосипед, скандинавскую ходьбу и аэробику.
 4. Некоторые общие правила безопасности включают в себя правильную технику выполнения упражнений, использование защитного снаряжения, регулярные медицинские осмотры, контроль за пульсом и необходимость ухода за травмами.
 5. Регулярная физическая активность способствует улучшению кардиореспираторной функции, укреплению мышц и костей, поддержанию здорового веса, улучшению настроения, снижению стресса и улучшению общей жизненной энергии.
 6. Выполнение нормативов.
 10. Критерии оценки ответов обучающихся.
- Оценка 5 «отлично» - работа выполнена в полном объеме; учтены все требования к данной работе; самостоятельно поставлены цели и задачи работы, соответствующие заданной теме/проблеме; получены результаты в соответствии с поставленной целью.

Оценка 4 «хорошо» - выполнены требования к оценке «5», но были допущены два-три недочета; не более одной негрубой ошибки и одного недочета.

Оценка 3 «удовлетворительно» - работа выполнена не в полном объеме, но объем выполненной части работы позволяет получить часть результатов в соответствии с поставленной целью.

Оценка 2 «неудовлетворительно» - работа выполнена не полностью и объем выполненной части работы позволяет получить недостаточно результатов в соответствии с поставленной целью.

**МИНИСТЕРСТВО ПРОФЕССИОНАЛЬНОГО ОБРАЗОВАНИЯ
И ЗАНЯТОСТИ НАСЕЛЕНИЯ ПРИМОРСКОГО КРАЯ**

**краевое государственное автономное
профессиональное образовательное учреждение
«Дальнегорский индустриально-технологический колледж»**

**КОМПЛЕКТ КОНТРОЛЬНО-ОЦЕНОЧНЫХ СРЕДСТВ
ОБЩЕОБРАЗОВАТЕЛЬНОЙ ДИСЦИПЛИНЫ (ПРЕДМЕТА)**

ОД. 13 ОСНОВЫ БЕЗОПАСНОСТИ И ЗАЩИТЫ РОДИНЫ

подготовки специалистов среднего звена

код специальности 46.02.01 Документационное обеспечение управления и архивоведение

Дальнегорск, 2024 год

Комплект контрольно-оценочных средств разработан на основе Федерального государственного образовательного стандарта среднего общего образования с учетом Федерального государственного образовательного стандарта среднего профессионального образования по специальности 46.02.01 Документационное обеспечение управления и архивоведение базового уровня подготовки программы общеобразовательной дисциплины (далее – дисциплина) Основы безопасности и защиты Родины.

Разработчики:

Организация-разработчик: КГА ПОУ «ДИТК»

Разработчик: Пирогов Михаил Михайлович, преподаватель – организатор ОБЖ.

Дифференцированный зачёт

1. Форма проведения: письменная, тесты и задания с развернутым ответом.

2. Условия выполнения

Время выполнения задания: 90 минут

Оборудование учебного кабинета: материалы дифференцированного зачета, комплект учебно-наглядных пособий, комплект электронных видеоматериалов, задания для дифференцированного зачета, посадочные места по количеству обучающихся.

Технические средства обучения: нет.

Информационные источники:

1. Хренников Б. О., Гололобов Н. В., Льяная Л. И., Маслов М. В./ Под ред. Егорова С. Н. Основы безопасности жизнедеятельности. 10 класс: электронная форма учебника: АО "Издательство "Просвещение", 2023.

2. Хренников Б. О., Гололобов Н. В., Льяная Л. И., Маслов М. В./ Под ред. Егорова С. Н. Основы безопасности жизнедеятельности. 11 класс: электронная форма учебника: АО "Издательство "Просвещение", 2023.

Требования охраны труда: соблюдение СанПиН.

3. Пакет материалов для проведения дифференцированного зачёта

3.1. Перечень тем, контролируемых в ходе промежуточной аттестации.

Раздел 1. Безопасное и устойчивое развитие личности, общества, государства

Раздел 2. Основы военной подготовки

Раздел 3. Культура безопасности жизнедеятельности в современном обществе

Раздел 4. Безопасность в быту

Раздел 5. Безопасность на транспорте

Раздел 6. Безопасность в общественных местах

Раздел 7. Безопасность в природной среде

Раздел 8. Основы медицинских знаний. Оказание первой помощи

Раздел 9. Безопасность в социуме

Раздел 10. Безопасность в информационном пространстве

Раздел 11. Основы противодействия экстремизму и терроризму.

3.2. Образцы заданий для дифференцированного зачета

Задания для обучающихся

Часть А

1. Кто является Верховным главнокомандующим ВС РФ

а) Министр обороны РФ

б) Начальник Генштаба РФ

в) Генералиссимус

г) Президент РФ

2. К видам ВС РФ относятся:

а) ракетные войска стратегического назначения, артиллерийский войска, войска ПВО, мотострелковые войска

б) сухопутные войска, ВВС, ВМФ

в) сухопутные войска, ВДВ, танковые войска

3. Вооруженные силы – это

- а) вооруженная организация государства, одно из важнейших орудий политической власти
- б) составная часть государства, защищающая его рубежи от нападения противника, владеющая современной военной техникой и вооружением
- в) вооруженная система государства, обеспечивающая защиту его интересов, и находящаяся в постоянной боеготовности для отпора возможной агрессии со стороны другого государства

4. Боевые традиции – это

- а) правила и требования к несению военной службы и выполнению боевых задач
- б) исторически сложившиеся в армии и на флоте, и передающиеся из поколения в поколение правила, обычаи и нормы поведения военнослужащих, связанные с образцовым выполнением боевых задач и несением воинской службы
- в) специальные нормы, предъявляемые к психологическим и нравственным качествам военнослужащих в период прохождения военной службы

5. Закрепление за военнослужащим вооружений и военной техники осуществляется

- а) после приведения его к военной присяге
- б) после месячного изучения военной техники, находящейся на вооружении воинского подразделения
- в) после принятия от вновь прибывших военнослужащих зачетов по знанию вооружения и военной техники

6. Под увольнением с военной службы понимается

- а) установленное законом освобождение от дальнейшего несения службы в рядах ВС РФ, других войсках, воинских формированиях и органах
- б) снятие военнослужащего со всех видов довольствия
- в) убытие военнослужащего в краткосрочный отпуск

7. Что из перечисленного включается в составляющие здорового образа жизни:

- а) закаливание
- б) туристическая подготовка
- в) любовь к искусству

8. Укажите признак вовлечения человека в экстремистскую и террористическую деятельность:

- а) пропаганда субкультур
- б) вовлечение в экстремальные виды спорта
- в) выполнение поручений участников группы, связанных с нарушением закона

9. Укажите источник опасности, не относящийся в природной среде:

- а) вулкан
- б) наводнение
- в) землетрясение
- г) взрыв бытового газа

10. Приведите пример роли человека в борьбе с природными пожарами.

Часть В

11. Соотнесите воинские звания и погоны ВС РФ



- 1.
 - 2.
 - 3.
 - 4.
 - 5.
- а. Полковник;
 - б. Генерал-лейтенант;
 - в. Младший лейтенант;
 - г. Лейтенант;
 - д. Младший сержант.

12. Заполните пропуски в предложениях

- а) Система официально принятых в государстве взглядов на подготовку к вооруженной защите и вооруженную защиту Российской Федерации - _____
- б) Специальный воинский контингент в составе ВС РФ, созданный для участия в деятельности по поддержанию или восстановлению международного мира и безопасности - _____
- в) Составная часть вида вооружённых сил, включающая воинские формирования, которые имеют свойственные только им основное вооружение и военную технику, а также способы их боевого применения - _____

3. Заполните пропуски в предложении.

Попытки дестабилизировать обстановку в отдельных государствах и регионах и подорвать _____ стабильность, относится к основной _____ военной опасности:

Часть С

13. Перед вами плакат. О какой инфекции идет речь? Какие из перечисленных понятий «среда обитания человека», «санитарно-эпидемиологическая обстановка», «карантин», «вакцинация», «биологическая безопасность» могут подойти для составления рассказа, используя данный плакат?



14. Предположите, что вы выступаете с докладом о значении и порядке альтернативной гражданской службы. Кратко изложите главную мысль своего выступления.

4. Эталоны ответов

Часть А

1г, 2б, 3а, 4б, 5а, 6а, 7а, 8в, 9г, 10 – тушение пожаров.

Часть Б

11.1д, 2в, 3а, 4г,5б

12.Военная доктрина; миротворческие силы; род войск; стратегическую, внешний

Часть С

13. Плакат посвящен новой коронавирусной инфекции COVID-19. Понятия «среда обитания человека», «санитарно-эпидемиологическая обстановка, «карантин», «вакцинация», «биологическая безопасность» могут подойти для составления рассказа, используя данный плакат.

14Альтернативная гражданская служба – особый вид трудовой деятельности в интересах общества и государства, осуществляемой гражданами взамен военной службы по призыву. АГС – это оплачиваемая работа на государственном предприятии, оплачиваемый отпуск, больничный, выходные; трудовой стаж; жизнь дома с привычным досугом; возможность получения образования без отрыва от службы; право на дополнительный отпуск; срок службы 21 месяц; военный билет с учетно-воинской специальностью и званием рядовой.

Критерии оценки ответов

Оценка 5 «отлично» - выполнено 80 - 100 % заданий части А + 50 % заданий части В + 50 % заданий части С

Оценка 4 «хорошо» - выполнено 80 – 100 % заданий части А + 50 % заданий части В

Оценка 3 «удовлетворительно» - выполнено 80 -100 % заданий части А

Оценка 2 «неудовлетворительно» - выполнено менее 80 % заданий части А

5.Раздаточные материалы.

6.Зачетная ведомость.

МИНИСТЕРСТВО ПРОФЕССИОНАЛЬНОГО ОБРАЗОВАНИЯ
И ЗАНЯТОСТИ НАСЕЛЕНИЯ ПРИМОРСКОГО КРАЯ

**краевое государственное автономное
профессиональное образовательное учреждение
«Дальнегорский индустриально-технологический колледж»**

КОМПЛЕКТ КОНТРОЛЬНО-ОЦЕНОЧНЫХ СРЕДСТВ ДЛЯ ПРОВЕДЕНИЯ
СТАРТОВОЙ ДИАГНОСТИКИ ПО
ДИСЦИПЛИНЕ

ОД.13 ОСНОВЫ БЕЗОПАСНОСТИ И ЗАЩИТЫ РОДИНЫ

подготовки специалистов среднего звена

код специальности 46.02.01 Документационное обеспечение управления и архивоведение

Разработчики:

Организация-разработчик: КГА ПОУ «ДИТК»

Разработчик: Пирогов Михаил Михайлович, преподаватель

Комплект контрольно-оценочных средств разработан на основе Федерального государственного образовательного стандарта среднего общего образования с учетом Федерального государственного образовательного стандарта среднего профессионального образования по специальности 46.02.01 Документационное обеспечение управления и архивоведение базового уровня подготовки программы общеобразовательной дисциплины (далее – дисциплина) Основы безопасности и защиты Родины.

1. Условия проведения: стартовая диагностика.
2. Форма контроля: проверочная работа.
3. Количество вариантов для проведения контроля: 2.
4. Время выполнения заданий: 20 минут.
5. Оборудование: посадочные места для обучающихся, материалы проверочной работы.
6. Учебно-методическая и справочная литература: не используется.
7. Условия приема контрольных заданий преподавателем: работы будут проверены по завершению занятия.
8. Порядок проведения стартовой диагностики: во время занятия.

Задания для обучающихся по вариантам

Вариант 1

Инструкция: в заданиях 1-3 один правильный ответ. В задании 4 – несколько правильных ответов.

1. Какому понятию соответствует определение – «Состояние защищенности жизненно важных интересов личности, общества и государства от внутренних и внешних угроз»:
А) безопасность; Б) жизненно важные интересы; В) угроза безопасности.
2. Крайне необычная по сложности опасная ситуация, на грани несчастного случая это:
А) опасность; Б) опасное явление; В) экстремальная ситуация.
3. Опасное техногенное явление, происходящее по конструктивным, производственным, технологическим или эксплуатационным причинам, при котором происходят повреждения и разрушения машин, механизмов, транспортных средств, зданий и сооружений, но без гибели людей это:
А) авария; Б) катастрофа; В) чрезвычайная ситуация.
4. Какие виды ответственности предусмотрены за нарушение правил пожарной безопасности?
 - 1) дисциплинарная ответственность
 - 2) административная ответственность
 - 3) уголовная ответственность
 - 4) моральная ответственность
 - 5) материальная ответственность
5. Продолжите предложения:
А) Для защиты от неприятностей, связанных с электростатическим полем, необходимо _____.
Б) Заблаговременное предупреждение населения о возможных ЧС и их последствиях с помощью различных систем информации, сигнальных средств называется _____.

Вариант 1

Инструкция: в заданиях 1-3 один правильный ответ. В задании 4 – несколько правильных ответов.

1. Какому понятию соответствует определение – «Состояние защищенности жизненно важных интересов личности, общества и государства от внутренних и внешних угроз»:

А) безопасность; Б) жизненно важные интересы; В) угроза безопасности.

2. Крайне необычная по сложности опасная ситуация, на грани несчастного случая это:

А) опасность; Б) экстремальная ситуация; В) опасное явление.

3. Опасное техногенное явление, происходящее по конструктивным, производственным, технологическим или эксплуатационным причинам, при котором происходят повреждения и разрушения машин, механизмов, транспортных средств, зданий и сооружений, но без гибели людей это:

А) катастрофа; Б) авария; В) чрезвычайная ситуация.

4. Какие виды ответственности предусмотрены за нарушение правил пожарной безопасности?

- 1) дисциплинарная ответственность
- 2) административная ответственность
- 3) уголовная ответственность
- 4) моральная ответственность
- 5) материальная ответственность

5. Продолжите предложения:

А) Для защиты от неприятностей, связанных с электростатическим полем, необходимо _____.

Б) Заблаговременное предупреждение населения о возможных ЧС и их последствиях с помощью различных систем информации, сигнальных средств называется _____.

Вариант 2

Инструкция: в заданиях 1-3 один правильный ответ. В задании 4 – несколько правильных ответов.

1. Какому понятию соответствует определение – «Состояние защищенности жизненно важных интересов личности, общества и государства от внутренних и внешних угроз»:

А) жизненно важные интересы; Б) угроза безопасности; В) безопасность;

2. Крайне необычная по сложности опасная ситуация, на грани несчастного случая это:

А) опасность; Б) опасное явление; В) экстремальная ситуация.

3. Опасное техногенное явление, происходящее по конструктивным, производственным, технологическим или эксплуатационным причинам, при котором происходят повреждения и разрушения машин, механизмов, транспортных средств, зданий и сооружений, но без гибели людей это:

А) авария; Б) катастрофа; В) чрезвычайная ситуация.

4. Какие виды ответственности предусмотрены за нарушение правил пожарной безопасности?

- 1) дисциплинарная ответственность
- 2) административная ответственность

- 3) моральная ответственность
- 4) материальная ответственность
- 5) уголовная ответственность

5. Продолжите предложения:

А) Правила безопасности во время грозы _____.

Б) Заблаговременное предупреждение населения о возможных ЧС и их последствиях с помощью различных систем информации, сигнальных средств называется _____.

9. Эталоны ответов по вариантам.

Вариант 1

1А, 2В, 3А, 4-123, 5 А- использовать защитный фильтр – экран, с помощью которого можно почти полностью освободиться от электростатических полей; Б – оповещение.

Вариант 2

1В, 2Б, 3Б, 4-125, 5 А- необходимо избегать нахождения на открытых пространствах, под непокрытыми металлическими конструкциями или рядом с электропроводкой. Не осуществлять работу с электрическими приборами, отключить электроприборы от сети; Б – оповещение.

10. Критерии оценки

Оценка 5 «отлично» - правильно выполнены 4 -5 заданий.

Оценка 4 «хорошо» - правильно выполнены 3-4 задания.

Оценка 3 «удовлетворительно» - правильно выполнены 2 задания.

Оценка 2 «неудовлетворительно» - правильно выполнены 0 -1 задание.